



T.C.
MİLLÎ EĞİTİM BAKANLIĞI
YARIŞ ORTAOKULU

2017 - 2018
7. SINIF DEĞERLENDİRME SINAVI -1-
(SÖZEL BÖLÜM)

Adı ve Soyadı :

Sınıfı :

Numarası :

- Bu sınav, 2017 - 2018 Eğitim Öğretim yılı Yarış Ortaokulu öğrencilerinin kavrama düzeylerini ölçmek amacıyla hazırlanan "Değerlendirme Sınavı"dır.
- Sınav süresi 75 dakikadır.
- Bu kitapçıkta 50 soru yer almaktadır. Sözel bölüm soru dağılımı aşağıdaki şekildedir.

- Türkçe : 20 soru
- Sosyal Bilgiler : 10 soru
- Din Kültürü ve Ahlâk Bilgisi : 10 soru
- Yabancı Dil : 10 soru

TÜRKÇE TESTİ

1. Yarış Ortaokulu 8/A sınıfının haftalık ders programında cuma günkü dersleri ve ders saatleri:

Dersin Adı	Ders Saati
Müzik	1
Matematik	2
Görsel Sanatlar	1
Türkçe	1
Teknoloji ve Tasarım	2

- Günde yedi saat ders vardır.
- İki saatlik dersler arka arkaya gelecek şekilde planlama yapılmıştır.
- Görsel sanatlar, müzik, teknoloji ve tasarım dersleri ilk iki saate gelmeyecek şekilde planlama yapılmıştır.
- Matematik dersi ise yedinci derse gelmeyecek şekilde planlama yapılmıştır.
- 3. ders müzik, 5. ders teknoloji ve tasarım dersidir.

Verilen bilgilerden hareketle aşağıdakilerden hangisi **kesinlikle** doğrudur?

- A) Türkçe 4. derstir.
 B) Teknoloji ve tasarım 6. derstir.
 C) Matematik 1,2. derstir.
 D) Görsel sanatlar 7. derstir
2. Eğitim için bu üniversiteyi salık verdikleri zaman anlamıştım beni önemsediklerini.

Altı çizili söz grubunun ifade ettiği anlam aşağıdakilerden hangisidir?

- A) Görmek
 B) Tanıtmak
 C) Öğüt vermek
 D) Tavsiye etmek

Dünya üzerinde bulunan kaktüslerin cactaceae familyası içerisinde yaklaşık 2000 türü vardır. Kaktüs kelimesi Antik Yunancadaki kaktos sözcüğünden gelmektedir. Kaktüslerin ana vatanı Amerika'dır. Yalnızca bir türü Afrika ve Srilanka'da yetişir. Kaktüslerin bazıları ağaç bazıları da çalimsi formdadır. Tropikal bölgede yer alan kaktüsler, tırmanıcı ya da epifit olarak gelişme gösterir. Bu türler içerisinde yer alan Hylocereus türü 100 metreye kadar tırmanabilir.

3. Yukarıdaki metnin anlatım biçimi aşağıdakilerden hangisidir?

- A) Açıklama
 B) Tartışma
 C) Betimleme
 D) Öyküleme

Sevginin olmadığı yerde saygıdan,
 Saygının olmadığı yerde hoşgöründen,
 Hoşgörünün olmadığı yerde barıştan söz edilemez...

4. Yukarıdaki metinden çıkarılabilecek **en kapsamlı yargı** aşağıdakilerden hangisidir?

- A) Hoşgörü için saygı gerekir
 B) Sevgi saygıyı beraberinde getirir.
 C) Barış için önce sevgi gerekir.
 D) Hoşgörünün olmadığı yerde barış da yoktur.

5-7. soruları aşağıdaki metne göre yanıtlayınız.

Kehribar taşı, 40 milyon yıl önce ölen ağaçların fosilleşmiş reçinesidir. Öyle ki kehribarlar, tarih öncesi böcekleri bile içinde saklamıştır. İnsanların binlerce yıldır deniz kıyılarından, akarsulardan, alüvyon ve hatta bataklıklar arasından topladıkları bu değerli taş yeryüzünden silinen onlarca farklı ağaç türünün insanlığa armağanı olmuştur. Peki bir fosilden mücevher yaratmak... İnanın bu çok daha zor. Polonya, dünyanın kehribar ülkesi olarak kabul edilmekte. Sadece kehribarların sergilendiği müzeleri bile görmek mümkün. Kehribarın 256 farklı tonu bulunmaktadır. Taş çağından beri güzelliği kadar değerli olan kehribar taşı 150 dereceye kadar ısıtılırsa yumuşar, ısıtılan kehribar rengini değiştirerek kızılılaşır. Hatta Almanlar taşın bu özelliğini keşfetmiş olacak ki kehribarı “yanan taş” olarak adlandırmışlardır. Oluşumu çok uzun yıllar süren kehribarların en bilinenleri damla kehribar, fosil kehribar, sıkma kehribar ve ateş kehribar çeşididir. Bugün çoğunlukla takı, tesbih ve süs eşyalarında gördüğümüz kehribar, geçmiş zamanlarda boğmaca tedavisinde kullanılmıştır. Antik Roma döneminde akıl hastalıklarının tedavisinde kullanılan kehribar Çin’de sakinleştirici, ağrı kesici bir ilaç olarak kullanılırken Almanlar ise kehribar tanelerini bebeklerin üzerine koyarak dişlerinin acısız ve güçlü çıkmasını sağlamıştır.

“Amber” adı ile de bilinen kehribar, özellikle çağımızın hastalığı olan çeşitli sinir hastalıkları, ani öfke nöbetleri, duygusal travmalar ve depresyona neden olabilecek etkenleri engeller, bireyin ruhsal ve zihinsel olarak rahatlamasına yardımcı olur. Aynı zamanda yapılan araştırmalar sonucu kehribarın, kalp krizi riskini minimuma indirdiği açıklanmıştır. Peki bu kadar değerli ve sağlık açısından faydalı kehribar taşının gerçeğini sahtelerinden nasıl ayırt ederiz?

Küçük bir pamuk parçasına birkaç damla aseton damlatın ve kehribar tanesinin üzerine bırakın. Aseton buharlaştıktan sonra gerçek kehribarda hiçbir etki görülmez. Sahte kehribarda ise yapışkan bir yüzey oluşacak ve parmak iziniz sahte kehribar tanesi üzerinde kalacaktır.

5. Kehribar taşı ile ilgili:

- I. Gerçek kehribar taşına aseton döküldüğünde yapışkan bir yüzey oluşmaz.
- II. Kehribar taşı boğmaca tedavisinde kullanılmıştır.
- III. Yapılan araştırmalar, kehribar taşının kalp krizi riskini ortadan kaldırdığını kanıtlamıştır.
- IV. Kehribar taşı, süs eşyası yapımında kullanılmaktadır.
- V. Kehribar taşı en çok Polonya’da çıkarılmaktadır.

Verilenlerden hangileri çıkarılamaz?

- A) I – III
- B) IV – V
- C) II – IV
- D) III – V

6. Kehribar taşı ile ilgili aşağıdakilerden hangisine değnilmemiştir?

- A) Hangi hastalıkların tedavisinde kullanıldığına
- B) Hangi eşyaların yapımında kullanıldığına
- C) Hangi hayvan fosillerinden oluştuğuna
- D) Gerçeğinin sahtesinden nasıl ayırt edildiğine

7. Kehribar taşının “yanan taş” olarak adlandırılmasının sebebi nedir?

- A) Isı verildiğinde renk değiştirdiğinden
- B) Verilen yüksek ısılara rağmen şekil değiştirmedikinden
- C) Daha çok volkanik arazilerde bulunmasından
- D) Sinir hastalıklarına iyi gelmesinden

8-10. soruları aşağıdaki metne göre yanıtlayınız.

Kahvaltılarımızın vazgeçilmez yiyeceğidir simit. Türkiye ve Yunanistan'da çok sevilen bir unlu mamuldür. Ülkemizde fakir kebabı olarak nitelendirilen simit zengin fakir herkesin tükettiği bir yiyecek halini almıştır. Osmanlılar zamanında Evliya Çelebi'nin Seyahatnamesinde simid-i halka olarak adlandırılan simidin büyüklüğünün araba tekerleği kadar olduğunu yazmaktadır. Yunanistan'da gevrek olarak bilinen simidin fiyatı ekmek fiyatını geçse de simit tüketmeye devam edeceğiz.

Simidi ile meşhur olan illerimiz de vardır () Ankara () İstanbul () Kastamonu, Samsun() En meşhuru ise Ankara Simidi'dir.

8. Simitle ilgili:

- I. Yunanistan'da çok sevilen bir yiyecektir.
- II. İlk Osmanlılar tarafından yapılmıştır.
- III. Sadece Türkiye ve Yunanistan'da üretilmektedir.
- IV. Bazı illerin simidi meşhurdur.
- V. Fiyatı arttığı için zengin kesim tarafından tüketilmeye başlamıştır.

Verilenlerden hangileri ulaşılabilir?

- | | |
|-----------|-------------|
| A) I – V | B) II – III |
| C) I – IV | D) III – IV |

9. Parantezle gösterilen yerlere sırasıyla aşağıdaki noktalama işaretlerinden hangileri getirilmelidir?

- A) (.) (,) (,) (...)
- B) (.) (,) (,) (.)
- C) (:) (,) (,) (.)
- D) (:) (,) (,) (...)

10. Bu metinde yazım yanlışlığı hangi değişiklikle düzeltilebilir?

- A) “Ankara Simidi'dir” ifadesi “Ankara simididir” şeklinde düzeltilmelidir.
- B) “Osmanlılar” ifadesi “Osmanlı'lar” şeklinde düzeltilmelidir
- C) “unlu mamul” ifadesi “unlu mamül” olarak düzeltilmelidir.
- D) “simidi” “simidin” ifadeleri “simiti” “simitin” olarak düzeltilmelidir.

11. Aşağıdaki cümlelerin hangisinde deyim açıklamaya uygun kullanılmamıştır?

- A) Uzun zamandır bu yöntemle çalışıyorsun, böylesi tehlikeli bir zamanda yöntem değiştirme. “Irmağı geçerken at değiştirme” derim.
- B) Hem veterinerlik yapıp hem de köyde hayvancılık yapamazsın. “İki cambaz bir ipte oynamaz.” oğlum.
- C) Yan masadaki konuşmalara katılmıyorum ama dinliyorum. Kulak misafiri oluyorum.
- D) Olur olmaz şeylere öfkelenip kendine zarar veriyorsun. “Keskin sirke küpüne zarar.” hiç duymadın mı bu sözü?

12,13. soruları aşağıdaki metne göre ,
yanıtlayınız.

Zamanı durdurabileniniz var mı? Su gibi akıp gidiyor zaman değil mi? Ortalama bir insan ömrünün 60-70 yıl olduğu düşünülürken insanların ömürlerinin büyük bir bölümünü bir şeyler elde etme hırsıyla geçirdiği kanaatindeyim. Onu aldım, bunu aldım, şunu da almalıyım gibi isteklerle geçip gidiyor hayat. Peki bunların ne kadarını bu dünyadan giderken götürebiliyorsunuz? Kazandıklarınızı beyaz bir bez parçasına sığdıramıyorsunuz maalesef. Bu nedenle para kazanma yerine gönül kazanma derdine düşün. 60-70 yıl sonra geriye baktığınızda ne kadar malım mülküm vardan ziyade ne kadar gönül kazanmışım sorusunu sormalısınız kendinize.

12. Metnin türü nedir?

- A) Söyleşi
- B) Deneme
- C) Makale
- D) Anı

13. Metinde altı çizili eylemle yapı bakımından özdeş olan bir eylem aşağıdakilerden hangisinde kullanılmıştır?

- A) Bu kadar işin arasında bir de senin için koşturuyoruz.
- B) Geleceğimize umut olacak kütüphaneyi bu hafta açtık.
- C) Şu aralar o kadar yoğunum ki yaşananları hatırlamıyorum.
- D) Projenin detayları ne ara basına sızdırıldı.

Gerçekler güneş gibidir,
Bazen sıcacık ısıtır içinizi,
Bazen de yakıp kavurur sizi,
Önemli olan gerçeklerle yaşayabilmektir.

14. Yukarıdaki dördlükten aşağıdaki ifadelerden hangisine ulaşamaz?

- A) Her gerçek doğruyu yansıtmayabilir.
- B) Bazı gerçekler insanların hoşuna gider.
- C) Gerçekleri kabullenmek gerekir.
- D) Bazı gerçekler insanlara acı verir

15. Sabahın erken saatlerinde hızlı adımlarla okula gidiyormuş.

Yukarıdaki cümle için verilenlerden hangisi yanlıştır?

- A) Kılış fiili kullanılmıştır.
- B) Birden fazla zarf vardır.
- C) Basit yapıli fiil kullanılmıştır.
- D) Ek fiil almış sözcük vardır.

16. Aşağıdaki cümlelerin hangisinde dolaylı anlam vardır?

- A) Bu sınavda başarılı olacağımı düşünüyorum.
- B) Hayatın da bir sınav olduğunu söyledi.
- C) Hayatta başarılı olmak için çalışmak gerekir.
- D) Başarının temel şartı planlı olmaktır.

17-20 soruları aşağıdaki bölümlere göre yanıtlayınız.

1	Bu kazalardan çıkarılan dersler ışığında güvenlik kültürü kavramı gündeme geldi. Tüm dünyada daha güvenli nükleer santrallerin kurulması ve işletilmesi için hem idari hem de teknik açıdan gelişmeler yaşandı. Bir yandan nükleer düzenleme ve denetleme kurumları kurularak yürütülen faaliyetlerin takibi ve kontrolü yapılmaya başlandı; diğer taraftan ise daha güvenli sistem ve ekipmanların üretimi için yeni teknikler, teknoloji ve kalite sistemleri geliştirildi.
2	Nükleer enerji, büyük atomların parçalanması ya da küçük atomların birleşmesi sonucu açığa çıkan enerjidir. 1879 yılında uranyumun keşfi ile başlayan ve 1934 yılında atomun kontrollü bir şekilde parçalanması ile devam eden süreçte günümüzdeki nükleer teknolojinin temelleri atıldı. Diğer birçok teknolojik gelişmede olduğu gibi önce askeri savunma alanında başlayan çalışmalar daha sonra ticari olarak meyvelerini vermeye başladı. ABD ve Rusya nükleer enerjiden faydalanılmak için yoğun çalışmalar yapan ülkelerdendir. Bu çalışmaların neticesinde atomların parçalanması sonucu açığa çıkan ısı enerjisini elektrik enerjisine dönüştürecek sistemler geliştirilmiştir.
3	Nükleer santrallerin yaygınlaşması 1970'li yılların başındaki petrol krizi ile birlikte başladı. Petrol ve diğer hidrokarbon kaynaklar bakımından fakir ülkeler, bu kaynaklara olan bağımlılıklarını azaltmak ve enerji arz güvenliklerini temin etmek için nükleer santrallere yöneldiler. Nükleer santraller tüm dünyada hızlı bir şekilde işletmeye alınırken, 1979 yılında ABD'de yaşanan Three Mile Island (TMI) ve 1986 yılında Sovyet Rusya'da yaşanan Çernobil kazaları ile görece bir yavaşlama olsa da nükleer santraller tüm dünyada kurulmaya devam etti..
4	Türkiye'de ise nükleer güç santrali kurma hedefi, T.C. Hükümeti ile Rusya Federasyonu arasında Akkuyu sahasında bir nükleer güç santralini tesisine ve işletimine dair iş birliğine ilişkin anlaşmanın 12 Mayıs 2010 tarihinde imzalanmasıyla gerçekleşmeye başlamıştır. Türkiye'nin ikinci nükleer santral projesi olan Sinop Nükleer Santrali için 3 Mayıs 2013 tarihinde Japonya ile nükleer santral yapımı ve iş birliğine ilişkin hükümetler arası anlaşma imzalanmıştır. Bu konuda çalışmalar devam etmektedir.

17. Numaralı bölümlerden bir metin oluşturulduğunda sıralama nasıl olur?

- A) 3 – 1 – 2 – 4
- B) 2 – 3 – 1 – 4
- C) 1 – 2 – 4 – 3
- D) 2 – 1 – 3 – 4

18. 2 numaralı bölümde aşağıdaki düşüncüyü geliştirme yollarından hangisine başvurulmuştur?

- A) Tanımlama
- B) Örnekleme
- C) Karşılaştırma
- D) Tanık gösterme

19. 1 numaralı bölümün dil ve anlatımı için aşağıdakilerden hangisi söylenemez?

- A) Sebep – sonuç cümlesi kullanılmıştır.
- B) Amaç – sonuç cümlesi kullanılmıştır.
- C) 1. anlatıcı tarafından anlatılmıştır.
- D) Nitelik bildiren sözcükler kullanılmıştır.

Dünyanın en masumları çocuklar değil miydi? Peki o zaman Arakan'da, Somali'de, Suriye'de çocuklar neden ölüyor? Söyleyeyim, açlıktan, savaşta ve inançlarından dolayı bu masumlar ölüyor. Türk milleti olarak bu çocuklar için elimizden geleni yapmaya çalışıyoruz. Yalnız yeterli oluyor mu sizce? Tabii ki olmuyor, sadece bir milletin yardımıyla kurtaramayız bu çocukları. Dünyadaki bütün milletler birleşmediği sürede bu çocuklar ölmeye devam edecek. Bu çocuklar kendi istekleriyle dünyada gelmedi. Bu bölgede yaşamayı da onlar seçmedi. İçinde birazcık çocuk sevgisi olanlar haydi gün yardım günü, kurtaralım bu masumları.

20. Yukarıdaki paragraf ile ilgili verilenlerden hangisi **yanlıştır**?

- A) Şimdiki zamanla çekimlenmiş fiil vardır.
- B) İstek kipiyle çekimlenmiş fiil vardır.
- C) Geniş zamanla çekimlenmiş fiil vardır.
- D) Emir kipiyle çekimlenmiş fiil vardır.

SOSYAL BİLGİLER TESTİ

1. "...Basın, milletin genel sesidir. Bir milleti aydınlatma ve uyarmada, bir millete gereksindiği fikir gıdayı vermekte, özet olarak bir milletin mutluluk hedefi olan ortak doğrultuda yürümesini teminde, basın başlı başına bir kuvvet, bir okul, bir rehberdir."

Utkan Kocatürk, Atatürk'ün Fikir ve Düşünceleri, s. 344.

Atatürk'ün yukarıdaki sözünden aşağıdakilerden hangisi çıkartılamaz?

- A) Basın bir eğitim aracıdır
B) Basın kamuoyu oluşturur
C) Basın insanları yönlendirir
D) Basın sadece iyi fikirleri etkiler
2. Kırdan kente yapılan göçler, şehirlerde nüfusun çok fazla artmasını sağlar. Nüfusun hızlı artışı, konut yetersizliğine neden olur. Göç sonucu yerleşim alanı büyür, sanayi tesisleri şehrin merkezinde kalır. Yakın çevredeki tarım alanları farklı amaçlar için kullanılmaya başlar. Hastaneler ihtiyaca cevap veremez duruma gelir.

Yukarıda göç ile ilgili verilen bilgide aşağıda verilen alanların hangisi ile ilgili bilgiye ulaşılabilir?

- A) Kültürel
B) Ekonomik
C) Sosyal
D) Kentleşme

3. I. Anadolu'nun kesin Türk yurdu olmasını sağlayan zafer
II. Anadolu da ticareti geliştirmek için yapılan kurumlar
III. Osmanlı Devleti'nin Avrupa da kalıcı olmak için uyguladığı politika
IV. Anadolu'ya keşif amacıyla akınlar düzenleyen hükümdar

Yukarıdaki bilgileri karşılayan seçenek aşağıdaki hangisinde verilmiştir?

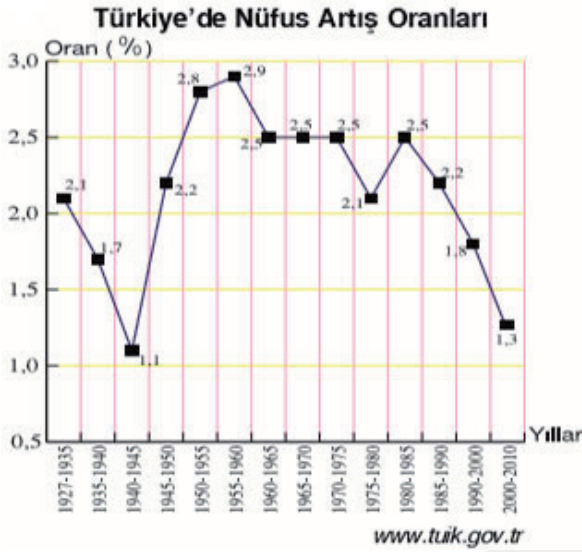
	I	II	III	IV
A)	Miryakefalon	Kervansaray	İskan politikası	Çağrı Bey
B)	Malazgirt	Kervansaray	İskan politikası	Alpaslan
C)	Miryakefalon	İmarathane	Hoşgörü politikası	Alpaslan
D)	Malazgirt	İmarathane	Hoşgörü politikası	Çağrı Bey

4. I. II. Mahmut döneminde ayanlarla Sened-iltifak imzalandı.
II. Osmanlı Devleti, Avrupa'yı örnek almaya
III. Selim döneminde başladı.
III. Osmanlı Devleti'nin ilk resmi gazetesi Ceride-i Havadis'dir.
IV. Osmanlı deniz kuvvetlerinin başında bulunan kişiye Kaptan-ı Derya denir.

Yukarıdaki ifadelerin doğru olanlara "D", yanlış olanlar "Y" harfi ile işaretlenirse hangi seçenekte doğru verilmiştir?

- A) D-D-Y-Y
B) D-Y-D-Y
C) Y-Y-Y-D
D) D-Y-Y-D

5.



Dönemi	Önceki Döneme Göre Durumu	Nedenler
1935-1945	azalma	
1950-1960	artma	Ekonomik yatırımlar
1960-1975	azalma	Yurt dışına işçi göçleri
1975-1980	azalma	Ülke içi sosyal sorunlar
1980-1990	artma	
1990 Sonrası		Nüfus ve aile planlaması çalışmaları ve eğitim seviyesinin yükselmesi

Yukarıda Türkiye’ nin nüfus grafiği ve bu grafiğe bağlı olarak çıkarım tablosu verilmiştir.

Tabloda boş bulunan alanlara aşağıdakilerden hangisi sırasıyla getirilmelidir?

- A)

Askeri darbe
Doğum oranlarının artması
Artar

 B)

Salgın hastalıklar
göç
Azalır
- C)

II. Dünya savaşı
Sağlık ve ekonomik yatırımlar
Azalır

 D)

Doğal afetler
Eğitimsizlik
Azalır

6. yy. da Göktürk ülkesini gezen Bizans elçisi Zemarkhos; Yabgu altın tahtlar üzerinde oturuyordu. Bu tahtlar gerektiğinde at ile çekilebilecek tekerleklerle sahipti.

10. yy. da Uygur ülkesini gezen Çin’li seyyah; Uygur ülkesinde fakir insan yoktu. Yiyecekleri olmayanların imdadına da devlet ve halk koşardı.

13. yy da Anadolu’ya gelen Marco Polo; Üç grup insan yaşıyordu Türkiye’de. Türkmenler, Ermeniler ve Yunanlılar.

Yukarıdaki seyyahların verdiği bilgilerden aşağıdaki ifadelerden hangisi yada hangilerine ulaşılabilir?

- I. Toplum da yardımlaşma değeri vardır.
II. Ekonomik olarak toplum iyi bir durumdadır
III. Devletin sosyal yapısından söz edilmiştir.
IV. Ülke yönetimi kurultay tarafından yürütülür

- A) I-II B) I-II-III
C) I-IV D) Hepsi

7. Evliya Çelebi seyahatnamesinde Trabzon şehrinden bahsederken; Şehrin suyu ve havası çok güzeldir. Burada kış olmaz gayet ılıktır. Denizlerin de levrek, kefal balığı gayet lezzetlidir, en önemli balıkları ise hamsidir, hamsinin kırk çeşit yemeğini pişirirler.

Evliya Çelebi’ye ait seyahatname deki bilgilerden yola çıkarak aşağıdaki bilgilerden kaç tanesine ulaşılabilir?



- A) Hepsi B) 2
C) 3 D) 4


8.

1	Pusulanın kullanılması	A	Rönesans
2	Barutun kullanılması	B	Laik eğitim
3	Matbaanın kullanılması	C	Coğrafi keşifler
4	İncil'in ulusal dillere çevrilmesi	D	Derebeyliğin yıkılması
5	Reform	E	Reform

Yukarıdaki tablo da verilen gelişmeleri rakam ve harf eşleştirmesi yaparsak hangi seçenek doğru olur?

- A) 1-C, 2-D, 3-E, 4-A, 5-B
 B) 1-E, 2-A, 3-B, 4-C, 5-D
 C) 1-C, 2-D, 3-A, 4-E, 5-B
 D) 1-C, 2-D, 3-B, 4-E, 5-A

9.

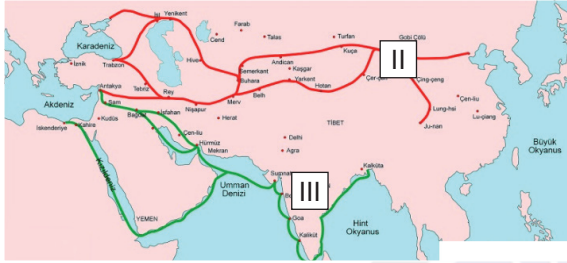


Eski çağlardan kalma tekerlek örneklerinin birinin yanında şöyle yazıyordu: "Tonlarca yükü kolayca dağ başına çıkardık." Tekerleğin yanında şu bilgilere de rastlıyoruz: "Birçok kişiye göre tekerleğin ilk kullanıldığı yer MÖ 3700'lü yıllarda Mezopotamya'da Sümer Uygarlığıdır. Tekerleğin ilk örneğinin çömlek yapımında kullanılan çömleğe tekerleği olduğu kabul edilmektedir. İnsanlar ağır nesnelere yuvarlak kütükler ve taşlar üzerinde kaydırmanın daha kolay olduğunu gördüler. Taşınacak nesnelere yerle teması kesildiği için daha kolay taşınabiliyor, ipler aracılığıyla istenen yöne götürülebiliyordu. Tekerlek, daha sonra insanların kara taşımacılığı ve uluslararası ticaret yapmalarını kolaylaştırmıştır. Farklı ülkelere daha hızlı ve daha çok mal götüren tüccarlar, bilgi birikimini de kültürden kültüre taşıdılar. Daha sonra, Mısır'da ve Çin'de de tekerleğin kullanıldığını görmekteyiz.

Yukarıda yer alan tekerlekle ilgili paragraftan yola çıkarak aşağıdaki bilgilerden hangisine ulaşamaz?

- A) Tekerlek farklı ülkelerde farklı zamanlar da geliştirilmiştir.
 B) Ticaretin gelişmesini sağlamıştır.
 C) Tekerlek ulaşım teknolojisinin gelişmesini sağlamıştır.
 D) Tekerlek bilginin aktarımını sağlamıştır.

10.



Yukarıdaki haritalar da yer alan ticaret yolları hangi seçenekte verilmiştir?

	I	II	III
A)	İpek yolu	Kral yolu	Baharat yolu
B)	Baharat yolu	Kral yolu	İpek yolu
C)	Kral yolu	Baharat yolu	İpek yolu
D)	Kral yolu	İpek yolu	Baharat yolu

YARIŞ ORTAOKULU MÜDÜRLÜĞÜ - 1. DENEME SINAVI

SOSYAL BİLGİLER TESTİ BİTTİ.
DİĞER TESTE GEÇİNİZ.

DİN KÜLTÜRÜ VE AHLÂK BİLGİSİ TESTİ

1. Bir keresinde Medine'nin ileri gelen ailelerinden birine mensup bir kadın hırsızlık yapmıştır. Bazı kimseler Hz. Peygamberden bu kadının cezalandırılmamasını isteyince Hz. Peygamber bu isteğe çok kızarak ".....Allah'a yemin ederim ki hırsızlık yapan kızım Fatıma bile olsa onu da aynı şekilde cezalandırırdım."
- şeklinde konuşması Peygamberimizin hangi yönünü ortaya koymaktadır?**
- A) Tevazu
B) Adalet
C) Hoşgörü
D) İnfak
2. Yüce kitabımız Kur'an'ın "**Küçümseyerek insanlardan yüz çevirme ve yeryüzünde böbürlenerek yürüme. Zira Allah, kendini beğenmiş, övünüp duran kimseleri asla sevmez.**" şeklindeki uyarısında eleştirilen davranış aşağıdakilerden hangisidir?
- A) Kibir
B) Haset
C) Taassup
D) Gıybet
3. Yağmur, kar, rüzgar vb. doğa olaylarını Allah'ın izniyle düzenlemekle görevli melek aşağıdakilerden hangisidir?
- A) Münker-Nekir
B) Mikail
C) Kiramen katibin
D) İsrail
4. **İslam'a göre akıllı, sağlıklı, ergenlik çağına gelmiş her Müslüman'ın ramazan ayında oruç tutmasının hükmü nedir?**
- A) Farz
B) Vacip
C) Sünnet
D) Müstehap
5. Ramazan ayı geldiğinde camilerin minarelerine "**Oruç tut sıhhat bul.**" şeklinde çeşitli yazılar asılır. İki minare arasında veya camilere asılan ramazan ve oruçla ilgili bu yazılara ne ad verilir?
- A) Ayet
B) Hadis
C) Mahya
D) İmsakiye
6. "**Ey insanlar! Gerçekten ben sizin hepinize, göklerin ve yerin sahibi olan Allah'ın elçisiyim. O'ndan başka tanrı yoktur...**" buyrulması ile Hz. Muhammed'in (SAV) özellikle hangi yönü anlatılmıştır?
- A) İnsani yönüne
B) Peygamberlerin sonuncusu olduğuna
C) Kur'an'ı açıklamakla görevli olduğuna
D) Peygamberlik görevinin evrensel olduğuna

7. I. Hanefilik
II. Mevlevilik
III. Malikilik
IV. Kadirilik
V. Şafilik
VI. Hanbelilik

Yukarıda verilen yorumlardan hangileri Fıkhi Yorum biçimlerindedir?

- A) I-III-V-IV
B) I-II-IV-VI
C) I-III-V-VI
D) I-II-IV-V

8. **Sözlükte; bilmek , kavramak, anlamak, derin bilgi sahibi olmak anlamına gelir. Dini bir terim olarak; İslam'ın , ibadetler, ticaret, evlilik, boşanma, aile hukuku, miras vb. hükümlerini dayanaklarıyla ortaya koyan ilim dalına ne ad verilir?**

- A) Kelam
B) Fıkıh
C) Tefsir
D) Siyer

9. - Maturidilik
- Eş'arilik
- Şiilik

Yukarıda görüldüğü gibi İslam dünyasında ortaya çıkan yorum biçimlerine ne ad verilir?

- A) İnançla ilgili yorumlar
B) Fıkhi yorumlar
C) Tasavvufi yorumlar
D) Hiçbiri

10. **Hacı Bektaş Veli'nin en önemli eseri aşağıdakilerden hangisidir?**

- A) Divan-ı Hikmet
B) Makalat
C) Fıkıh-i Ekber
D) Ehl-i Beyt Sevgisi

YABANCI DİL TESTİ

1. Your best friend has a wedding party next week. He invites you to his wedding, but your mother is ill and she will have an operation.

What do you say to refuse his invitation politely?

- A) Certainly, I'll come.
B) Sorry, but I hate parties.
C) I'm sorry, but I can't. I'll be in hospital.
D) That sounds great.

2. Jim : Hi Sam. Tomorrow is Tony's birthday. What about organizing a surprise party for him?
Sam : That sounds great. We should make a cake tonight then.
Jim : Oh, no! It's not a good idea. I think we should order it.
Sam : OK.

Which sentence shows Jim's refuse for Sam's offer about the birthday cake?

- A) What about organizing a surprise party for him?
B) That sounds great.
C) We should make a cake tonight then.
D) Oh, no! It's not a good idea.


3. I am not a reptile. I am not an extinct animal. I don't have wings. I am a _____.

Which animal is this ?

A)



B)



C)



D)



4. Marta : Please tell me what you see in the crystal ball.
Fortune teller : You will have a good life. You will have a good job, be very successful and earn a lot of money, but you won't be rich.
Marta : Why?
Fortune teller : Because you will spend all your money.
Marta : Oh, poor me! Will I go abroad?
Fortune teller : Yes, you will live alone in Turkey.

Which sentence is FALSE about the dialogue?

- A) Marta will earn a lot of money.
B) Marta will live in another country with her family.
C) Marta will have a good career.
D) Marta will spend all her money.

5. My brother likes doing sports. He has cleats , rackets and helmets at home for his favourite sports.

Which sport is NOT my brother's favourite sport?

A)



B)



C)



D)



6. I. February is the shortest month of the year.
II. It was very snowy yesterday.
III. We went out and played snowball with my friends.
IV. We made a snowman, too.

Which sentence is NOT suitable for the paragraph?

A) I

B) II

C) III

D) IV

7.



Choose the option that is NOT a good advice.

- A) He shouldn't lose weight.
B) He should stop eating junk food.
C) He should do some exercise.
D) He should go on a diet.

8. Sumru : Which T-shirt do you like?

Naz : I prefer red T-shirt over there.

Sumru : What about the blue one? I think it matches you.

Naz : Yes, it's nice but it's more expensive than the red one.

Sumru : OK.

Find the sentence in the dialogue that Naz makes comparison.

- A) What about the blue one?
B) I think it matches you.
C) I prefer red T-shirt over there.
D) Yes, it's nice but it's more expensive than the red one.

9. Choose the option that completes the dialogue best.

Kim : What was the documentary like?

Tina : I recommend you to watch it.

- A) It was boring.
- B) It was long but very interesting.
- C) It wasn't amazing.
- D) It wasn't interesting.

10. Eve was born in France in 1971. She attended primary school in my hometown. Then her family moved to England when she was 12 years old. She graduated from high school and university in England. She became an architect. She got married Frank after graduation in 1992. They raised two daughters. They had good times. Eve was very successful at her job. She designed nice buildings for people and she even won an award, but she lost her job two years ago.

This biography does NOT give information about Eve's _____ .

- A) Award
- B) Education
- C) Death
- D) Birth

A



SINAV BAŞLAMADAN ÖNCE AŞAĞIDAKİ UYARILARI MUTLAKA OKUYUNUZ.

1. Sınav kimlik bilgilerinizin doğruluğundan emin olunuz.
2. Sınav başladıktan sonra çevrenizdekileri konuşmayınız.
3. Soruları cevaplamaya istediğiniz sorudan başlayabilirsiniz.
4. Cevaplarınızı cevap anahtarındaki ilgili soru numarasını dikkate alarak uygun bölüme kodlayınız.
5. Değiştirmek istediğiniz cevabı cevap anahtarına kodladığınızdan emin olunuz.
6. Cevabını bilmediğiniz sorular üzerinde fazla zaman kaybetmeden diğer sorulara geçiniz. Zaman kalırsa bu sorulara daha sonra dönebilirsiniz.
7. Üç yanlış cevap 1 doğru soruyu götürmektedir. Netleriniz bu şekilde hesaplanacaktır.
8. Sınav puanınızın hesaplanmasında sadece netleriniz dikkate alınacaktır.
9. Cevap anahtarınızı sınav süresince başkalarının göremeyeceği şekilde önünüzde bulundurunuz.
10. Sınav sırasında sözlük, hesap makinası, cep telefonu ve bilgisayarınızın bu özelliklerini kullanmayınız.
11. Sınav süresince yerinizden ayrılmayınız

Bu kitapçığın her hakkı saklıdır. Hangi amaçla olursa olsun, kitapçığın tamamının veya bir kısmının Yariş Ortaokulu Müdürlüğü'nün yazılı izni olmadan kopya edilmesi, fotoğraflarının çekilmesi, bilgisayar ortamına alınması, herhangi bir yolla çoğaltılması, yayımlanması ve başka bir amaçla kullanılması yasaktır. Bu yasağa uymayanlar, doğabilecek hukukî sorumluluğu ve sınavın hazırlanmasındaki malî yükümlülüğü peşinen kabullenmiş sayılır.