



T.C.  
MİLLÎ EĞİTİM BAKANLIĞI  
ÖLÇME, DEĞERLENDİRME VE SINAV HİZMETLERİ GENEL MÜDÜRLÜĞÜ

2017 - 2018

## 6. SINIF DEĞERLENDİRME SINAVI - 1



Adı ve Soyadı : .....  
Sınıfı : .....  
Öğrenci Numarası : .....

- Bu kitapçıkta 6 bölüm bulunmaktadır:
  1. Türkçe
  2. Matematik
  3. Fen Bilimleri
  4. Sosyal Bilgiler
  5. Din Kültürü ve Ahlak Bilgisi
  6. Yabancı Dil
- Bu sınav, öğrencilerimizin 2017 - 2018 Eğitim - Öğretim Yılı 1. dönem çalışmalarını değerlendirmeleri amacıyla hazırlanmıştır.
- Bu sınav, 6. sınıf 1. dönem kazanımları dikkate alınarak oluşturulmuştur.



# TÜRKÇE TESTİ

Bu testte, Türkçe alanına ait 20 soru bulunmaktadır. Bu testin çözümü için önerilen süre 40 dakikadır.

**1. Aşağıdaki dizelerin hangisinde zıt anlamlı sözcükler kullanılmamıştır?**

- A) Bir yıldız doğar çitin ardından, büyür  
Koyunlarım gider gibi olur, gelir
- B) Nasıl yaşayacağım ey deniz, senden uzak  
Yanıp sönüyor gibi gözlerimde fenerin
- C) Ey insan, başlayan her şey bitecek  
Kutlu arabalar geçecek yoldan
- D) Gök mavi, dal yeşil, tarla sarı olsun  
Kuşların çiçeklerin diyarı olsun

**2. Yaşadığı acı günler aklına gelince duygulanırdı. Daha**

I

çocuk yaşta kalemi eline alıp şiire yönelmesinde yaşa-

II

dıklarının etkisi vardı kuşkusuz. Âşık Veysel saza bağ-

III

lanmıştı, o da kaleme bağlandı; sürekli yazdı.

IV

**Bu parçadaki altı çizili sözcüklerden hangisi mecaz anlamda kullanılmıştır?**

- A) I.      B) II.      C) III.      D) IV.

**3. Eserde, istediği her şeyi zorlanmadan elde eden hâli vakti yerinde bir adamın, mutlu olmadığını fark etmesi anlatılıyor. Bu durum, onu insanlığını yeniden keşfedeceği olayların içine itiyor ve adam daha önce küçümsemediği duygulara kalbini açmaya başlıyor.**

**Bu parçadaki altı çizili deyimın anlamı aşağıdakilerden hangisidir?**

- A) Esprili ve çok konuşan
- B) Görünüşü, davranışı düzgün
- C) Paraca durumu iyi, zengin
- D) Yemeyi, içmeyi çok seven

**4. Ses dalgaları, suyun içinde çok hızlı ilerler. Balinalar bu sayede yaklaşık 150 km öteden birbirleriyle haberleşebilir. Bu uzaklık 1940'lı yıllarda 1500 km'ydı. Okyanuslarda çoğalan gemi sayısı, denizin içindeki - - - - artırdığından balinaların - - - - mesafesini de onda birine düşürdü.**

**Bu parçada boş bırakılan yerleri anlam bakımından en uygun biçimde tamamlayan sözcük ya da sözcük grupları aşağıdakilerin hangisinde sırasıyla verilmiştir?**

- A) ortalama derinliği - bilgi aktarma
- B) karmaşayı - görüş
- C) ses kirliliğini - haberleşme
- D) gürültü miktarını - insanlara olan

**5. Anadolu'nun yıllanmış sirke gibi keskin sözleri vardır. Bu sözleri ilk kimin söylediği bilinmez. Atalarımız söylemiştir, denip geçilir. Bu sebeple, dillerden düşmeyen bu özlü sözlerle atasözü denir. Her atasözü bir dünya görüşüne, yüzyılların oluşturduğu bir hayat tecrübesine dayanır.**

**Bu parçada "atasözü" aşağıdakilerden hangisine benzetilmiştir?**

- A) "Anadolu"ya
- B) "Sirke"ye
- C) "Dil"e
- D) "Dünya"ya

6. (I) Çocuklar, geçtiğimiz aylarda Zeyrek'te çok şaşırtıcı ve eğitici bir etkinliğe katıldılar. (II) Mimar Sinan Güzel Sanatlar Üniversitesinden bir ekibin düzenlediği etkinliklerle semtlerini tanıdılar. (III) Her zamanki sokaklarında şimdikiye kadar oynamadıkları oyunları oynadılar. (IV) Bu sırada Zeyrek'in tarihiyle ilgili pek çok bilgi edindiler.

**Bu parçada numaralanmış cümlelerin hangisinde nesnel anlatım yoktur?**

- A) I. B) II. C) III. D) IV.

7. Dünyanın en ünlü tablosu olan Mona Lisa ----.

**Bu cümlelerin amaç-sonuç anlamı taşıması için aşağıdakilerden hangisiyle tamamlanması gerekir?**

- A) Leonardo Da Vinci tarafından İtalya'da yapılmıştır.  
B) benim de en beğendiğim tablolardan biridir.  
C) hakkında araştırma yapmak için kütüphaneye gittim.  
D) Paris'teki Louvre Müzesinde sergilenmektedir.

8. Çocukluğumun en eğlenceli günüydü. Hasat zamanı gelmişti. Ağaçlara kurduğumuz merdivenlere tırmanıyor, yaprakların arasından meyveleri topluyorduk. Sebzeleri söküp domates ve kabakları, çalı fasulyelerini sepetlere dolduruyorduk. Toplama işi bittikten sonra ürünlerin bir kısmını arkadaşlarımızla yemeye başladık. Çıtır çıtır taze fasulyeleri de çiğ çiğ yemiştik. Onun lezzetini bugün hiçbir yiyecekte bulamıyorum.

**Bu parça aşağıdaki metin türlerinin hangisinden alınmıştır?**

- A) Biyografi  
B) Anı  
C) Deneme  
D) Gezi yazısı

9. Kış uykusu bildiğimiz günlük uykudan farklıdır. Normal uyku sırasında hayvanlar yattıkları yerde kımıldar, döner. Bu sırada beyinleri çalışır ve gerektiğinde hemen uyanıverir. Ama kış uykusunda hayvanın beden sıcaklığı neredeyse ortamın sıcaklığına düşer. Kalp atışı ve soluk alışı çok yavaşlar. Bu yüzden kış uykusundaki bir hayvan hemen uyanamaz.

**Bu parçanın anlatımında aşağıdaki düşünceyi geliştirme yollarından hangisi kullanılmıştır?**

- A) Tanık gösterme  
B) Betimleme  
C) Tanımlama  
D) Karşılaştırma

10. Karagöz — Nereden geliyorsun böyle?  
Hacivat — Efendim, çarşıya gidip kendime bir şapka aldım, oradan geliyorum.  
Karagöz — Ne yapayım şapka aldınsa? Paran varmış da almışsın.  
Hacivat — Canım Karagöz'üm, öyle mi derler?  
Karagöz — Ya nasıl derler?  
Hacivat — ---, derler.

**Bu parçada boş bırakılan yere anlam akışına göre aşağıdakilerden hangisi getirilmelidir?**

- A) Geçmiş olsun  
B) Hoş geldiniz, sefa geldiniz  
C) Kolay gelsin  
D) Güle güle kullan

11. Her insanda, başkalarının ne yaptığını ya da ne düşündüğüne dair bir merak, az da olsa mevcuttur. İnsan, merak eder. Bu merak, doğru yönlendirildiği takdirde kişiyi mutlu eder. Okumak ise bu merakın giderilmesi için en doğru yoldur. Her kitap, okurlara yeni ufuklar, gözlemleyebileceği yeni dünyalar sunar. Okur da bu ikramı asla geri çevirmez. Kapağını araladığı her yeni kitapla bambaşka bir hayata dokunur, kimsenin bilmediği maceralara atılır.

**Bu parçadan aşağıdakilerden hangisi çıkarılamaz?**

- A) Kitaplar insana farklı serüvenler yaşatır.
- B) Merakın her türlü insanın kendini geliştirmesini sağlar.
- C) Okumak, insanın içindeki merak duygusunu gidermeye yardımcı olur.
- D) Her insan, başkalarının yaşamını ve yaptıklarını merak eder.

12. Serender, Orta ve Doğu Karadeniz'e özgü mimari bir yapıdır. Yapı, dört direk üzerine oturtulmuş bir tür kulübedir. Mutlaka evin dışında bulunur, ev ile serender arasında herhangi bir geçit veya köprü bulunmaz. Yerden yüksekliği yaklaşık yedi metredir. Ahşaptan yapılan bu kulübeler, yiyecek saklamak ve mısır kurutmak için kullanılır. Bu depolar, yiyecekleri hayvanlardan ve böceklerden korumak amacıyla yüksek yapılır. Serenderlerin üzerinde durduğu direklerin tepelerinde bilezik denen metal halkalar vardır. Bu halkalar böcek ve farelerin yolunu kesmek için yapılmıştır. Böcek ya da fare, bileziğe ulaştığında kayarak aşağı düşer ve yiyeceklere ulaşamaz.

**Bu parçada aşağıdaki sorulardan hangisinin cevabı yoktur?**

- A) Serender direklerinin üzerinde bulunan halkalar niçin yapılmıştır?
- B) Serender adı verilen kulübeler nerede bulunur?
- C) Serenderler hangi amaçla kullanılmaktadır?
- D) Serenderlerle evler arasında niçin herhangi bir geçit yoktur?

13. Dünya her geçen gün hızla ısınıyor. Bu ısınmanın nedeni, onun üzerinde yaşayan bir canlı türü: İnsan. İnsanın tarım, madencilik, ulaşım, iletişim, taşıma, ısınma gibi yaşamını sürdürmek için gerçekleştirdiği etkinlikler, yüzünün sıcaklığını hissedilir ölçüde artırıyor. Fabrika bacalarından çıkan dumanlar ve araçların egzozları gibi sera gazı kaynakları, atmosferde Güneş'ten gelen ısının tutulmasına yani sera etkisine yol açıyor. Çalıştırdığımız her elektronik alet, ulaşım ve ısınma için kullandığımız her yakıt küresel ısınmayı artırıyor. Sonuçta iklim örtüntüleri değişiyor. Örneğin 1880'den beri tutulan kayıtlara göre en sıcak yıl 2005 oldu. İkinci sırada da 2010 var.

**Bu parçanın konusu aşağıdakilerden hangisidir?**

- A) Çevre kirliliği
- B) Küresel ısınma
- C) İklim değişikliği
- D) İnsan ve teknoloji

14. Aşağıdakilerden hangisi kurguya dayalı bir metindir?

- A) Sekoya ağaçları gezegenimizdeki en büyük ve en ağır canlılardır. Boyları 90 metre, ağırlıkları da 1900 tonu bulur. Bu dev ağaçlar çok yaşar. En yaşlı sekoya, 3500 yaşındadır.
- B) "Dünyanın Öne Çıkan 10 Genç İnsanı"ndan biri seçilen kâşifimiz, adını şimdiden bilim tarihine altın harflerle yazdırmış. Buluşunun adı, "giyilebilir kalp pili". Enerjisini kalbin, ciğerlerin ve diyaframın hareketinden alan bu buluş sayesinde artık kalp hastaları rahat bir nefes alacak.
- C) İki ay önceydi. Ben Hazar Denizi'nde bir damla suydum. Benim gibi milyarlarca damlacık vardı. Hepimiz bir araya geliyor ve denizin suyunu oluşturuyorduk. Bazen bir akıntıya kapılıyor ve denizin içinde yer değiştiriyorduk, bazen yüzeye çıkıyorduk.
- D) Ürgüp, Kapadokya'nın gezilecek yerlerinin kesişme noktasında yer alır. Üzüm ve toprak kokusuyla insanı mest eden bölgenin simgesi hâline gelmiş Üç Güzeller adlı peribacaları, Ürgüp'ün girişinde karşılıyor sizi.



# MATEMATİK TESTİ

Bu testte, Matematik alanına ait 20 soru bulunmaktadır. Bu testin çözümü için önerilen süre 40 dakikadır.

1. Aşağıdakilerden hangisinin değeri diğerlerinden daha küçüktür?

- A)  $5^2$       B)  $4^3$       C)  $3^4$       D)  $2^5$

2.  $5 \cdot 2^5 + 3 \cdot 5^2 - 2^2 \cdot 7$  işleminin sonucu kaçtır?

- A) 231      B) 207      C) 108      D) 80

3.  $8 \cdot (7 - \Delta) = 8 \cdot 7 - 5 \cdot 8$  olduğuna göre  $\Delta$  kaçtır?

- A) 5      B) 6      C) 7      D) 8

4. 280 kg domates her birinde 20 kg domates olacak şekilde kasalara konulmuştur.

Kasalardan biri 42 liradan satıldığına göre tüm kasaların satışından kaç lira gelir elde edilir?

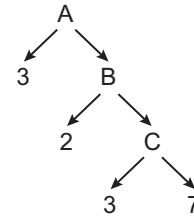
- A) 588      B) 630      C) 714      D) 840

5. 8 kişi aralarında eşit miktarda para toplayarak bir arkadaşlarına hediye almak istiyorlar.

2 kişinin parası olmadığı için diğerleri 3 lira fazla para verdiği göre hediyein fiyatı kaç liradır?

- A) 48      B) 72      C) 96      D) 144

6.



Yukarıdaki çarpan ağacına göre A kaçtır?

- A) 42      B) 45      C) 84      D) 126

7. 9 ve 10'a kalansız bölünebilen bir doğal sayı aşağıdakilerden hangisine bölünürse kalan 0'dan farklı olabilir?

- A) 3      B) 4      C) 5      D) 6

8. I. En küçük asal sayı 3'tür.  
II. İki tane asal sayının çarpımı her zaman tek sayıdır.  
III. Bir basamaklı beş tane asal sayı vardır.  
IV. İki basamaklı en büyük asal sayı 97'dir.

Yukarıdaki ifadelerden kaç tanesi doğrudur?

- A) 1      B) 2      C) 3      D) 4

9. 162 doğal sayısı asal çarpanlarına ayrılıp üslü sayıların çarpımı şeklinde yazıldığında aşağıdaki rakamlardan hangisi kullanılmaz?

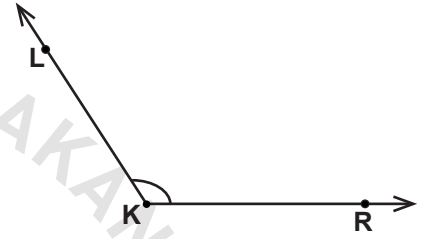
- A) 2      B) 3      C) 4      D) 5

10. 96 cm ve 144 cm uzunluğundaki iki tahta parçası santimetre cinsinden tam sayı olacak şekilde eşit uzunlukta parçalara ayrılmak isteniyor.

Parçalardan birinin uzunluğu aşağıdakilerden hangisi olamaz?

- A) 3      B) 12      C) 32      D) 48

11.



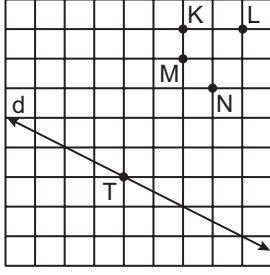
Aşağıdakilerden hangisi verilen açının sembolle gösterimlerinden biri değildir?

- A)  $\widehat{LKR}$       B)  $\widehat{K}$   
C)  $\widehat{RKL}$       D)  $\widehat{KRL}$

12. Kendisi, tümleri ve bütünlerinin toplamı  $240^\circ$  olan açı kaç derecedir?

- A) 30      B) 60      C) 90      D) 120

13.



Yukarıdaki kareli zeminde verilen  $d$  doğrusunun üzerindeki  $T$  noktası belirtilen noktalardan hangisi ile birleştirilirse  $d$  doğrusuna dik bir doğru parçası elde edilir?

- A) K      B) L      C) M      D) N

14. Bir öğrencinin matematik testindeki yanlış cevaplarının sayısının doğru cevaplarının sayısına oranı  $\frac{2}{13}$ 'dir.

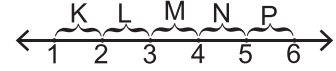
Bu öğrencinin boş bıraktığı soru olmadığına göre doğru cevaplarının sayısının toplam soru sayısına oranı nedir?

- A)  $\frac{2}{15}$       B)  $\frac{2}{11}$       C)  $\frac{11}{13}$       D)  $\frac{13}{15}$

15. Aşağıdaki oranlardan hangisi birimsizdir?

- A) 1 saatte 80 km yol giden bir aracın aldığı yolun süreye oranı  
 B) 25 liraya alınan 5 litre benzinde ödenen paranın alınan benzin miktarına oranı  
 C) 20 L boya ile boyanan 4 odada boya miktarının oda sayısına oranı  
 D) 140 cm boyundaki bir kişinin boy uzunluğunun 80 cm'lik gölge uzunluğuna oranı

16.



Verilen sayı doğrusuna göre aşağıdakilerden hangisi doğrudur?

- A)  $\frac{1}{2}$  kesri sayı doğrusunda K bölgesindedir.  
 B)  $\frac{14}{3}$  kesri sayı doğrusunda P bölgesindedir.  
 C) N bölgesindeki tüm kesirler L bölgesindeki tüm kesirlerden büyüktür.  
 D) M bölgesindeki herhangi bir kesir ile L bölgesindeki herhangi bir kesrin toplamı sayı doğrusunda 2 ile 4 arasında yer alır.

17.  $\frac{1}{2} + \frac{3}{8} - \frac{7}{16}$  işleminin sonucu kaçtır?

- A)  $\frac{7}{16}$       B)  $\frac{9}{16}$       C)  $\frac{5}{8}$       D)  $\frac{4}{3}$

18.  $2\frac{1}{3} \cdot \frac{5}{7}$  işleminin sonucu kaçtır?

- A)  $\frac{10}{7}$       B)  $\frac{5}{3}$       C)  $\frac{47}{21}$       D)  $\frac{49}{15}$

19. Aşağıdaki eşitliklerden hangisi yanlıştır?

A)  $4:\frac{1}{3} = 12$

B)  $\frac{1}{2}:5 = \frac{1}{10}$

C)  $10:\frac{1}{5} = 50$

D)  $\frac{1}{9}:3 = \frac{1}{3}$

20.  $9 \cdot \frac{3}{2} + 7 \cdot \frac{1}{2} - 2 \cdot \frac{1}{2}$  işleminin sonucu kaçtır?

A) 11

B) 12

C) 13

D) 14

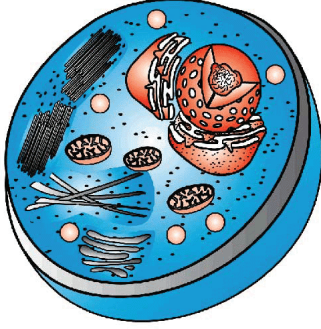


MATEMATİK TESTİ BİTTİ.  
DİĞER TESTE GEÇİNİZ.

## FEN BİLİMLERİ TESTİ

Bu testte, Fen Bilimleri alanına ait 20 soru bulunmaktadır. Bu testin çözümü için önerilen süre 40 dakikadır.

1.



Şekildeki hücre aşağıdaki canlılardan hangisine ait olabilir?

A)



Ağaç

B)



Fare

C)



Kaktüs

D)



Soğan

2. Hücre duvarı ile ilgili verilen ifadelerden hangisi yanlıştır?

- A) Hücre zarının dışında yer alır.
- B) Cansız bir yapıdır.
- C) Hücreye dayanıklılık sağlar.
- D) Tüm hücrelerde bulunur.

3.

- I. Hücrenin enerji ihtiyacını karşılar.
- II. Bitki ve hayvan hücrelerinde ortak bir yapıdır.
- III. Su, besin ve atıkların depolandığı organeldir.

Verilen bilgilerden hangileri mitokondriye aittir?

- A) Yalnız II.
- B) I ve II.
- C) II ve III.
- D) I, II ve III.

4.

- Hücre
- Organizma
- Sistem
- Doku
- Organ

Yukarıda verilen kavramlar basitten karmaşığa sıralandığında 3. sırada hangisi yer alır?

- A) Sistem
- B) Organ
- C) Doku
- D) Organizma

5. Bir öğrenci kemiklerimizi oluşturan yapılardan bazılarının görevlerini şöyle yazıyor:

- Kırmızı kemik iliğinin görevi kan hücreleri üretmektir.
- Sert kemik dokusu kemiğe sağlamlık ve dayanıklılık verir.
- Kemik zarı kemiğin boyuna büyümesini sağlar.
- Sadece uzun kemiklerde bulunan sarı kemik iliği ise yağ depolar ve gerektiğinde kan hücreleri üretir.

Buna göre öğrenci, altı çizili yapılardan hangisinin görevini yanlış öğrenmiştir?

- Kırmızı kemik iliği
- Sert kemik dokusu
- Kemik zarı
- Sarı kemik iliği

- Çabuk yorulur.
- İsteğe bağlı çalışır.
- Yavaş kasılıp gevşer.
- Kemikleri hareket ettirir.

Çizgili kaslar ile ilgili yukarıda verilen ifadelerden hangisi yanlıştır?

- I.
- II.
- III.
- IV.

7. Bacağında dayanılmaz ağrı şikayeti ile giden bir çocuktan doktorun istediği tetkik aşağıdaki gibidir.



Bu durum ile ilgili olarak,

- Doktor, çocuğun bacağını kırdığından şüphelenmiştir.
- Doktorun istediği tetkik, röntgendir.
- Kemiklerdeki hasarları kontrol etmek için röntgen kullanılır.

Yorumlarından hangileri yapılabilir?

- I ve II.
- I ve III.
- II ve III.
- I, II ve III.

8. Verilen yapıların hangisinde oynar eklem bulunmaz?

- Kafatasamızda
- Kollarımızda
- Çenemizde
- Bacaklarımızda

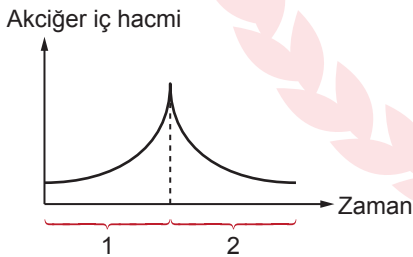
9. Tabloda soluk alma ve soluk verme sırasında gerçekleşen bazı olaylar işaretlenerek gösterilmiştir.

Olaylar	Soluk alma	Soluk verme
1. Diyafram kubbeleşir.		✓
2. Akciğer iç hacmi artar.	✓	
3. Göğüs kafesi daralır.	✓	
4. Havadaki oksijen akciğerlere dolar.	✓	

Buna göre hangi satırda hata yapılmıştır?

- A) 1. B) 2. C) 3. D) 4.

10. Aşağıdaki grafik belli bir zaman diliminde insandaki akciğer iç hacminin durumunu göstermektedir.



Bu grafiğe göre,

- I. 1. zaman aralığında soluk alınmıştır.  
 II. 2. zaman aralığında diyafram kubbeleşmiştir.  
 III. 1. zaman aralığında oksijen alveollere ulaşmıştır.

Yorumlarından hangileri doğrudur?

- A) I ve II. B) I ve III.  
 C) II ve III. D) I, II ve III.

11. Aşağıdakilerden hangisi kanın yapısını oluşturan alıyuvur, akyuvar ve kan pulcuklarına ait ortak bir özelliktir?

- A) Görevleri  
 B) Üretildikleri yer  
 C) Kanda bulunma miktarları  
 D) Çekirdek bulundurma durumları

12. Aşağıdakilerden hangisi dolaşım sistemi hastalıklarından biri değildir?

- A) Zatürre B) Varis  
 C) Kalp Yetmezliği D) Anemi (Kansızlık)

13.

Özellikler	Yapı
1. Kanı, vücuttan kalbe getiren damarlarımızdır.	a. Atardamarlar
2. Dokularda kan ile hücreler arasında madde alışverişini sağlarlar.	b. Toplardamarlar
3. Kan basıncının en yüksek olduğu damarlardır.	c. Kılcal damarlar

Damar çeşitleri ve özelliklerinin doğru eşleştirmesi aşağıdakilerin hangisinde verilmiştir?

- A) 1 – b B) 1 – a C) 1 – c D) 1 – b  
 2 – c 2 – b 2 – a 2 – a  
 3 – a 3 – c 3 – b 3 – c

14. I. Akciğer atardamarı  
II. Akciğer toplardamarı  
III. Üst ana toplardamar

**Yukarıda verilen damarlardan hangileri yalnız temiz kan taşır?**

- A) Yalnız I. B) Yalnız II.  
C) I ve II. D) II ve III.

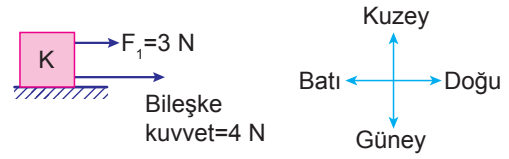
15. Solunum sistemi hastalıklarını teşhis etmek için aşağıda görülen bronkoskop kullanılır.



**Buna göre verilen hastalıklardan hangisinin teşhisinde bronkoskop kullanılmaz?**

- A) Zatürre  
B) Akciğer kanseri  
C) Yemek borusundaki tümör oluşumları  
D) Nefes borusuna yabancı cisim kaçma durumları

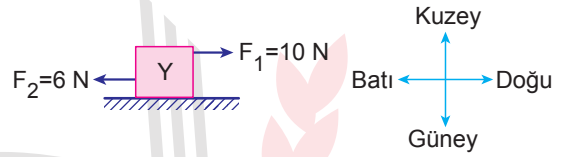
16. K cismine  $F_1$  ve  $F_2$  kuvvetleri uygulanıyor.  $F_1$  kuvveti ve bileşke kuvvet şekilde verilmiştir.



**Buna göre K cismine uygulanan  $F_2$  kuvveti, hangi yönde kaç N'dur?**

- A) Doğu yönünde 1 N  
B) Batı yönünde 1 N  
C) Doğu yönünde 7 N  
D) Batı yönünde 7 N

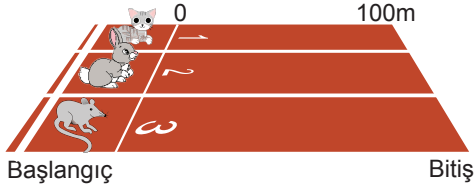
- 17.



**$F_1$  ve  $F_2$  kuvvetlerinin etkisindeki Y cismine uygulanacak dengeleyici kuvvet hangi yönde kaç Newton olmalıdır?**

- A) Doğu yönünde 4 N  
B) Batı yönünde 16 N  
C) Doğu yönünde 16 N  
D) Batı yönünde 4 N

18. Üç farklı hayvan şekildeki koşu parkurunda aynı anda harekete başlıyorlar.



Bu hayvanların bitiş çizgisine ulaşma süreleri arasında Kedi > Tavşan > Fare ilişkisi vardır.

Buna göre,

- I. Tavşan, kediden hızlıdır.
- II. En süratli hayvan, faredir.
- III. Kedi, tavşan ve fare eşit zamanda, eşit miktarda yol almışlardır.

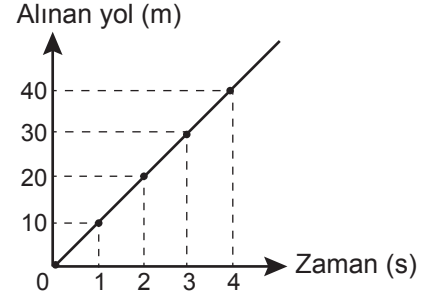
Yorumlarından hangileri yapılabilir?

- A) Yalnız I.                      B) Yalnız II.  
C) I ve II.                        D) I, II ve III.

19. 9 km / h kaç m / s'ye eşittir?

- A) 5                      B) 3,5                      C) 2,5                      D) 1

20. Bir otomobile ait alınan yol - sürat grafiği aşağıda verilmiştir.



Buna göre, bu hareketliye ait sürat - zaman çizelgesi hangisinde doğru verilmiştir?

A)

Zaman (s)	0	1	2	3	4
Sürat (m/s)	0	10	10	10	10

B)

Zaman (s)	0	1	2	3	4
Sürat (m/s)	0	10	20	30	40

C)

Zaman (s)	0	1	2	3	4
Sürat (m/s)	0	40	30	20	10

D)

Zaman (s)	0	1	2	3	4
Sürat (m/s)	10	10	10	10	10



## SOSYAL BİLGİLER TESTİ

Bu testte, Sosyal Bilgiler alanına ait 20 soru bulunmaktadır. Bu testin çözümü için önerilen süre 40 dakikadır.

1. Aşırı kar yağışı sonucu yollar kapandığı için okullar tatil edilmiştir.

**Bu durum için aşağıdaki genellemelerden hangisi söylenemez?**

- A) Bir olayın sonucu başka bir olayın sebebi olabilir.  
B) Bir olayın birden fazla nedeni olabilir.  
C) Bir olay birden çok netice getirebilir.  
D) Olaylar birbirinden bağımsız gelişebilir.

2. I. Tiyatro en eğlenceli spor dalıdır.  
II. Gürcistan Türkiye'nin komşularından biridir.  
III. İzmir Türkiye'nin en güzel şehridir.  
IV. Anadolu bir yarımadadır.  
V. Van Gölü Türkiye'nin en büyük gölüdür.

**Bu cümleler aşağıdakilerden hangisinde olgu ve görüş açısından doğru değerlendirilmiştir?**

<u>Olgu</u>	<u>Görüş</u>
A) I, III, V	II, IV
B) I, II, IV	III, V
C) III, V	I, II, IV
D) II, IV, V	I, III

3. I. Problem durumuna ilişkin varsayımlar belirlenir.  
II. Kaynaklardan elde edilen notlar sınıflandırılır.  
III. Araştırılacak problem belirlenir.  
IV. Notlar kontrol edilir ve metin oluşturulur.  
V. Konuyla ilgili yararlanılabilecek kaynaklar belirlenir.

**Yukarıda yer alan bilimsel araştırma basamaklarının doğru sıralanışı aşağıdakilerden hangisinde verilmiştir?**

- A) I – III – V – IV – II  
B) V – II – III – IV – I  
C) III – I – V – II – IV  
D) II – V – I – III – IV

4. **Aldığı ürünün bozuk olduğuna kanaat getiren bir vatandaşın aşağıdakilerden hangisini yapması beklenmez?**

- A) Ödediği paranın iadesini istemesi  
B) Özürlü malın iadesini talep etmesi  
C) Yenisi ile değiştirilmesini istemesi  
D) Aldığı ürünü kendisinin onarması

5. Aşağıdakilerden hangisi sosyal bilgiler dersinin amaçlarından biri değildir?

- A) Kültürel mirasın korunmasıyla ilgili bilinç oluşturmak
- B) İnsan hakları ve demokrasi kavramlarını benimsetmek
- C) Yaşanılan çevrenin daha yakından tanınmasını sağlamak
- D) Teknolojik aletlerin reklamını yapmak

6. Tüketicilerin uğradıkları haksızlıklar karşısında başvurabilecekleri yerler bulunmaktadır.

Aşağıdakilerden hangisi bunlardan birisi değildir?

- A) Tüketici mahkemeleri
- B) Doktor heyetleri
- C) Tüketici Sorunları İlçe Hakem Heyetleri
- D) Sanayi ve Ticaret İl Müdürlüğü

7. Aşağıdakilerden hangisi Atatürk'ün sosyal bilimler alanında yaptığı çalışmalardan biridir?

- A) TBMM'nin açılması
- B) Sümerbankın kurulması
- C) Türk Tarih Kurumunun açılması
- D) Cumhuriyet'in ilanı

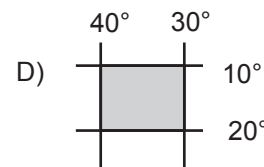
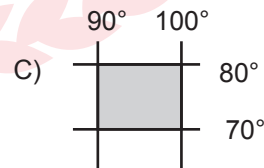
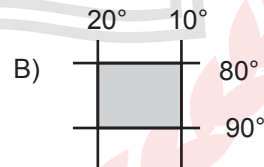
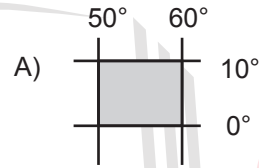
8. Aşağıdaki ölçeklerden hangisiyle çizilen haritanın ayrıntısı daha fazladır?

- A) 1 / 200.000
- B) 1 / 400.000
- C) 1 / 500.000
- D) 1 / 500.000

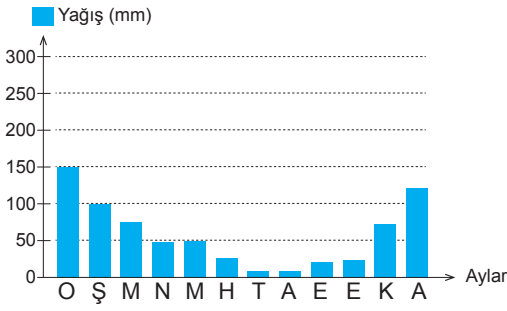
9. Aşağıdakilerden hangisi büyük ölçekli haritaların özelliklerinden biri değildir?

- A) Ayrıntının fazla olması
- B) Geniş alanları göstermesi
- C) Bozulma oranının az olması
- D) Küçültme oranının az olması

10. Aşağıda coğrafi koordinatları verilen alanlardan hangisi kuzey kutup noktasına daha yakındır?



11. Aşağıda bir ilin aylara göre yağış grafiği verilmiştir.



Grafiğe göre aşağıdakilerden hangisine ulaşamaz?

- A) En çok yağış kış mevsiminde düşmüştür.  
 B) Mayıs ayında şubat ayından daha fazla yağış düşmüştür.  
 C) Her mevsim yağış düşmüştür.  
 D) En az yağış yaz aylarında düşmüştür.

12. Aşağıda dünyada görülen bazı iklim tipleriyle ilgili bilgiler verilmiştir.

- I. Gece-gündüz arası sıcaklık farkı fazladır.  
 II. Sıcaklık ortalaması yıl boyunca 0°C'nin altındadır.  
 III. Yaz ayları bol yağışlı geçmektedir.  
 IV. Bitki örtüsü olarak yağmur ormanları vardır.

Bu bilgiler aşağıdakilerden hangisinde doğru eşleştirilmiştir?

- | I        | II         | III        | IV         |
|----------|------------|------------|------------|
| A) Muson | Ekvatorial | Çöl        | Kutup      |
| B) Çöl   | Muson      | Kutup      | Ekvatorial |
| C) Kutup | Çöl        | Ekvatorial | Muson      |
| D) Çöl   | Kutup      | Muson      | Ekvatorial |

13. Ormanların dağılışında etkili olan önemli faktörlerden biri de nem ve yağışın fazla olmasıdır.

Aşağıdaki bölgelerimizin hangisi orman bakımından daha zengindir?

- A) Karadeniz Bölgesi  
 B) Akdeniz Bölgesi  
 C) Doğu Anadolu bölgesi  
 D) Ege Bölgesi

14. Tarih Öncesi Dönemlerde insanların yerleşim yeri seçerken aşağıdaki faktörlerden hangisini göz önünde bulundurdıkları söylenemez?

- A) Su kaynaklarının bolluğunu  
 B) Olumlu iklim şartlarını  
 C) Sanayi tesislerinin yoğunluğunu  
 D) Verimli tarım arazilerini

15. Türkler, Orta Asya'daki anayurtlarından, dünyanın değişik yerlerine göç etmişlerdir.

Aşağıdakilerden hangisi bu göçlerin sebeplerinden biri değildir?

- A) Nüfus artışıyla birlikte kaynakların yetersiz kalması  
 B) Deniz kıyılarına ulaşma isteği  
 C) Salgın hastalıklar sonucu hayvan sürülerinin zarar görmesi  
 D) Siyasi mücadeleler sonucu gelen baskıların artması

16. "Hititler tarafsız tarih yazıcılığını başlatan devlettir." Bu duruma aşağıdakilerden hangisi kanıt olarak gösterilebilir?

- A) Hititlerin "Pankuş" adında meclisi vardır.
- B) Hititler Mısırlılarla tarihte bilinen ilk yazılı antlaşmayı imzalamışlardır.
- C) Hititler tanrıya hesap vermek için Anal denilen yıllıklar yazmışlardır.
- D) Hititler çok tanrılı inanca sahiptirler.

17. Urartuların;

- I. sağlam kaleler inşa etmeleri,
- II. sulama kanalları ve barajlar yapmaları,
- III. mezarlarını oda şeklinde yapmaları,
- IV. ölüleri değerli eşyaları ile gömmeleri

gelişmelerinden hangileri ölümden sonra hayatın devam ettiğine inandıklarına kanıttır?

- A) Yalnız I.
- B) I ve III.
- C) II ve III.
- D) III ve IV.

18. I. Arkeolojik kazılarda Altay Bölgesi'nde Hunlar zamanında açılmış sulama kanallarına rastlanmıştır.  
II. Türkler demiri işleyerek savaş aletleri ve heykeller yapmışlardır.  
III. Orta Asya Türklerine ait bir mezarda hayvan figürlü gümüş levhalar ve seramik eşyalar bulunmuştur.

Yukarıda verilen gelişmelerden hangileri ilk Türk Devletlerinde tarımın yapıldığına kanıt olarak gösterilebilir?

- A) Yalnız I.
- B) I ve II.
- C) II ve III.
- D) I, II ve III.

19. I. Başkentleri Ninova'da ilk kütüphaneyi kurmuşlardır.  
II. Çivi yazısını bularak tarihte yazıyı icat etmişlerdir.  
III. Her yıl meydana gelen önemli olayları "Anal" denilen yıllıklara kaydetmişlerdir.

Yukarıda yer alan gelişmelerle ait olduğu uygarlıklar hangi seçenekte doğru eşleştirilmiştir?

I	II	III
A) Asurlar	Sümerler	Hititler
B) Sümerler	Asurlar	Hititler
C) Hititler	Sümerler	Asurlar
D) Asurlar	Hititler	Sümerler

20. MÖ 3000'li yıllarda insanlar yerleşmek için su kenarlarını, toprağı ve iklimi elverişli yerleri tercih ettiler. Şehirleri alışverişi daha kolay yapabilmek amacıyla yol kenarlarına kurdular ve şehrin etrafını surlarla çevirdiler.

Verilen metinde yerleşmeyi etkileyen faktörlerden hangisine değinilmemiştir?

- A) Güvenlik
- B) Turizm
- C) Tarım
- D) Ticaret

# DİN KÜLTÜRÜ VE AHLAK BİLGİSİ TESTİ

Bu testte, Din Kültürü ve Ahlak Bilgisi alanına ait 20 soru bulunmaktadır. Bu testin çözümü için önerilen süre 40 dakikadır.

1. • Namaz kılacak kişinin bedeni ve elbiseleri temiz olmalıdır.  
• Namaz kılınacak yerin temiz olmasına dikkat edilmelidir.

**Bu bilgiler aşağıdaki namaza hazırlık şartlarından hangisiyle ilgilidir?**

- A) Setr-i avret  
B) İstikbali kible  
C) Necasetten taharet  
D) Hadesten taharet

2. **Aşağıdakilerden hangisi namazı bozan durumlardan biri değildir?**

- A) Gülmek  
B) Esnemek  
C) Kibleden başka yöne dönmek  
D) Namazın bir farzını terk etmek

3. • Sorumluluğu yerine getirmenin huzurunu yaşatır.  
• Birlikte yaşama bilincini geliştirir.  
• Zamanı planlamaya yardımcı olur.

**Bu bilgiler aşağıdaki hangi soruya cevap olabilir?**

- A) Namaz niçin kılınır?  
B) Namaz nasıl kılınır?  
C) Namaz nerede kılınır?  
D) Namaz kılmak ne kazandırır?

4. **Namazla ilgili aşağıdaki bilgilerden hangisinde yanlışlık yapılmıştır?**

- A) Cenaze namazı farz-ı ayındır.  
B) Yatsı namazının farzı dört rekâttır.  
C) Bayram namazı bir yılda iki kere kılınır.  
D) Cuma namazının farzı cemaatle kılınır.

5. **Aşağıdaki namazlardan hangisi tek başına kılinamaz?**

- A) Bayram  
B) Teravih  
C) İkinci  
D) Vitir

6. • Niyet etmek  
• Üç kez ağıza su vermek  
• Üç kez burna su vermek

**Bunlardan sonra aşağıdakilerden hangisi yapılırsa "boy abdesti" tamamlanmış olur?**

- A) Yüz yıkanırsa  
B) Kollar yıkanırsa  
C) Başın bir bölümü mesh edilirse  
D) Vücudun tamamı yıkanırsa



13. Yüce Allah'ın dört büyük kitaptan ayrı olarak Cebrail aracılığıyla bazı peygamberlerine gönderdiği dinî emirlere ve bu emirleri içeren sayfalara - - - - denilmektedir.

**Bu tanımdaki boşluğa aşağıdakilerden hangisi getirilmelidir?**

- A) sure  
B) mushaf  
C) cüz  
D) suhuf

14. I. Hz. İsa - İncil  
II. Hz. Musa - Zebur  
III. Hz. Davut - Tevrat  
IV. Hz. Muhammed - Kur'an-ı Kerim

**Numaralanmış peygamber ilahi kitap eşleştirmelerinden hangileri yanlıştır?**

- A) Yalnız I.  
B) I ve II.  
C) II ve III.  
D) III ve IV.

15. "Senden önce gönderdiğimiz peygamberler de hiç şüphesiz yemek yerler, çarşıda pazarda dolaşırlardı. ..."  
(Furkan suresi, 20. ayet)

**Bu ayette peygamberlerin aşağıdaki özelliklerinden hangisi vurgulanmaktadır?**

- A) İnsan olmaları  
B) Örneklikleri  
C) Dürüstlükleri  
D) Güvenilirlikleri

16. "And olsun ki içlerinden, kendilerine Allah'ın ayetlerini okuyan, onları arındıran, onlara kitap ve hikmeti öğreten bir peygamber göndermekle Allah, müminlere büyük bir lütufta bulunmuştur. ..."

(Â-i İmrân suresi, 164. ayet)

**Bu ayetten, peygamberle ilgili aşağıdaki sonuçların hangisi çıkarılamaz?**

- A) Gönderildiği toplum içinden seçilmiştir.  
B) Allah'ın mesajını insanlara öğretmiştir.  
C) Gönderilen peygamber sayısı çok azdır.  
D) Allah'ın, müminlere merhametinin göstergesidir.

17. I. Eûzû besmele  
II. Fatiha suresi  
III. Sübhaneke duası  
IV. Bir sure veya birkaç ayet

**Namazın birinci rekâtıyla ilgili numaralanmış ifadeler aşağıdakilerden hangisinde doğru sıralanmıştır?**

- A) II – III – I – IV  
B) III – I – II – IV  
C) I – III – IV – II  
D) III – IV – I – II

18. Kaza namazıyla ilgili aşağıdaki örneklerden hangisi yanlıştır?

- A) Uyanamadığı için sabah namazını kılamayan uyan-  
dığında kaza eder.
- B) Unuttuğu için öğle namazını kılamayan hatırladığın-  
da kaza eder.
- C) Bayıldığı için vitir namazını kılamayan ayıldığında  
kaza eder.
- D) Yetişemediği için Cuma namazını kılamayan kaza  
eder.

20. “Allah’ım! Senden yardım ve günahlarımızı bağışlamamı  
isteriz, senden bize hidayet etmeni isteriz. Sana inanı-  
rız, sana tövbe ederiz. Sana güvenirim. Bize verdiğin bü-  
tün nimetleri bilerek seni hayır ile överiz. Sana şükreder,  
asla nankörlük etmeyiz. Nimetlerini inkâr eden ve sana  
karşı geleni bırakırız.”

(Kunut duası)

Bu duada aşağıdaki kavramlardan hangisi yer almaz?

- A) İlim
- B) Şükür
- C) Tövbe
- D) Hidayet

19. Namaz, Allah’ın huzuruna çıkmak, Rabb’imizle konu-  
şmak, onunla aracasız iletişim kurmaktır. Yaradan ile  
doğrudan iletişim kurmak, insanın kendisini değerli his-  
setmesini sağlar, kişiye huzur ve mutluluk verir. Namaz  
sayesinde günlük meşgalelere bir süre ara verilir ki bu  
da insanı rahatlatır.

Bu parçada namaz ile ilgili aşağıdakilerden hangisine  
değinilmemiştir?

- A) Allah’ın huzuruna çıkmak olduğuna
- B) Allah ile aracasız iletişim kurulduğuna
- C) Vakti iyi kullanmayı öğrettiğine
- D) İnsana huzur ve mutluluk verdiğine

## YABANCI DİL TESTİ

Bu testte, İngilizce alanına ait 20 soru bulunmaktadır. Bu testin çözümü için önerilen süre 40 dakikadır.

1-10. sorularda boş bırakılan yere uygun gelen kelime ya da ifadeyi işaretleyiniz.

1. **Bill** : I leave home at 7 every morning.

**Martin** : ---- ?

**Bill** : Usually at 4 p.m.

- A) Where do you have breakfast
- B) How do you go to school
- C) Who do you hang around with
- D) What time do you get back

2. **Eda** : ---- ?

**Joe** : Yes, a little, please.

- A) How many eggs do you need
- B) What is your favourite food
- C) Would you like some cheese
- D) Who cooks meals at home

3. **Kemal** : Mersin is very hot in summer.

**Brian** : ---- ?

**Kemal** : Warm and rainy.

- A) What's the weather like in spring
- B) How do you feel in sunny weather
- C) Can you repeat that, please
- D) Does it rain very often in autumn

4.



- A) coffee is healthier
- B) having breakfast is bad
- C) mum cooks delicious meals
- D) it is nutritious

5. **Mark** : Can I have some cereal, please?

**Linda** : I'm sorry dear. ----.

- A) Enjoy your meal
- B) I'm really full
- C) It is all gone
- D) You're welcome

6. **Buse** : ---- ?

**Dave** : Never. I usually read and do my homework in the evening.

- A) What do you do in the evening
- B) How often do you go online in the evening
- C) When does the lesson start after lunch
- D) Who takes you to school

7. **Ceren** : Look! Gizem and Sue are doing "Çifte telli".

**Bob** : ---- ?

**Ceren** : It's a traditional Turkish dance.

- A) Would you like to try it
- B) When does the course start
- C) What does that mean
- D) Do you enjoy dancing

8. **Fatih** : I'm going shopping.

**Jack** : Can you buy some jam? ----- .

- A) It's not healthy
- B) Honey is my favourite
- C) I prefer having eggs
- D) There isn't any

9. **Mert** : ---- ?

**Frank** : I'd like to live in a small village.

- A) What's the environment like in a village
- B) Where do you want to live
- C) How often do you visit your grannies
- D) Which is healthier, milk or candies

10. **Chris** : It's raining and the wind is blowing.

**Helen** : Sorry, I don't understand. ---- ?

**Chris** : Sure. It's rainy and windy.

- A) Can you repeat
- B) How do you feel
- C) What's the temperature
- D) Is it sunny and hot

11.




Ted is waiting in a line.

Konuşma balonundaki ifade ile ilgili görsel hangisidir?

A)



B)



C)



D)



12.

	Ankara	Bitlis
Population	5.270.000 people	340.449 people
Temperature	25°C	7°C

Verilen bilgilere göre doğru seçeneği işaretleyiniz.

- A) Ankara is more crowded than Bitlis.
- B) Bitlis is hotter than Ankara.
- C) More people live in Bitlis.
- D) It is cold and rainy in Ankara.

13.



Sally



Eda



Tom



Ali

Verilen görsellere göre doğru olan seçeneği işaretleyiniz.

- A) Sally is doing her homework.
- B) Ali is having a snack.
- C) Eda is playing with her doll.
- D) Tom is feeding an animal.

14.

- I. No, I don't.
- II. Anxious and scared.
- III. Do you like stormy weather?
- IV. How do you feel then?

Karışık olarak verilen cümlelerin anlamlı bir bütün oluşturacak şekilde sıralandığı seçeneği işaretleyiniz.

- A) IV-II-I-III
- B) III-I-IV-II
- C) IV-III-II-I
- D) III-II-I-IV

15-17. soruları aşağıda verilen metne göre cevaplayınız.

I'm Judy. I live in a big city with my parents. The city is noisy and crowded but I think it's also exciting. We usually visit my grandmother at the weekends. She lives in a small village. It's quieter and cleaner in the country but it's boring. I can't go online or go shopping with my friends in the village. It's Saturday today and we are preparing for our visit to my granny. My mom is feeding the cat and my dad is putting the suitcases in the car.

15. Judy thinks city life is ----- than life in the village.

- A) more relaxing
- B) quieter
- C) cleaner
- D) more exciting

16. ----- is giving food to the pet.

- A) Judy
- B) Her father
- C) Her mother
- D) Her granny

17. Which is true?

- A) Judy lives with her grandmother.
- B) Judy prefers city life.
- C) They never visit their relatives.
- D) They go to the village by bus.

18-20. soruları aşağıda verilen metne göre cevaplayınız.

I'm Susan. It is Sunday today. It is sunny and hot and I'm downtown with my friends. It is busier today. There are many people around. An old woman is crossing the street and a little boy is helping her. Two women are waiting in the line at the cinema. Two young girls are buying some clothes. Two boys are riding their bicycles in the park. My friends Ezgi, Bob and I are sitting at the Italian restaurant now.

18. ----- is/are doing shopping.

- A) Susan
- B) An old woman
- C) Two young girls
- D) Ezgi and Bob

19. How is the weather?

- A) In the park.
- B) Sunny and hot.
- C) At a restaurant.
- D) Two women.

20. ----- want(s) to watch a film.

- A) Two women
- B) Sally and her friends
- C) Two boys
- D) A little boy



**SINAV BAŞLAMADAN ÖNCE AŞAĞIDAKİ UYARILARI MUTLAKA OKUYUNUZ.**

1. Sınav kimlik bilgilerinizin doğruluğundan emin olunuz.
2. Sınav başladıktan sonra çevrenizdekilerle konuşmayınız.
3. Soruları cevaplamaya istediğiniz sorudan başlayabilirsiniz.
4. Cevaplarınızı cevap anahtarındaki ilgili soru numarasını dikkate alarak uygun bölüme kodlayınız.
5. Değiştirmek istediğiniz cevabı cevap anahtarına kodladığınızdan emin olunuz.
6. Cevabını bilmediğiniz sorular üzerinde fazla zaman kaybetmeden diğer sorulara geçiniz. Zaman kalırsa bu sorulara daha sonra dönebilirsiniz.
7. Sınav puanınızın hesaplanmasında sadece doğru cevaplarınız dikkate alınacaktır.
8. Cevap anahtarınızı sınav süresince başkalarının göremeyeceği şekilde önünüzde bulundurunuz.
9. Sınav sırasında sözlük, hesap makinası, cep telefonu ve bilgisayarınızın bu özelliklerini kullanmayınız.
10. Sınav süresince yerinizden ayrılmayınız.

Bu kitapçığın cevap anahtarına ulaşmak için karekodu okutunuz.



Bu kitapçığın her hakkı saklıdır. Hangi amaçla olursa olsun, kitapçığın tamamının veya bir kısmının Millî Eğitim Bakanlığı Ölçme, Değerlendirme ve Sınav Hizmetleri Genel Müdürlüğünün yazılı izni olmadan kopya edilmesi, fotoğraflarının çekilmesi, bilgisayar ortamına alınması, herhangi bir yolla çoğaltılması, yayımlanması ve başka bir amaçla kullanılması yasaktır. Bu yasağa uymayanlar, doğabilecek hukukî sorumluluğu ve sınavın hazırlanmasındaki malî yükümlülüğü peşinen kabullenmiş sayılır.