



T.C.
MİLLÎ EĞİTİM BAKANLIĞI
ÖLÇME, DEĞERLENDİRME VE SINAV HİZMETLERİ GENEL MÜDÜRLÜĞÜ

2017 - 2018

6. SINIF DEĞERLENDİRME SINAVI - 2



Adı ve Soyadı :
Sınıfı :
Öğrenci Numarası :

- Bu kitapçıkta 6 alt test bulunmaktadır:
 1. Türkçe Testi
 2. Matematik Testi
 3. Fen Bilimleri Testi
 4. Sosyal Bilgiler Testi
 5. Din Kültürü ve Ahlak Bilgisi Testi
 6. Yabancı Dil Testi
- Bu sınav, öğrencilerimizin 2017 - 2018 Eğitim ve Öğretim Yılı çalışmalarını değerlendirmeleri amacıyla 6. sınıf kazanımları dikkate alınarak oluşturulmuştur.



TÜRKÇE TESTİ

Bu testte, Türkçe alanına ait 20 soru bulunmaktadır. Bu testin çözümü için önerilen süre 40 dakikadır.

1. Yolda tesadüfen karşılaştan tanıdıklar, sevinç içinde
I II
kucaklarken birbirlerini, gözleri hemen çay içecek bir yer
III
arar. Çay içecek bir yer bulununca da en koyu sohbetler
IV
eşliğinde çaylar içilir.

Bu parçada numaralanmış sözcüklerden hangisi mecaz anlamda kullanılmıştır?

- A) I. B) II. C) III. D) IV.

2. Kündekâri, ahşap işçiliğinin önemli tekniklerinden biri olarak Anadolu'da Selçuklu zamanında ortaya çıkmıştır. Ahşaba, sabırdan kanatlar takmaya benzer kündekâri. Ortaya konan harika eserler, zevk sahibi bir medeniyetin habercisidir. Tarihin derinliklerinden sağ salim gelen bu eserlerde eşsiz bir ahengin sesi duyulur.

Bu parçadaki altı çizili sözün anlamı aşağıdakilerden hangisidir?

- A) Ara vermeden
B) Kusurlarından arınarak
C) Hiçbir zarar görmeden
D) Düzenli bir biçimde

3. (I) ABD, Ay'a insan göndermek için Apollo adı verilen uçuş programını 1961'de başlattı. (II) Bu uçuşları yap-sın diye seçilen astronotlar uzun eğitimlerden geçti. (III) Uzayda karşılaşılabilecek zorluklarla başa çıkmak için bedenlerini hazırlıyorlardı. (IV) Geri planda çalışan ekipse uzay aracının tasarımından kullanılacak kame-ralara, astronotların giysilerinden uzaya götürülecek yiyeceklere kadar her ayrıntıyı düşünüyordu.

Bu parçada numaralanmış cümlelerden hangisinde amaç-sonuç ilişkisi yoktur?

- A) I. B) II. C) III. D) IV.

4. (I) Yemyeşil ağaçlar arasında mücevher gibi parlayan Borabay Gölü, kış aylarında bembeyaz elbisesini kuşanıyor. (II) Baharla birlikte yeniden yaprak yaprak açan ağaçların diplerini yosun ve mantarlar süslüyor, toprak ise çimenler ve dağ çiçekleriyle şenleniyor. (III) Yaz aylarında reçine kokusuyla harmanlanmış toprak kokusu sarıyor her yanı. (IV) Sonbahara doğru, yüksekliğin ve soğuşun etkisiyle geniş yapraklı ağaçlar rengârenk bir görünüme bürünüyor.

Bu parçada numaralanmış cümlelerle ilgili aşağıdakilerden hangisi yanlıştır?

- A) I. cümlede benzetme yapılmıştır.
B) II. cümlede öznel anlatımdan yararlanılmıştır.
C) III. cümlede beğenme anlamı vardır.
D) IV. cümlede neden-sonuç ilişkisi vardır.

5. Anlatımda açıklık; sözcüklerin, deyimlerin uygun yerde ve anlamda, noktalama işaretlerinin eksiksiz ve yerli yerinde kullanılmasıyla sağlanır. Ayrıca değişik anlamlara gelen cümleler, belirgin olmayan bağlantılar, mantıksal yapıdaki kopukluklar anlatımın açıklığını engeller.

Buna göre aşağıdakilerden hangisi açıklık ilkesine aykırı bir cümle değildir?

- A) Erken gel ablan gibi geç kalıp da bizi telaşlandırma.
B) Bu yarışmaya, iki resim alanında yetenekli öğrenci katılacak.
C) Dün akşam, aklıktan gözü dönmüş bir hâlde mutfağa girdi.
D) Bebeklerin boyu çok kısa sürede büyümüş.

16. Beşiktaş'ta Barbaros Meydanı

I
Sağı anıt, solu türbe
II

Ortası kare şeklinde,
III IV

Parkıdır yoksulların
Bilhassa yaz ayları.

Bu dizelerde numaralanmış sözcüklerle ilgili aşağıdakilerden hangisi söylenemez?

- A) I. sözcükte ünsüz benzeşmesi meydana gelmiştir.
B) II. sözcükte ünsüz yumuşaması olmuştur.
C) III. sözcükte kaynaştırma harfi kullanılmıştır.
D) IV. sözcükte ünlü düşmesi vardır.

17. Burası, büyük kentlere benzeyen tatil yörelerinden sıkı-
lanlar için çok huzurlu ve dinlendirici bir ortam sunuyor.

Bu cümlede aşağıdakilerden hangisi yoktur?

- A) Belgisiz zamir B) Sıfat tamlaması
C) Edat D) Bağlaç

18. Türkülerde tüter dağ dağ, yayla yayla

I
Köyümüz, köylümüz, memleketimiz.
II

Ah bu türküler,
Köy türküleri
Dilimizin tuzu biberi
Memleketin hâlini onlardan sor
III

Kitaplarda değil, türkülerde ara Yemen'i
Öleni, kalanı, gidip gelmeyi...
Ben türkülerden aldım haberi.
IV

Bu dizelerde numaralanmış sözcüklerle ilgili aşağıdakilerden hangisi yanlıştır?

- A) I. sözcükte çoğul eki ve hâl eki kullanılmıştır.
B) II. sözcük, yapıca türemiştir.
C) III. sözcük, ilgi eki almıştır.
D) IV. sözcükte iyelik eki vardır.

19. Yirmi altı ülkeden yüzlerce kukla sanatçısını buluştura-
cak olan İzmir Kukla Festivali, 18 Mart 2018'de düzen-
lenecek. Kuklayı tüm yönleriyle ele almayı amaçlayan
bu festival, her yaştan izleyiciye uygun etkinlikleriyle
tüm İzmirliilerin katılımına açık olacak.
IV

Bu parçada numaralanmış bölümlerden hangisinde yazım yanlışı vardır?

- A) I. B) II. C) III. D) IV.

20. Bir kara parçasının kıta mı yoksa ada mı olduğunun net
bir tanımı yoktur? Tek bir ölçüt vardır: Büyüklük... Ada-
lar çok küçük olabildikleri gibi çok büyük de olabilir ama
kıtalar çok büyük hatta devasa olur!
IV

Bu parçada numaralanmış noktalama işaretlerinden hangisi doğru kullanılmıştır?

- A) I. B) II. C) III. D) IV.

MATEMATİK TESTİ

Bu testte, Matematik alanına ait 20 soru bulunmaktadır. Bu testin çözümü için önerilen süre 40 dakikadır.

1. $3 \cdot 2^4 + 4 \cdot 5^2$ işleminin sonucu kaçtır?

- A) 64 B) 96 C) 124 D) 148

2. Beş basamaklı A437B sayısı 2, 3, 5 ile tam bölünebilmektedir.

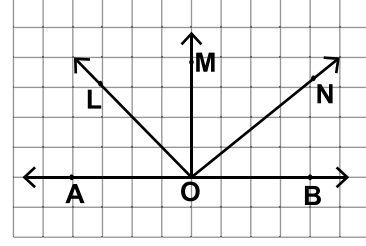
Buna göre $A + B$ aşağıdakilerden hangisi olabilir?

- A) 4 B) 6 C) 9 D) 12

3. 144 sayısının asal çarpanlarının çarpımı şeklinde yazılışı aşağıdakilerden hangisidir?

- A) $2^3 \cdot 3^3$ B) $2^2 \cdot 3^4$ C) $2^4 \cdot 3^2$ D) $2^3 \cdot 3^4$

4.



Kareli kâğıtta verilen şekle göre \widehat{BON} 'nın bütünleri aşağıdakilerden hangisidir?

- A) \widehat{AON} B) \widehat{MON} C) \widehat{LON} D) \widehat{BOM}

5. İlker uzunluğu 10 m olan tahtalardan 4 tanesinin $\frac{2}{5}$ 'ini, 3 tanesinin de $\frac{3}{5}$ 'ünü kullanmıştır.

Buna göre İlker toplam kaç metre tahta kullanmıştır?

- A) 17 B) 20 C) 34 D) 40

6. Çözümlemiş hâli $8 \cdot 100 + 5 \cdot 1 + 7 \cdot 0,01 + 3 \cdot 0,001$ olan ondalık gösterim aşağıdakilerden hangisidir?

- A) 805,037 B) 805,073
C) 805,703 D) 805,73

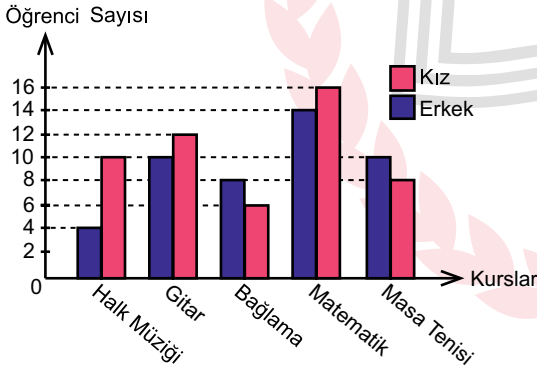
7. Aşağıda verilen eşitliklerden hangisi yanlıştır?

- A) $3,006 \cdot 10 = 300,6$
 B) $472,3 : 100 = 4,723$
 C) $27,42 \cdot 100 = 2742$
 D) $8946 : 10 = 894,6$

8. Anıl'ın kütlesi birinci ay 2,245 kg artmış, ikinci ay 3,35 kg daha artmış, üçüncü ay ise 4,05 kg azalmıştır. **Başlangıçta 72 kg olan Anıl'ın kütlesi üçüncü ayın sonunda kaç kilogramdır?**

- A) 74,945
 B) 73,545
 C) 71,895
 D) 70,455

9. Grafik: Kız ve Erkek Öğrencilerin Kurslara Göre Dağılımları



Yukarıda verilen grafikte her öğrencinin sadece bir kursa katıldığı bir okulda kurslara katılan kız ve erkek öğrencilerin dağılımları gösterilmiştir.

Buna göre aşağıdakilerden hangisi doğrudur?

- A) En fazla öğrenci masa tenisi kursundadır.
 B) Bu okulda toplam 100 kişi kursa gitmektedir.
 C) Kursa giden kız ve erkek öğrenci sayıları eşittir.
 D) Matematik kursuna katılanlar bağlama kursuna katılanlardan 16 kişi fazladır.

10. Tablo: Satılan Simit Sayıları

Günler	Satış Sayısı
Pazartesi	51
Salı	42
Çarşamba	45
Perşembe	74
Cuma	53

Yukarıdaki tabloda okul kantininde hafta içinde satılan simit sayıları verilmiştir.

Bu bilgilere göre kantinde satılan simit sayılarından oluşan veri grubunun ortalaması ile açıklığı arasındaki fark aşağıdakilerden hangisidir?

- A) 18
 B) 21
 C) 32
 D) 42

11. $|-16| + (-4) - |12| - (-32)$ işleminin sonucu kaçtır?

- A) -32
 B) -8
 C) 8
 D) 32

12. Pazartesi cumaya kadar okula gittiği her gün 15 TL harçlık alan Burcu yol için 4 TL, yemek için 7 TL ödedikten sonra kalan parasını biriktirmektedir. Cumartesi ve pazar ise günlük aldığı 12 TL harçlığın yarısını biriktirmektedir.

Burcu 4 haftada toplam 3 gün okula gitmediğine göre toplam kaç lira biriktirir?

- A) 128
 B) 116
 C) 108
 D) 92

13. Emre müzik kursuna başlamadan önce 12 şarkı bilmektedir. Müzik kursuna başladıktan sonra ise her hafta 2 yeni şarkı öğrenmektedir.

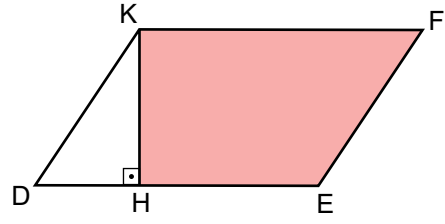
Hafta sayısı n ile ifade edildiğine göre Emre'nin bildiği şarkı sayısının hafta sayısı ile ilişkisini veren cebirsel ifade aşağıdakilerden hangisidir?

- A) $n + 12$ B) $10n + 2$
C) $10n + 4$ D) $2n + 12$

14. $(7x - 8) - (9x - 13)$ işleminin sonucu aşağıdakilerden hangisidir?

- A) $-2x + 5$ B) $-2x - 5$
C) $2x - 5$ D) $5x - 2$

- 15.



Yukarıdaki DEFK paralelkenarının çevresi 62 cm'dir. $[KH] \perp [DE]$, $|KD| = |HE| = 13$ cm ve $|KH| = 12$ cm olduğuna göre boyalı bölgenin alanı kaç santimetrekaredir?

- A) 216 B) 208 C) 186 D) 154

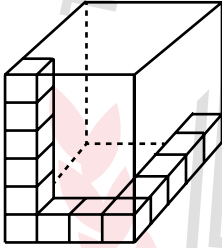
16. Aşağıdaki eşitliklerden hangisi yanlıştır?

- A) $3\,000\,000 \text{ m}^2 = 3 \text{ km}^2$
B) $12\,000 \text{ cm}^2 = 120 \text{ m}^2$
C) $45 \text{ cm}^2 = 4500 \text{ mm}^2$
D) $7\,400\,000 \text{ mm}^2 = 7,4 \text{ m}^2$

17. Tabanının uzunluğu 27 cm olan bir üçgenin alanı 54 cm^2 olduğuna göre bu tabana ait yüksekliğin uzunluğu kaç santimetredir?

A) 1 B) 2 C) 3 D) 4

18.



Yukarıdaki dikdörtgenler prizması şeklindeki kolyi tamamen doldurmak için kaç adet daha birimküpe ihtiyaç vardır?

A) 13 B) 15 C) 107 D) 120

19. Ayrıtlarının uzunlukları birbirinden farklı, hacmi 48 birimküp olan ve birimküplerle oluşturulmuş dikdörtgenler prizmasına en az kaç birimküp eklenirse yeni bir dikdörtgenler prizması oluşturulabilir?

A) 1 B) 2 C) 6 D) 8

20. Aşağıdakilerden hangisi doğrudur?

A) $1,01 \text{ m}^3 = 110 \text{ dm}^3$
 B) $0,101 \text{ dm}^3 = 10 \text{ 100 cm}^3$
 C) $101 \text{ 000 cm}^3 = 0,101 \text{ m}^3$
 D) $1011 \text{ mm}^3 = 10,11 \text{ cm}^3$

FEN BİLİMLERİ TESTİ

Bu testte, Fen Bilimleri alanına ait 20 soru bulunmaktadır. Bu testin çözümü için önerilen süre 40 dakikadır.

1. • Mitokondri
• Ribozom
• Kloroplast

Yukarıda verilen organellerin tamamının bulunduğu hücre, hangi canlıya ait olabilir?

- A) Kedi
B) Çimen
C) Maymun
D) İnsan

2. **Kol ve bacaklarımızda bulunan uzun kemikler ile ilgili,**

- I. Ortasında sarı kemik iliği bulunur.
II. Dışı kemik zarı ile sarılmıştır.
III. Baş kısmında kemiğin boyca uzamasını sağlayan kıkırdak doku vardır.

ifadelerinden hangileri doğrudur?

- A) Yalnız I.
B) I ve II.
C) II ve III.
D) I, II ve III.

3.

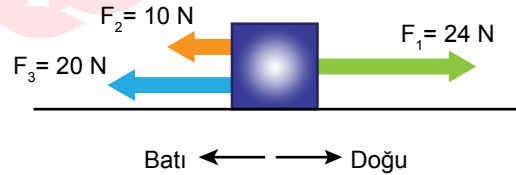


- Yemek ve soluk borusunun birleştiği yerdir.
- Ağızdan alınan besinlerin yemek borusuna, burundan gelen havanın soluk borusuna iletilmesine yardımcı olur.

Yukarıda verilen bilgi kartındaki ifadeler solunum sisteminin hangi elemanına aittir?

- A) Yutak
B) Gırtlak
C) Bronşlar
D) Akciğerler

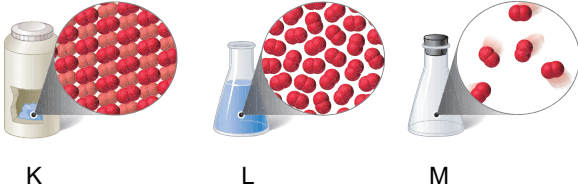
4. Yatay sürtünmesiz düzlemde bulunan kutuya uygulanan kuvvetler şekilde gösterilmiştir.



Bu kutuya etki eden bileşke kuvvetin yönü ve büyüklüğü aşağıdakilerden hangisidir?

- A) Doğu, 6 N
B) Doğu, 12 N
C) Batı, 14 N
D) Batı, 6 N

5. Görselde bir maddenin farklı hâlleri verilmiştir.



Bu hâller ile ilgili,

- I. K'nın tanecikleri yalnız titreşim hareketi yapar.
- II. L, akışkan olup belirli bir şekli vardır.
- III. M, kolayca sıkıştırılabilir.

İfadelerinden hangileri doğrudur?

- A) Yalnız II. B) I ve II.
C) I ve III. D) I, II ve III.

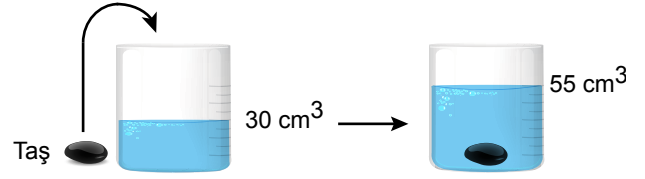
6. Fen Bilimleri dersinde fiziksel ve kimyasal değişimleri göstermek için öğrenciler dört gruba ayrılıp farklı etkinlikler hazırlıyorlar. Grupların yaptıkları etkinlikler aşağıda verilmiştir.

GRUPLAR	ETKİNLİKLER
I. Grup	Balonları üfleyerek şişiriyorlar.
II. Grup	Bir kaşık şekeri su içinde çözüyorlar.
III. Grup	Kağıtları yakıyorlar.
IV. Grup	Bir bardak suyu kaynatıyorlar.

Buna göre hangi grubun yaptığı etkinlikte meydana gelen değişim, diğerlerinden farklıdır?

- A) I. B) II. C) III. D) IV.

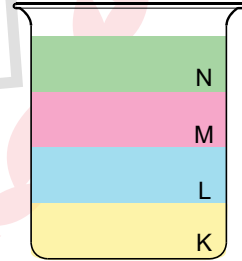
7. Şekildeki taş parçası, içinde 30 cm^3 su bulunan kaba atıldığında kaptaki su seviyesi 55 cm^3 oluyor.



Taşın kütlesi 100 gram olduğuna göre, yoğunluğu kaç g/cm^3 'tür?

- A) 4 B) 5 C) 7 D) 10

8. Birbiri içinde çözünmeyen farklı yoğunluktaki sıvılar bir kabın içinde şekildeki gibi görünmektedir.



Buna göre hangi sıvının yoğunluğu en fazladır?

- A) K B) L C) M D) N

9. Bir canlının üreme ve gelişmesi şu şekilde özetlenmiştir:

İç döllenme yapar.
Yumurtlar.
Dış gelişme görülür.
Yavru bakımı yoktur.

Buna göre bu canlı aşağıdakilerden hangisi olabilir?

- A) Hamsi
B) Fil
C) Ördek
D) Kertenkele

10.



Öglena

Kedi

Hidra

Penguen

Görselde verilen canlıların üreme biçimleri aşağıdakilerden hangisinde doğru sınıflandırılmıştır?

Eşeyli üreme

Eşeysiz üreme

- | | |
|--------------------|------------------------|
| A) Penguen, kedi | Öglena, hidra |
| B) Hidra, kedi | Penguen, öglena |
| C) Öglena, penguen | Kedi, hidra |
| D) Kedi | Hidra, öglena, penguen |

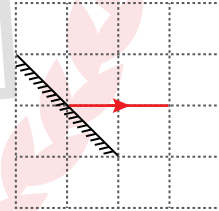
11. Çiçekli bir bitkide tohum ve meyve oluşumuna kadar gerçekleşen olaylar aşağıda numaralandırılmıştır.

1. Tozlaşma
2. Polen üretimi
3. Döllenme
4. Zigot oluşumu

Bu olayların gerçekleşme sırasına göre doğru dizilimi, hangisinde verilmiştir?

- A) 1 - 3 - 2 - 4
B) 4 - 2 - 1 - 3
C) 3 - 4 - 1 - 2
D) 2 - 1 - 3 - 4

12. Şekilde düzlem aynadan yansıyan bir ışın verilmiştir.



Buna göre bu aynaya gelen ışın aşağıdakilerin hangisinde doğru çizilmiştir?

- A)
- B)
- C)
- D)

13. • Sonar
• Ultrason

Yukarıda verilen cihazların yapımında sesin hangi özelliği esas alınmıştır?

- A) Yansıması
B) Soğurulması
C) Şiddeti
D) İletimi

14. Aşağıda verilen uygulamalardan hangisi ses yalıtımını sağlamak amacıyla yapılmaz?

- A) Binaların duvarlarında delikli tuğla kullanılması
B) Yol kenarları ve bölünmüş yol ortalarının ağaçlandırılması
C) Bazı kapıların camdan yapılmış bölümlerine buzlu cam takılması
D) Motorlu taşıtların egzozlarında susturucu bulunması

15. Karnı acıkan Elif, yumurta pişirmek için mutfağa gidiyor. Ocağın altını yakarak tavayı üstüne yerleştiriyor. Tavanın içine koyduğu bir miktar tereyağı eriyince yumurtayı kırıp pişiriyor.

Yukarıda verilen olayda maddeler arasında gerçekleşen ısı aktarımının yönü hangisinde yanlış verilmiştir?

- A) Ocak → Tava
B) Tava → Tereyağı
C) Yumurta → Tava
D) Tereyağı → Yumurta

16. Yapıldıkları malzemeler farklı olan su bardaklarına, sıcaklığı 3°C olan sudan eşit miktarlarda doldurularak 30°C sıcaklığındaki odaya bırakılıyor.

Yarım saat sonra suların sıcaklıkları kontrol edildiğinde, bardakların birindeki suyun sıcaklığındaki artışın diğerlerine göre daha az olduğu gözleniyor.

Buna göre bu bardak hangi malzemeden yapılmış olabilir?

- A) Seramik
B) Alüminyum
C) Plastik
D) Köpük

17. İLETKENLER

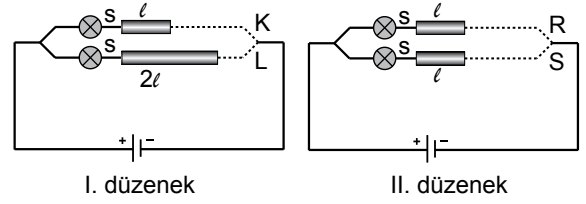
YALITKANLAR

- | | |
|----------------|----------------------|
| 1. Tuzlu su | a. Seramik tabak |
| 2. Altın kolye | b. Plastik tarak |
| 3. Demir bilye | c. Alüminyum tencere |
| 4. Hava | d. Saf su |

Elektrik iletkeni ve yalıtkanı olan maddeleri sınıflandırırken hata yapan Emre, hangi ikisinin yerini değiştirmelidir?

- | | |
|----------|----------|
| A) 1 - d | B) 2 - a |
| C) 3 - b | D) 4 - c |

18. Hakan, ampul parlaklığının bağlı olduğu değişkenleri keşfetmek amacı ile özdeş ampul ve piller kullanarak iki farklı elektrik düzeneği hazırlamıştır.



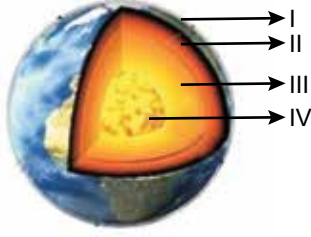
Hakan I. düzeneğe uzunlukları farklı, aynı maddeden yapılmış iletkenler ile oluşturduğu düzeneğe, önce K ucunu devreye bağlayarak ampul parlaklığını gözlemiş sonra L ucunu devreye bağlayarak ampul parlaklığını gözlemiştir.

II. düzeneğe aynı boyda farklı maddelerden yapılmış iletkenler kullandığı düzeneğe önce R ucunu devreye bağlayıp, sonra S ucunu devreye bağlayıp ampul parlaklıklarını gözlemiştir.

Buna göre Hakan, gözlemleri sonucunda aşağıdaki yargılardan hangisine ulaşamaz?

- (S: İletken telin dik kesit alanı, l : İletken telin uzunluğu)
- A) II. düzeneğe ampul parlaklığının iletkenin cinsine bağlı olup olmadığı anlaşılır.
- B) I. düzeneğe K ve L uçları ayrı ayrı devreye bağlandığında ampul parlaklığı değişir.
- C) II. düzeneğe ampul parlaklığının iletkenin kesit alanı ile ilişkisi gözlemlenebilir.
- D) I. düzeneğe ampul parlaklığının iletkenin boyu ile ters orantılı olduğu sonucuna ulaşır.

19. Aşağıda Dünya'nın katman modeli üzerinde, bazı noktalar numaralanmıştır.



Bu noktalardan hangisi Dünya'nın en kalın ve en sıcak katmanını göstermektedir?

- A) I. B) II. C) III. D) IV.

- 20.



Karpuz



Bezelye



Domates

Dünya, Güneş ve Ay'ın büyüklüklerine göre bir model hazırlamak için verilenlerden hangileri seçilmelidir?

	Dünya	Güneş	Ay
A)	Karpuz	Domates	Bezelye
B)	Bezelye	Karpuz	Domates
C)	Domates	Bezelye	Karpuz
D)	Domates	Karpuz	Bezelye

SOSYAL BİLGİLER TESTİ

Bu testte, Sosyal Bilgiler alanına ait 20 soru bulunmaktadır. Bu testin çözümü için önerilen süre 40 dakikadır.

1. Akdeniz kıyılarında yıllık güneşlenme süresinin uzun olması;

- I. tarım sezonunun uzun sürmesi,
- II. deniz turizminin gelişmesi,
- III. madencilik faaliyetlerinin yapılması

gelişmelerinden hangilerini etkiler?

- A) I ve II.
- B) I ve III.
- C) II ve III.
- D) I, II ve III.

2. Doğruluğu bilimsel olarak kanıtlanabilir ifadelere olgu denir. **Buna göre, aşağıdakilerden hangisi olguya örnektir?**

- A) Yerden yükseldikçe atmosfer basıncı azalır.
- B) Resim sanatı diğer sanatlardan daha önemlidir.
- C) Roman okumak, sinemaya gitmekten daha zevklidir.
- D) Türkiye'nin en güzel kenti Trabzon'dur.

3. I. Yeryüzü şekilleri
II. Su kaynakları
III. Ekonomik faaliyetler

Yukarıdakilerden hangileri dünyada nüfusun dağılışını etkileyen doğal faktörlerdendir?

- A) Yalnız I.
- B) I ve II.
- C) I ve III.
- D) I, II ve III.

4. Demokratik yönetimlerin dayandığı bazı temel ilkeler vardır. Bu temel ilkeler zamanla tüm demokratik ülkelerin ortak özelliği haline gelmiştir.

Buna göre aşağıdakilerden hangisi bu temel ilkelerden biri değildir?

- A) Milli egemenlik
- B) Eşitlik
- C) İnsan haklarına saygı
- D) Tek parti yönetimi

5. • Doğal bitki örtüsü makidir.
• Sıcaklık 0°C'nin altına pek düşmez.
• En yağışlı mevsimi kıştır.

Yukarıda bazı özellikleri verilen iklim tipi aşağıdakilerden hangisidir?

- A) Karadeniz iklimi
- B) Akdeniz iklimi
- C) Karasal iklimi
- D) Muson iklimi

6. Ege Bölgesi, ticaretin geliştiği bölgelerimizden biridir. Bu bölgede tarım ve sanayi ürünleri ulaşım imkânlarının gelişmiş olması nedeniyle kolayca pazarlanabilmektedir. Ayrıca yaz ayları boyunca açılan İzmir Fuarı da bölgenin ticaret hacmini artırmaktadır.

Bu durumun sonuçları arasında aşağıdakilerden hangisi gösterilebilir?

- A) Bölgenin jeopolitik öneminin azalması
- B) Halkın gelir düzeyinin yükselmesi
- C) İş imkânlarının azalması
- D) Şehirleşme oranının azalması

7. Ülkemiz zengin kaynaklarıyla kendi ihtiyaçlarını karşılamakta yanda ihtiyaç fazlası ürünleri diğer ülkelere ihraç ederek gelir elde etmektedir.

Buna göre aşağıdakilerden hangisi Türkiye'nin ihraç ettiği ürünler arasında yer almaz?

- A) Ham petrol ve doğalgaz
- B) Tekstil ve giyim ürünleri
- C) Metal sanayi ürünleri
- D) Motorlu kara taşıtları

8. Aşağıdakilerden hangisi doğrudan ürün ya da hizmet alırken ödediğimiz vergilerdendir?

- A) Çöp vergisi
- B) Özel tüketim vergisi
- C) İlan ve reklam vergisi
- D) Çevre temizlik vergisi

9. İlk Türk devletlerinin yöneticilerine "kağan" eşlerine ise "hatun" denirdi. Hatun devlet idaresinde söz sahibiydi. Kurultaya katılır ve yabancı elçileri kabul ederdi. Devletin iç ve dış işlerinde onun düşüncelerine önem verilirdi.

Bu bilgilere göre İlk Türk devletleriyle ilgili aşağıdakilerden hangisine ulaşılabilir?

- A) Devlet yönetiminde kadına önem verilmiştir.
- B) Kağan ülkeyi tek başına yönetmektedir.
- C) Kurultayda alınan kararlar uygulanmak zorundadır.
- D) Dış ülkelerle olan ilişkilerde son sözü hatun söylemiştir.

10. Fabrikaların kurulmasında hammaddeye yakınlık önemli bir etkidir.

Buna göre aşağıda verilen fabrika ve kurulması planlanan şehir eşleştirmelerinden hangisi yanlıştır?

- A) Çay Fabrikası - Mersin
- B) Süt Fabrikası - Erzurum
- C) Makarna Fabrikası - Ankara
- D) Zeytinyağı Fabrikası - Balıkesir

11. Ülkemizin bölgelerinde çeşitli ekonomik faaliyetler yapılmaktadır. Bu faaliyetlerin farklı olmasını yeryüzü şekilleri, iklim, bitki örtüsü, nüfus, yeraltı kaynakları vb. birçok faktör etkilemektedir.

Buna göre, İç Anadolu Bölgesi'nde aşağıdaki ekonomik faaliyetlerden hangisinin daha az yapılması beklenir?

- A) Tarım
- B) Ticaret
- C) Sanayi
- D) Ormanlık

12. 1999 yılında ülkemizde, 2004 yılında Endonezya ve 2005 yılında Pakistan'da yaşanan depremler sonrasında dünyadaki bir çok ülke, yardımlarını hızlı bir şekilde deprem bölgelerine ulaştırarak insanların yaralarını sarmalarına yardımcı olmuşlardır. Çünkü bu gibi durumlarda ülkeler yardıma ihtiyaç duyarlar ve yapılan yardımlar ülkeler arasındaki bağları kuvvetlendirir, iş birliğini geliştirir. Ülkemizde ise Kızılay, diğer ülkelere yardım etme konusunda faaliyet gösteren önemli kuruluşların başında gelmektedir.

Yukarıdaki paragrafla ilgili aşağıdakilerden hangisi söylenemez?

- A) Dünyada meydana gelen doğal afetlerde ülkeler birbirlerine yardım etmektedirler.
- B) Ülkeler arası yardımlaşmalar ülkeleri birbirine yaklaştırarak sosyal bağları kuvvetlendirmektedir.
- C) Ülkemiz dünyada meydana gelen doğal afetlere yardım etme konusunda kayıtsız kalmaktadır.
- D) Doğal afetler sonrasında insanların yaralarını sarmak insanlık görevidir.

13.



Artık tek yetkili padişah olamayacak, Osmanlı vatandaşları da yönetimde söz sahibi olacaktır.

Mithat Paşa'nın yukarıda bahsettiği, "bir hükümdarın başkanlığı altında parlamento yönetimine dayanan yönetim biçimi" aşağıdakilerden hangisidir?

- A) Meşrutiyet
B) Mutlak Monarşi
C) Demokrasi
D) Oligarşi

14.



Mustafa

Yaşadığım yörede yazlar nispeten serin, kışlar ılık ve her mevsim yağışlıdır. Yağışlar, sonbahar mevsiminde artış göstermekle birlikte her yer ormanlarla kaplıdır.

Mustafa'nın ifadesine göre, yaşadığı yörede görülen iklim tipi aşağıdakilerden hangisidir?

- A) Karasal iklim
B) Akdeniz iklimi
C) Karadeniz iklimi
D) Kutup iklimi

15. Ülkemizde ve dünyanın birçok ülkesinde uluslararası kültür, sanat, fuar ve spor etkinlikleri yapılmaktadır. Bu etkinliklere, kültür farkı gözetilmeksizin birçok ülkeden insanlar katılmaktadır.

Bu tür etkinlikler aşağıdakilerden hangisine neden olmaz?

- A) Kültürel etkileşimin yaşanmasına
B) Yeni dostlukların kurulmasına
C) Milletlerarası hoşgörünün artmasına
D) Ülke sınırlarının değişmesine

16. Aşağıdakilerden hangisi dünyada kalabalık nüfuslu yerlerin genel özelliklerinden biri değildir?

- A) Verimli tarım arazileri vardır.
B) Ortalama yükselti fazladır.
C) Uygun iklim şartları görülür.
D) Sanayi ve turizm gelişmiştir.

17. Üreticiyi korumak amacıyla ürünü belirli bir süre üretme, kullanma ve satma hakkına patent denir. Ayrıca yurt dışında üretilen bir ürünün yurt içindeki kullanım hakkı da patent olarak kabul edilebilir. Ülkemizde insanların buluşları ve icatları Türk Patent Enstitüsü tarafından tescillenmektedir.

Buna göre, patent hakkının verilmesinin amaçları arasında aşağıdakilerden hangisi gösterilemez?

- A) Herkese üretim hakkı vermek
B) Buluş sahibini ödüllendirmek
C) Buluş faaliyetlerini özendirmek
D) Yaratıcılığın korunmasını sağlamak

18. Hz. Muhammed, Veda Hutbesinde insanlara şu öğütlerde bulunmuştur:

- Arap'ın Arap olmayana, Arap olmayanın da Arap'a üstünlüğü yoktur.
- İnsanların canları, malları ve namusları kutsaldır.
- Erkeklerin kadınlar üzerinde hakları, kadınların da erkekler üzerinde hakları vardır.

Buna göre Veda Hutbesi'yle ilgili aşağıdaki yorumlardan hangisine ulaşamaz?

- A) İnsanlar arası eşitlikten söz edilmiştir.
B) İnsan hayatının değerli olduğu vurgulanmıştır.
C) Kadın ve erkeğin karşılıklı haklarından bahsedilmiştir.
D) İnsanlar ticaret yapmaya özendirilmiştir.

DİN KÜLTÜRÜ VE AHLAK BİLGİSİ TESTİ

Bu testte, Din Kültürü ve Ahlak Bilgisi alanına ait 20 soru bulunmaktadır. Bu testin çözümü için önerilen süre 40 dakikadır.

1. Kur'an-ı Kerim'de;

- I. peygamberlerin mücadeleleri,
- II. salih kişiler ve geçmiş topluluklar,
- III. inananların inançları uğruna çektikleri

ile ilgili bilgilere verilen ad aşağıdakilerden hangisidir?

- | | |
|----------|----------|
| A) Örnek | B) Kissa |
| C) Ders | D) Masal |

2. İslam'a çağırının ilk üç yılıyla ilgili aşağıdaki bilgilerden hangisi yanlıştır?

- A) Allah resulü İslam'ı üç yıl gizli tebliğ etti.
- B) İlk üç yıl Müslümanların sayısı çok az arttı.
- C) Başlangıçta yakın çevresine İslam'ı anlattı.
- D) Hz. Ömer İslam'ı hicretten hemen önce kabul etti.

- ## 3.
- Müslümanlar için yeni bir dönem başlamış oldu.
 - Müslümanlar Müşriklerin zulüm ve baskısından kurtuldu.
 - İslam'ı tebliğ etmenin önü açıldı ve Müslümanların sayısı hızla arttı.

Bu durumlar aşağıdaki tarihi olayların hangisinin sonucudur?

- | | |
|---------------------|-------------------------|
| A) Bedir savaşı | B) Medine Sözleşmesi |
| C) Medine'ye hicret | D) Hudeybiye Antlaşması |

- ## 4.
- "İman edip de hicret edenler, malları ve canlarıyla Allah yolunda mücadele edenler ve onları çağırılmasına basıp yardım edenler birbirlerinin yâr ve yakınlarıdır..."
(Enfal suresi, 72. ayet)

Bu ayette altı çizili yerlere verilen isimler aşağıdakilerden hangisinde doğru sıralanmıştır?

- A) Mümin – Muhacir – Ensar
- B) Muhacir – Ensar – Mümin
- C) Ensar – Mümin – Muhacir
- D) Mümin – Ensar – Muhacir

- ## 5.
- "Ben bir öğretmen olarak gönderildim."

Aşağıdakilerden hangisi bu hadisin mesajına uygun bir davranış değildir?

- A) İnananları öğrenmeye teşvik etmek
- B) Öğretimi, Kur'an ile sınırlı tutmak
- C) Öğrencilere ve âlimlere değer vermek
- D) Öğrenmek isteyen herkese vakit ayırmak

- ## 6.
- Hz. Peygamber'in hicret ederken kendisine yol arkadaşı olarak seçtiği kişidir.
 - Hz. Peygamber'in, emanetleri Mekke'deki sahiplerine verip sonra hicret etmesi için kendi yerine bıraktığı kişidir.

Bu iki muhacir sahabe aşağıdakilerden hangisinde birlikte verilmiştir?

- A) Hz. Ali – Hz. Osman
- B) Hz. Osman – Hz. Ömer
- C) Hz. Ebu Bekir – Hz. Ali
- D) Hz. Ömer – Hz. Ebu Bekir

13. "Mü'minlerin kurtulduğundan şüphe yoktur. Çünkü onlar namazlarında derin saygı içindedirler. Boş iş ve sözlerden uzak dururlar. Zekâtı verirler ve iffetlerini korurlar."
(Müminun suresi, 1 - 4. ayetler)

Bu ayetlerde Kur'an'ın;

- I. inanç,
- II. ibadet,
- III. ahlak,

konularından hangileri yer almaktadır?

- A) I ve II.
- B) I ve III.
- C) II ve III.
- D) I, II ve III.

14. **Aşağıdaki ayetlerden hangisinin indirilmesiyle İslam dinine gizli davet döneminin bittiği kabul edilir?**

- A) "Ey örtüsüne bürünen! Kalk ve uyar!"
(Müddessir suresi, 1 ve 2. ayetler)
- B) "Rabbinin yoluna hikmetle ve güzel öğütle davet et..."
(Nahl suresi, 125. ayet)
- C) "Yakın akrabana da uyar. Sana uyan müminlere kol kanat ger."
(Şura suresi, 214 ve 215. ayetler)
- D) "Sen, sana buyurulanı açıkça duyur, müşriklere aldırış etme!"
(Hicr suresi, 94. ayet)

15. **Aşağıdakilerden hangisi Kureyş suresinde verilen mesajlardan biridir?**

- A) Ticaret, önemli geçim kaynaklarından biridir.
- B) Nimetlerin sahibi Allah'ın dini kabul edilmelidir.
- C) Kâbe ile ilgili hizmetler aksatılmadan yapılmalıdır.
- D) Kâbe'yi ziyaret edenlerin güvenlikleri sağlanmalıdır.

16. "Ey iman edenler! Zannın çoğundan sakının; çünkü bazı zanlar günahıdır. Gizlilikleri araştırmayın, birbirinizin gıybetini yapmayın."
(Hucurât suresi, 12. ayet)

Aşağıdaki kötü davranışlardan hangisi bu ayette yasaklananlardan biri değildir?

- A) Arkadan konuşmak
- B) Bilgisizce konuşmak
- C) Başkalarını kötülemek
- D) Özel hayatı araştırmak

17. "Eyyüb'u da an! Hani rabbine, "Başıma bu dert geldi. Ama sen merhametlilerin en üstünüsün." diye niyaz etmişti. Bunun üzerine biz, tarafımızdan bir rahmet ve kulluk edenler için anılacak bir örnek olmak üzere onun duasını kabul ettik; kendisinde dert ve sıkıntı olarak ne varsa giderdik; ona aile efradını, ayrıca bunlarla birlikte bir mislini daha verdik."
(Enbiyâ suresi, 83 ve 84. ayetler)

Bu ayetlere göre Hz. Eyüp'le ilgili aşağıdaki yargılardan hangisi yanlıştır?

- A) Duası kabul edilmiştir.
- B) Örnek bir şahsiyettir.
- C) Ailesini terk etmiştir.
- D) Sabırlı bir kişidir.

18. **Aşağıdakilerden hangisi kötü davranışların sebeplerinden biri değildir?**

- A) Doğru kişilerle arkadaşlık edilmemesi
- B) Şiddet içerikli oyunların tercih edilmesi
- C) Bazı büyüklerin olumsuz örnek olması
- D) Televizyon izlemede akıllı işaretlere uyulması

19. "Allah'ın laneti, rüşvet verenin ve alanın üzerindedir."

Bu hadisten aşağıdaki sonuçların hangisine ulaşamaz?


- A) Rüşvet, verene de alana da kaybettirir.
- B) Rüşvet almak vermektten daha kötüdür.
- C) Hak edilmeyen kazançtan Allah razı değildir.
- D) Haksız kazanç Allah'ın rahmetinden uzaklaştırır.

20. Peygamberlerle ilgili haberlerin içinden, kalbini pekiştirecek olanlarını sana aktarıyoruz. Bu kıssalarla, sana hak, mü'minlere de bir öğüt ve hatırlatma gelmiştir.

(Hûd suresi, 120. ayet)

Bu ayette Kur'an kıssalarının aşağıda verilen amaçlarından hangisine değinilmemiştir?

- A) Tavsiyede bulunmak
- B) Doğruyu açıklamak
- C) İnsanları uyarmak
- D) İnananları müjdelemek



MEB 2017 - 2018 • Ölçme, Değerlendirme ve Sınav Hizmetleri Genel Müdürlüğü

**DİN KÜLTÜRÜ VE AHLAK BİLGİSİ TESTİ BİTTİ.
DİĞER TESTE GEÇİNİZ.**

YABANCI DİL TESTİ

Bu testte, İngilizce alanına ait 20 soru bulunmaktadır. Bu testin çözümünü için önerilen süre 40 dakikadır.

1 - 9. sorularda boş bırakılan yere uygun gelen kelime ya da ifadeyi işaretleyiniz.

1. **Jack:** I feel energetic when it is sunny.

Leon: - - - -. I want to go out and play with my friends.

- A) You're welcome B) Well done
C) Me too D) I'm full

2. **Sam :** I'm learning a new traditional dance.

Carol: Oh, really? - - - -?

Sam : Flamenco. A traditional Spanish dance.

- A) When is the course
B) Who do you dance with
C) Where can I learn Spanish
D) What is its name

3. **Ann :** What's the weather like?

Brian: I don't understand. - - - -?

Ann : How is the weather?

Brian: Oh, it is sunny and hot.

- A) Do you feel excited
B) Can you repeat that
C) Would you like some
D) Is it a type of food

4. **Mary :** Let's ride on the ghost train.

James: Sure. - - - -.

- A) It's my favourite
B) I think it is terrible
C) I feel thrilled about it
D) It is really terrifying

5. **Bill** : A man robbed the bank last night.

Joe : - - - -?

Bill : No, he escaped in a van.

- A) Did he wear a mask
- B) How did he escape
- C) Did the police catch him
- D) Which bank did he rob

6. **Dave** : We elected our class president yesterday.

Kate : - - - -?

Dave : Tom. He is quite, respectful and honest.

- A) Were you a candidate on the election
- B) How often do you hold the election
- C) Did you vote in a public place
- D) Who did you vote for

7. **Nancy**: What should we do to save energy at home?

Bob : - - - -.

- A) We shouldn't recycle bottles and cans
- B) We shouldn't step on the grass
- C) We should water the plants
- D) We should turn off the taps

8. **Mr. Smith** : - - - -?

Julia : Well, I want to be a vet.

- A) Do you like animals
- B) What does a vet do
- C) What's your dream job
- D) Does a vet wear an apron

9. **Sandra** : I had a great holiday in Bodrum last summer.

Mark : - - - -?

Sandra : It was delicious.

- A) Where were you
- B) How was the food
- C) Where did you stay
- D) How did you go there

10. I. Someone broke into my house last night.

II. I was at the cinema with my friends.

III. You look sad. What happened?

IV. Really? Where were you at that moment?

Karışık olarak verilen cümlelerin anlamlı bir bütün oluşturacak şekilde sıralandığı seçeneği işaretleyiniz.

- A) IV - III - I - II
- B) III - IV - II - I
- C) IV - I - III - II
- D) III - I - IV - II

11.






We should unplug the electrical devices to save energy.

Verilen konuşma balonundaki ifade ile ilgili görselin bulunduğu seçeneği işaretleyiniz.




12. I work for long hours. I wear a uniform. I examine ill people and write prescriptions. I sometimes operate on my patients. What do I do?



13. We went to Erciyes last weekend. We stayed in tents and we did skiing. We also climbed the mountains. It was really exciting.

Yukarıdaki metinde seçeneklerin hangisinden söz edilmemektedir?



14.



Verilen görsellere göre doğru seçeneği işaretleyiniz.

- A) She wants to ride on the big wheel.
 B) The roller coaster is frightening for her.
 C) She thinks the roller coaster is amazing.
 D) The big wheel is her favourite ride.

15 - 17. soruları verilen metinlere göre cevaplayınız.



Gökçe

I visited my grandparents in the village last summer. I did hiking with my cousins and picked vegetables. It was fun for all of us.

I went to Fethiye with my family. We stayed at a big hotel. I swam all day and the food at the hotel was delicious.



David



Helen

I went to Italy with my friends. We did camping in the mountains. It was exciting but I felt scared at night.

I went to İstanbul alone. I visited museums and palaces. I stayed at a small hotel but the food was very bad.



Ali

15. - - - - thought the food was horrible.

- A) Gökçe B) David
C) Helen D) Ali

16. Gökçe - - - -.

- A) felt scared in the mountains
B) spent time with her relatives
C) did hiking alone
D) stayed in a tent

17. Sleeping in a tent was frightening for - - - -.

- A) Helen B) David
C) Gökçe D) Ali

18 - 20. soruları verilen metne göre cevaplayınız.

Two men broke into the city museum at 11.30 a.m. last Tuesday. They stole five valuable paintings and all the jewelery in the museum. Nobody saw the event. The police arrived at the museum in ten minutes but the robbers escaped in a black car. The police officers found some footprints and they watched the security camera recordings. The robbers wore masks and gloves. One of them was tall and fat and the other was short and slim. The police are still looking for them.

18. The robbery happened - - - -.

- A) late at night
B) in the morning
C) at the weekend
D) on Tuesday afternoon

19. The police couldn't find any fingerprints because - - - -.

- A) they watched the recordings
B) nobody saw the robbers
C) the robbers wore gloves
D) they arrived on time

20. Which is true?

- A) The police caught the robbers.
B) The robbers ran away in a car.
C) The witnesses talked to the police.
D) There was a burglary last Saturday.



SINAV BAŞLAMADAN ÖNCE AŞAĞIDAKİ UYARILARI MUTLAKA OKUYUNUZ.

1. Sınav kimlik bilgilerinizin doğruluğundan emin olunuz.
2. Sınav başladıktan sonra çevrenizdekilerle konuşmayınız.
3. Soruları cevaplamaya istediğiniz sorudan başlayabilirsiniz.
4. Cevaplarınızı cevap anahtarındaki ilgili soru numarasını dikkate alarak uygun bölüme kodlayınız.
5. Değiştirmek istediğiniz cevabı cevap anahtarına kodladığınızdan emin olunuz.
6. Cevabını bilmediğiniz sorular üzerinde fazla zaman kaybetmeden diğer sorulara geçiniz. Zaman kalırsa bu sorulara daha sonra dönebilirsiniz.
7. Sınav puanınızın hesaplanmasında sadece doğru cevaplarınız dikkate alınacaktır.
8. Cevap anahtarınızı sınav süresince başkalarının göremeyeceği şekilde önünüzde bulundurunuz.
9. Sınav sırasında sözlük, hesap makinası, cep telefonu ve bilgisayarınızın bu özelliklerini kullanmayınız.
10. Sınav süresince yerinizden ayrılmayınız.

Bu kitapçığın cevap anahtarına ulaşmak için karekodu okutunuz.



Bu kitapçığın her hakkı saklıdır. Hangi amaçla olursa olsun, kitapçığın tamamının veya bir kısmının Millî Eğitim Bakanlığı Ölçme, Değerlendirme ve Sınav Hizmetleri Genel Müdürlüğünün yazılı izni olmadan kopya edilmesi, fotoğraflarının çekilmesi, bilgisayar ortamına alınması, herhangi bir yolla çoğaltılması, yayımlanması ve başka bir amaçla kullanılması yasaktır. Bu yasağa uymayanlar, doğabilecek hukukî sorumluluğu ve sınavın hazırlanmasındaki malî yükümlülüğü peşinen kabullenmiş sayılır.