



T.C.
MİLLÎ EĞİTİM BAKANLIĞI
ÖLÇME, DEĞERLENDİRME VE SINAV HİZMETLERİ GENEL MÜDÜRLÜĞÜ

2017 - 2018

5. SINIF DEĞERLENDİRME SINAVI - 1

Adı ve Soyadı :
Sınıfı :
Öğrenci Numarası :

- Bu kitapçıkta 6 bölüm bulunmaktadır:
 1. Türkçe
 2. Matematik
 3. Fen Bilimleri
 4. Sosyal Bilgiler
 5. Din Kültürü ve Ahlak Bilgisi
 6. Yabancı Dil
- Bu sınav, öğrencilerimizin 2017 - 2018 Eğitim - Öğretim Yılı 1. dönem çalışmalarını değerlendirmeleri amacıyla hazırlanmıştır.
- Bu sınav, 5. sınıf 1. dönem kazanımları dikkate alınarak oluşturulmuştur.



TÜRKÇE TESTİ

Bu testte, Türkçe alanına ait 20 soru bulunmaktadır. Bu testin çözümü için önerilen süre 40 dakikadır.

1. Gün çekildi pencerelerden;
Aynalar baştan başa تنها.
Ses gelmez oldu bahçelerden;
Gök kubbesi döndü siyaha.

“Dönmek” sözcüğü bu dizelerde aşağıdaki anlamlarından hangisiyle kullanılmıştır?

- A) Hileyle, gizlice yapılmak
B) Olduğundan farklı bir durum almak
C) Yönetilmek, düzene konmak
D) Bırakılan bir konu veya işe başlamak

2. • Soba borusundaki kurumu temizlerken elleri kap-kara olmuştu.
• En son, dedesi ve babaannesi sağ iken köye gelmişlerdi.
• Çocuklar denize girip yüzmek için can atıyorlar.
• Gözlerinden, kırları artan sakalına bir iki damla yaş düştü.

Aşağıdakilerden hangisi, bu cümlelerdeki altı çizili sözcüklerden herhangi birinin eş seslisinin anlamı değildir?

- A) Derisini çıkarmak, derisini soymak
B) Vücutta kalbin bulunduğu tarafın karşısında olan, sol karşıtı
C) Şehir ve kasabaların dışında kalan, çoğu boş ve geniş yer, dağ bayır
D) Ocak bacalarında biriken veya çevrede savrulan kalın is

3. Kalbim al renkli bir çiçek
Ruhum üstündeki böcek
Size sevgim büyük gerçek
Renk renk kokulu çiçekler

Bu dördlükte geçen “ruh” sözcüğü aşağıdakilerden hangisine benzetilmiştir?

- A) Böcek
B) Sevgi
C) Çiçek
D) Kalp

4. (I) Kamp ateşi bir kampı yapan en önemli öğedir. (II) Birçok kampçı, geceleyin çevresinde oturulacak bir ateş yakmak ve bu ateşin etrafında sohbet etmek için gider kampa. (III) Dans eden alevler, kızıl korlanmış odunlar, yanan dalların çıkardığı çıtırtılar insana farklı bir heyecan yaşatır. (IV) Hele bir de sıcak çikolata ya da kakaolu süt varsa ateş başında oturup gökyüzündeki yıldızları izlemenin tadına doyum olmaz.

Bu parçada numaralanmış cümlelerle ilgili aşağıdakilerden hangisi söylenemez?

- A) I. cümlede karşılaştırma yapılmıştır.
B) II. cümlede amaç-sonuç ilişkisi vardır.
C) III. cümlede koşul anlamı söz konusudur.
D) IV. cümlede öznel anlatımdan yararlanılmıştır.

5. (I) En şiddetli fırtınaların yaşandığı Neptün gezegeninin tahminen 12 uydusu bulunur. (II) Uydularından biri olan Triton, buz kütlesi şeklindedir ve uzaya gaz ile çamur püskürtür. (III) Neptün, dünyadan bakıldığında görülemez çünkü oldukça soluk bir gezegendir. (IV) Teleskop ile bakıldığında ise yeşilimsi renge sahip, disk biçiminde bir gezegen olduğu görülür.

Bu parçada numaralanmış cümlelerin hangisinde bir durum, nedeniyle birlikte verilmiştir?

- A) I. B) II. C) III. D) IV.

6. Solgun yüzlü aşçı, bir kenara geçip oturdu. Yüz ifadesinden, bir derdi olduğu anlaşılıyordu - - - - kimselere bir şey söyleyemiyordu. Zaten hiçbir zaman muhtaçlığını belli etmezdi, onurluydu; insanları kendi derdiyle meşgul etmek istemezdi.

Bu parçada boş bırakılan yere anlam akışına göre aşağıdakilerden hangisi getirilemez?

- A) ancak B) fakat
C) ama D) çünkü

7. Tosun Bey dışarı çıkıp aceleyle atını değiştirdi. Padişahın otağını tek başına arayacaktı. Güneş batmış, hava karamaya başlamıştı. Köpüren derelerden geçti. Orman yollarına girdi. Tepelere çıktı. Dört yana naralar savurdu. Sesinin yankılarından başka bir karşılık alamadı. Yağmur durmuyordu. "Yarın erkenden çıkar, bulurum." diyerek geri döndü. Dizgini boş bırakıyor, geldiği yollardan atının içgüdüleriyle dönebiliyordu.

Bu parçada anlatılanlar, aşağıdaki zaman dilimlerinin hangisinde gerçekleşmiştir?

- A) Sabah B) Öğle
C) Akşam D) Gece

8, 9, 10 ve 11. soruları aşağıdaki parçaya göre cevaplayınız.

8. Zeliha Nine bir gün, köylüleri endişe içinde bir şeyler konuşurken gördü. Merak edip yanlarına yaklaştı. Köylüler, yetiştirdikleri domatesten bu yıl yine verim alamamıştı. Domatesler her sene biraz daha kötüleşiyordu. Eski domateslerin lezzetinden, kokusundan eser kalmamıştı. Zeliha Nine konuşulanları duyunca hemen evine gitti, sandığını açtı. İçinden minik bir bohçayı alıp tekrar köy meydanına indi. Elindeki bohçayı köylülerin oturduğu masaya bıraktı. Alın bakalım, dedi. Meraklı gözler arasında bohçayı açtı. İçinde kurumuş domates çekirdekleri vardı. Zeliha Nine, "Ben size hep '- - - -' demiyor muyum? Bunlar eskiden yetiştirdiğimiz o güzel domateslerin tohumu. Yetiştirin, çoğaltın. Bir daha da tarlanıza bundan başka tohum sokmayın." dedi. Köylüler tohumları ekip çoğalttılar ve hep sakladılar. Anladılar ki yokken değil varken kıymetini bilmeliymiş.

Bu parçada boş bırakılan yere aşağıdaki atasözlerinden hangisi getirilmelidir?

- A) Sakla samanı gelir zamanı.
B) Birlikten kuvvet doğar.
C) Damlaya damlaya göl olur.
D) Araba devrilince yol gösteren çok olur.

9. **Köylüler niçin endişeli bir şekilde konuşuyorlardı?**

- A) Domates tohumu bulamadıkları için
B) Domatesten verim alamadıkları için
C) Domatesler satılmadığı için
D) Topraklarında domates yetişmediği için

10. Zeliha Nine'nin bahçesinde ne vardı?





- A) Bir miktar para
- B) Küçük bir sandık
- C) Güzel kokulu domatesler
- D) Kurumuş domates çekirdekleri

11. Bu parçadaki altı çizili deyimın anlamı aşağıdakilerden hangisidir?

- A) Zararı bulunmamak
- B) Bitkin bir duruma gelmek
- C) Hiçbir belirti, iz olmamak
- D) Fırsat bulamamak

12. Garibim;
Ne bir güzel var avutacak gönlümü,
Bu şehirde,
Ne de bir tanıdık çehre;
Bir tren sesi duymaya göreyim,
İki gözüm,
İki çeşme.

Bu dizelerin ana duygusunu ortaya koyan yüz ifadesi aşağıdakilerden hangisidir?

- A) 
- B) 
- C) 
- D) 

13. Burası, her tarafında su kanalları bulunan bir ülke. Çünkü ülke topraklarının dörtte biri su seviyesinin altında. Burada çok fazla yel değirmeni var. Bunlar, toprakları su baskınından korumak için kullanılıyor. Yani bizim bildiğimiz gibi buğday ve tahıl öğütmek için değil. Küçük küçük köprüleri ve etraftaki sevimli evleri geçerek yel değirmenlerine ulaşmaya çalışıyoruz. Biz yel değirmenlerine yaklaştıkça değirmenlerin pervaneleri hareketlenmeye başlıyor. Bu bölgenin epey rüzgârlı olduğunu söylemeliyim. Hafif bir uğultu, rüzgâra karışıyor.

Bu parçada sözü edilen ülkede yel değirmenlerinin kullanım amacı aşağıdakilerden hangisidir?

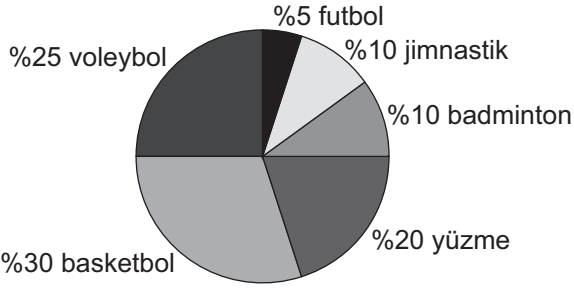
- A) Buğday ve tahıl öğütmek
- B) Su baskınlarını önlemek
- C) Rüzgârın etkisini azaltmak
- D) Göletleri kurutmak

14. Ana dilimizin her sözcüğü bize farklı bir tat verir. "Sevgili, biricik, yeşil, duygu, şiir" sözcükleri ne kadar tatlıdır! "Güç, kuvvet, kudret" sözcüklerinde sanki bir güç gizlidir. "Aslan, kaplan, kartal"da sanki bir yücelik vardır. "Kuş"ta kuşun civıltısını, "yılan"da yılanın yerde sürünüşünü, "toprak"ta toprağın katılığıını duyarız. "Gülümsemek"te gülümseyişin tatlılığı, "düşünmek"te düşüncenin derinliği var gibidir. Her biri ayrı bir tat, ayrı bir güzelliştir.

Bu parçaya getirilebilecek en uygun başlık aşağıdakilerden hangisidir?

- A) Sözcüklerin Tadı
- B) Dil ve Kültür
- C) Sözcüklerin Anlamları
- D) Dilin Gelişimi

15.



Bu grafik 5/B sınıfının okuldaki spor kurslarına katılım oranlarını göstermektedir.

Buna göre aşağıdakilerden hangisi söylenebilir?

- A) Katılım oranının en az olduğu spor kursu jimnastiktir.
- B) Badminton ve futbola katılım oranı birbirine eşittir.
- C) Basketbola voleyboldan daha fazla katılım olmuştur.
- D) Yüzme kursuna jimnastikten daha az katılım vardır.

16. Aşağıdaki cümlelerin hangisinde yazım yanlışı vardır?

- A) Apartmanın 7'inci katından kedi sesleri geliyordu.
- B) Van Gölü'ne yapılan son dalışlar herkesi şaşırttı.
- C) Ömer Seyfettin'in "Yalnız Efe" adlı eserini okudunuz mu?
- D) Kütüphanemiz için bir ayda 3.550 kitap toplandı.

17. Arada bir dağlara, yıldızlara ve nehirlere bak ki bilgeliği ve sabrı öğrenebilesin.

Aşağıdakilerin hangisinde virgül (,) bu cümledeki göreviyle kullanılmıştır?

- A) Tamam, şimdi herkes beni dikkatle dinlesin.
- B) Küçük insanların büyük gururları olur, demişti.
- C) Rüzgâr mumu söndürür, yangını alevlendirir.
- D) İnsanı en çok korku, endişe ve kararsızlık yorar.

18. Kök, bir sözcüğün parçalanamayan, anlamlı en küçük parçasıdır. Başka bir deyişle sözcükte bulunan tüm ekler çıkarıldıktan sonra geriye kalan anlamlı kısım, o sözcüğün kökü sayılmaktadır. Bir sözcüğün kökü, o sözcüğün tamamı ile anlam bakımından ilişkili olmak zorundadır.

Buna göre aşağıdakilerin hangisinde sözcüğün kökü yanlış gösterilmiştir?

- A) Bırak yorgun başları, bu taşlarda uyusun.
- B) Bir damla suya hasret kalmışlardı.
- C) Akşamdan beri asker yolu gözlüyor.
- D) Bahçede saatlerce evcilik oynardık.

19. Yapım ekleri, sonuna geldiği sözcüğün yeni bir anlam kazanmasını sağlayan eklerdir.

Buna göre aşağıdaki altı çizili sözcüklerin hangisinde yapım eki yoktur?

- A) İyi bir dalgıç olmak için iyi yüzmek gerekir.
- B) Bu yıl, soğuk ve bol karlı bir kış geçirdik.
- C) Sargı içindeki kolunu hafifçe oynattı.
- D) İyiler daima kazanır, bunu sakın unutma.

20. Sorardım sırrını hiç düşünmeden:

I
"Bu fani gönlümün sevinci neden?"

II III
Beni günden güne meğer genç eden
Daima değişen maceralarmış!

IV

Bu dizelerdeki numaralanmış sözcüklerle ilgili aşağıdakilerden hangisi yanlıştır?

- A) I. sözcükte ünsüz türemesi vardır.
- B) II. sözcükte ünlü düşmesi vardır.
- C) III. sözcükte ünsüz yumuşaması vardır.
- D) IV. sözcükte ünlü daralması vardır.

MATEMATİK TESTİ

Bu testte, Matematik alanına ait 20 soru bulunmaktadır. Bu testin çözümü için önerilen süre 40 dakikadır.

1. Okunuşu "üç milyon üç yüz üç bin yetmiş üç" olan sayı aşağıdakilerden hangisidir?

A) 303 703 B) 3 303 073
C) 3 330 073 D) 33 300 073

2. 29 143 576 sayısının milyonlar basamağı ile binler basamağındaki rakamların sayı değerleri toplamı kaçtır?

A) 14 B) 12 C) 7 D) 5

3. 7, 13, 19, A, 31, B, C

Yukarıda verilen aralarındaki farkı sabit olan sayı örüntüsünde A, B ve C sayılarının toplamı kaçtır?

A) 80 B) 93 C) 105 D) 111

4. 0, 2, 3, 4, 6 rakamlarının tümü kullanılarak yazılabilecek en büyük beş basamaklı doğal sayı ile bu rakamların tümü kullanılarak yazılabilecek beş basamaklı en küçük doğal sayı arasındaki fark kaçtır?

A) 25 974 B) 40 860
C) 43 974 D) 61 974

- 5.

$$\begin{array}{r} K 5 L 4 \\ + M 7 8 \\ \hline 2 9 4 2 \end{array}$$

Yukarıdaki toplama işlemine göre K + L + M kaçtır?

A) 11 B) 12 C) 13 D) 14

6. Aşağıdaki eşitliklerden hangisi yanlıştır?

A) $75\ 000 \div 100 = 75$
B) $1760 \times 10 = 17\ 600$
C) $24 \times 1000 = 24\ 000$
D) $56\ 700 \div 10 = 5670$

7. 207×28 işleminin sonucu kaçtır?

- A) 5796 B) 6516
C) 6796 D) 7805

8.

$$\begin{array}{r} 3333 \overline{) 33} \\ \hline \end{array}$$

Yukarıdaki bölme işleminde bölüm kaçtır?

- A) 11 B) 101 C) 111 D) 1001

9. Aşağıdaki çarpma işlemlerinde çarpanlar en yakın onluğa yuvarlanarak işlemlerin sonuçları tahmin ediliyor.

Hangi işlemin tahmini sonucu gerçek sonucundan küçüktür?

- A) 25×36 B) 78×30
C) 57×65 D) 44×90

10. Bir okuldaki 697 öğrenci 23 öğrenci taşıyabilen araçlarla kitap fuarına götürülecektir.

Öğrencileri taşımak için en az kaç araca ihtiyaç vardır?

- A) 37 B) 31 C) 30 D) 28

11.

$$\begin{array}{r} A \overline{) B} \\ \hline \quad 32 \\ \hline \quad 11 \end{array}$$

Yukarıdaki doğal sayılarla yapılan bölme işlemine göre A en az kaçtır?

- A) 331 B) 363 C) 395 D) 427

12.

$$\begin{array}{r} 243 \\ \times 7A \\ \hline \dots 8 \\ + \dots \dots \\ \hline \dots B \cdot 8 \end{array}$$

Yukarıdaki çarpma işlemine göre A + B kaçtır?

- A) 8 B) 9 C) 10 D) 11

13. $a^3 = 8$ ve $3^b = 27$ olduğuna göre b^a kaçtır?

- A) 8 B) 9 C) 16 D) 18

14. $45 - (12 \times 3)$ işleminin sonucu kaçtır?

- A) 99 B) 63 C) 27 D) 9

15. Bir çiftlikteki 63 hayvanın 36 tanesi tavuk geri kalanları koyundur.

Buna göre bu çiftlikteki hayvanların toplam ayak sayısı kaçtır?

- A) 99 B) 140 C) 178 D) 180

16. İlk gün 32 soru çözen bir öğrenci bundan sonraki her gün bir önceki günden 3 soru fazla çözerse bir haftada kaç soru çözmüş olur?

- A) 190 B) 242 C) 287 D) 308

17. $9 < \blacktriangle < 10$ olduğuna göre \blacktriangle yerine aşağıdaki kesirlerden hangisi yazılabilir?

- A) $\frac{25}{3}$ B) $\frac{38}{4}$ C) $\frac{57}{9}$ D) $\frac{75}{7}$

18. Aşağıdaki kesirlerden hangisi $\frac{3}{2}$ kesrinin genişletilmesiyle elde edilemez?

- A) $\frac{9}{4}$ B) $\frac{12}{8}$ C) $\frac{15}{10}$ D) $\frac{30}{20}$

19. I. $\frac{4}{3} \dots \frac{5}{6}$
 II. $\frac{5}{3} \dots 1\frac{2}{3}$
 III. $\frac{1}{8} \dots \frac{1}{16}$

Verilen boşluklara aşağıdaki sembollerden hangileri yazılmalıdır?

- | | <u>I</u> | <u>II</u> | <u>III</u> |
|----|----------|-----------|------------|
| A) | < | = | < |
| B) | < | < | = |
| C) | > | > | < |
| D) | > | = | > |

20. 180 lirası olan Efe parasının $\frac{1}{3}$ 'ü ile pantolon, $\frac{1}{4}$ 'ü ile gömlek almıştır.

Buna göre Efe'nin geriye kaç lirası kalır?


- A) 45 B) 60 C) 75 D) 90



FEN BİLİMLERİ TESTİ

Bu testte, Fen Bilimleri alanına ait 20 soru bulunmaktadır. Bu testin çözümü için önerilen süre 40 dakikadır.

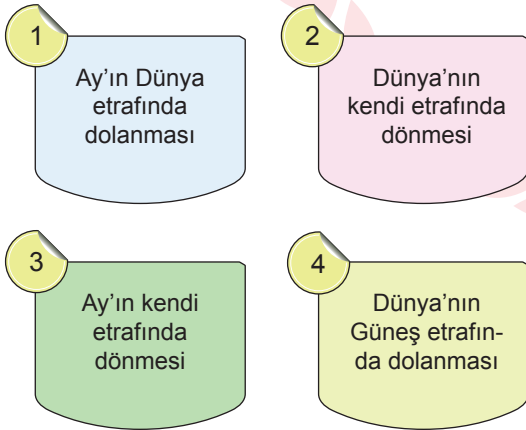
1.



Yukarıda fotoğrafı verilen Ay yüzeyindeki kraterler hangisi sonucu oluşur?

- A) Güneş patlamaları
- B) Ani sıcaklık değişimleri
- C) Uzaydan gelen meteorların çarpması
- D) Ay yüzeyinde meydana gelen levha hareketleri

2.



Yukarıda verilen hareketlerden hangisinin tamamlanması en uzun sürede gerçekleşir?

- A) 1. B) 2. C) 3. D) 4.

3.



Yeni Ay

Şekilde verilen Ay'ın "Yeni Ay" evresinden yaklaşık iki hafta sonra hangi evre gözlenir?

- A) Yeni Ay
- B) Şişkin Ay
- C) Dolunay
- D) Son Dördün

4.



Yukarıdaki verilen tanılayıcı dallanmış ağaçta verilen ifadelerin doğru "D" ya da yanlış "Y" olduğuna karar vererek ilerlediğimizde hangi çıkışa ulaşırız?

- A) 1. çıkış B) 2. çıkış
- C) 3. çıkış D) 4. çıkış

5. Güneş ile ilgili hazırlanan bir etkinlik tablosu aşağıda verilmiştir.

BİLGİLER	D / Y
Evrendeki en büyük yıldız Güneş'tir.	
Güneş, Dünya etrafında dolanma hareketi yapar.	
Güneş'in merkezindeki sıcaklık yüzeyindeki sıcaklıktan fazladır.	
Güneş ışınlarına doğrudan bakmak gözlerimiz için çok zararlıdır.	

Tabloda doğru bilgilerin yanına (D) yanlış bilgilerin yanına (Y) yazılırsa hangi seçeneğe ulaşılır?

- A) D B) Y
D Y
Y D
D D
- C) Y D) D
D Y
Y D
D Y

6.

Yeryüzüne çıkan yüksek sıcaklıktaki lavların etrafına zarar verdiği felakete - - - - denir.

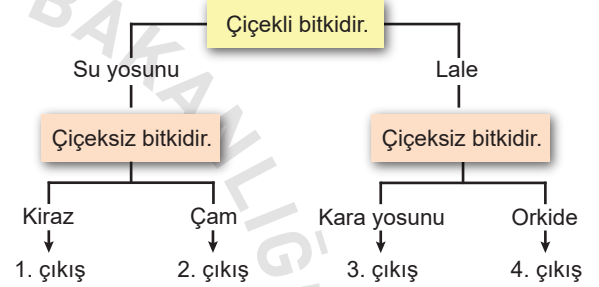
Yukarıda verilen tanımda boş bırakılan yere hangi kavram getirilmelidir?

- A) Heyelan B) Volkan
C) Kasırga D) Sel

7. Aşağıda verilenlerden hangisi deprem öncesinde alınması gereken tedbirlerden biridir?

- A) Başımızı cam parçalarından korumak
B) Evdeki yanan ocakları kapatmak
C) Bulduğumuz yerde kendimizi emniyete almaya çalışmak
D) Tavandaki avize gibi ağır objelerin bağlantılarını sıkılaştırmak

8.



Yukarıda verilen diyagramdaki özelliklere göre doğru bitkileri seçerek ilerlediğimizde hangi çıkışa ulaşırız?

- A) 1. çıkış B) 2. çıkış
C) 3. çıkış D) 4. çıkış

9. Çiçekli bitkiler genel olarak dört kısımdan oluşur. Bunlar kök, gövde, yaprak ve çiçektir.

Çiçek ile ilgili,

- I. Bitkinin üremesini sağlar.
II. Suyu kökten alıp yapraklara taşır.
III. Güzel koku ve rengiyle bazı canlıları kendine çekerek tozlaşmaya yardımcı olur.

İfadelerinden hangileri doğrudur?

- A) Yalnız I. B) I ve II.
C) I ve III. D) II ve III.

10.



Toprak solucanı



Denizyıldızı



Alabalık



Örümcek

Yukarıdaki canlılardan hangisi omurgasız hayvanlara örnek verilemez?

- A) Toprak solucanı
- B) Denizyıldızı
- C) Örümcek
- D) Alabalık

11. Şekilde bir hayvana ait özellikler verilmiştir.



- Doğurarak çoğalır.
- Yavrularını sütle besler.
- Suda yaşar.

Buna göre, özellikleri verilen canlı aşağıdakilerden hangisidir?

- A) Yunus
- B) Koyun
- C) Timsah
- D) Kurbağa

12. Mikroskopik canlılar ile ilgili,

- I. Kalın bağırsağımızda yaşayan bazı türleri B ve K vitamini üretirler.
- II. Verem ve zatürre gibi bulaşıcı hastalıklara yol açabilirler.
- III. Teleskop adı verilen bir araç yardımıyla görülebilirler.


ifadelerinden hangileri doğrudur?

- A) Yalnız I.
- B) I ve II.
- C) II ve III.
- D) I, II ve III.

13. Omurgalı hayvanlar ile ilgili aşağıdaki ifadelerden hangisi yanlıştır?

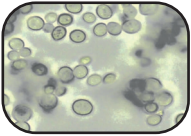



- A) Karada ya da suda yaşayabilirler.
- B) Kendi besinini ve oksijenini üretebilirler.
- C) Kıkırdak ve kemikten oluşan iskeletleri vardır.
- D) Vücutları tüylerle kaplı ve uçabilen üyeleri vardır.

14.

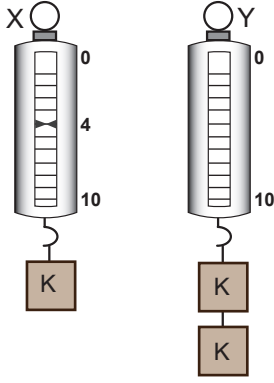


Bozulmuş Ekmek

Yukarıda verilen ekmeğin bozulmasına neden olan ve besinlerin üzerinde sarı, yeşil, siyah gibi renklerde görülebilen canlılar hangi seçenekte verilmiştir?

- A)  Parazit Mantarları
- B)  Maya Mantarları
- C)  Şapkalı Mantarlar
- D)  Küf Mantarları

15. Şekilde verilen özdeş dinamometrelerden X dinamometresi ile K cisminin ağırlığı ölçülmüştür.



Buna göre Y dinamometresinde okunacak değer kaç Newton'dur?

- A) 8 B) 10 C) 12 D) 16

16. Arkadaşları ile kelime oyunu oynayan Mine, aşağıdaki ipuçlarının yazılı olduğu karttan faydalanarak doğru cevabı buluyor.

- Birimi Newton'dur.
- Duran cismi harekete geçirebilir.
- Hareket halindeki cismi durdurabilir.
- Dinamometre ile ölçülür.

Buna göre Mine'nin bulduğu kelime hangisinde verilmiştir?

- A) Kütle B) Kuvvet
C) Sıcaklık D) Elektrik

- 17.



Paraşütle atlayan Halil'e etki eden hava direncinin yönü hangisidir?

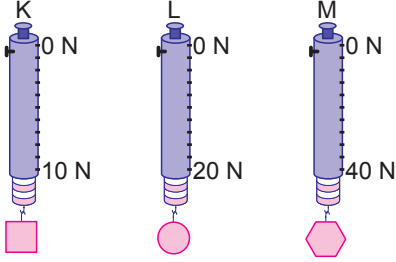
- A) 1 B) 2 C) 3 D) 4

18. Günlük hayatımızda sürtünme kuvvetinin artmasını istediğimiz durumlar olduğu gibi azalmasını istediğimiz durumlar da vardır.

Aşağıdaki örneklerin hangisinde sürtünme kuvvetinin azaltılması amaçlanmıştır?

- A) Kaleci eldivenlerinin iç yüzeylerinin pürüzlü olması
B) Futbolcuların giydiği kramponların tabanının çivili olması
C) Makinelerdeki birbirine temas eden parçaların yağlanması
D) Haltercilerin halteri kaldırmadan önce ellerine toz sürmeleri

19. Aşağıda farklı ölçüm aralıklarına sahip, özdeş ölçüm çubukları 10 eşit bölmeye ayrılmış K, L ve M dinamometreleri verilmiştir.



Bu dinamometrelerle ilgili,

- I. K dinamometresi daha hassas ölçüm yapar.
- II. 20 N'lık bir yük yalnız M dinamometresi ile ölçülebilir.
- III. L dinamometresinde her bölme 2 N'ı ölçer.

ifadelerinden hangileri doğrudur?

- A) Yalnız II. B) I ve III.
C) II ve III. D) I, II ve III.

20. Fizik, kimya, biyoloji ve astronomi alanında sayısız çalışmalar yapan, gökyüzündeki nesnelerin hareketini inceleyen, yer çekimini bulan ve kütle, kuvvet gibi kavramları açıklayan İngiliz bilim insanı kimdir?



Hans Lippershey



Isaac Newton



Galileo Galilei



Johannes Kepler



SOSYAL BİLGİLER TESTİ

Bu testte, Sosyal Bilgiler alanına ait 20 soru bulunmaktadır. Bu testin çözümü için önerilen süre 40 dakikadır.

1. Aşağıdakilerden hangisi sosyal bilgiler dersinin katkılarında değildir?

- A) Zihinden işlem yapmayı öğrenmek
- B) Vatandaş olarak hak ve sorumluluklarımızı öğrenmek
- C) Tarihimizi öğrenerek ulusal bilincimizi geliştirmek
- D) Dünyadaki kültürleri tanımak

2. Aşağıda verilen seçeneklerin hangisinde bir olay birden fazla kişiyi etkilemiştir?

- A) Fabrikada işe başlayan Ali işsizlik sorununu çözmüştür.
- B) Ayşe ilgi alanına girdiği için fotoğrafçılık kulübüne kaydolmuştur.
- C) Veli yeterli ve dengeli beslediği için sağlık sorunu yaşamamıştır.
- D) Penaltıdan gelen gol rakip takımın canını sıkarken bizi süper lige çıkarmıştır.

3. Annesi, babası ve küçük kardeşiyle birlikte yaşayan Ali aynı zamanda 5-A sınıfında okumaktadır.

Buna göre Ali'nin aşağıdaki rollerden hangisine sahip olduğu söylenemez?

- A) Evlat
- B) Oyuncu
- C) Ağabey
- D) Öğrenci

4. İnsanlar devletin kendisine tanıdığı haklardan yararlandığı gibi, vatandaşların da devlete karşı sorumlulukları vardır.

Buna göre aşağıda verilenler hak ve sorumluluk açısından değerlendirildiğinde hangisi diğerlerinden farklıdır?

- A) Eğitim almak
- B) Sağlık hizmetlerinden faydalanmak
- C) Temiz bir çevrede yaşamak
- D) Derse zamanında gelmek

5. Urartular, Van sınırlarındaki başkentleri Tuşpa'ya kale inşa etmişlerdir.

Bu durum aşağıdakilerin hangisinin göstergesidir?

- A) Güvenliği ön planda tuttuklarının
- B) Ticarete ileri gittiklerinin
- C) Ölümden sonraki hayata inandıklarının
- D) Tarım faaliyetlerinin yaygın olduğunun

6. Aşağıdakilerden hangisi bir toplumun başka bir toplum ile ticaret yaptığının kanıtı olarak gösterilebilir?

- A) Özgür düşünce ortamının olması
- B) Farklı ülkelere ait paraların kullanılması
- C) Topraklarının verimli olması
- D) Şehir devletleri hâlinde yaşamaları

7. Lidyalıların kendi ülkelerinden başlayıp Mezopotamya'ya kadar uzanan Kral Yolu'nu yapmalarının temel sebebi aşağıdakilerden hangisidir?

- A) Tarım B) Sanat
C) Ticaret D) Askerî

8. Anadolu uygarlıklarından biri olan İyonlar bilime büyük önem vermişlerdir.

Bu durum aşağıdakilerden hangisine ortam hazırlamıştır?

- A) Farklı ülkelerle ticaret yapmalarına
B) Çok sayıda kent kurmalarına
C) Lidyalılardan öğrendikleri parayı kullanmalarına
D) Birçok bilim adamının yetişmesine

9. Aşağıdakilerden hangisi doğal varlıklarımızdan biridir?



Selimiye Camisi



Efes Antik Kenti



Uzun Göl Yaylası



Topkapı Sarayı

10. Doğada kendiliğinden olan, insan eli değmeden oluşan varlıklara doğal varlık; insanlar tarafından ortaya konan eserlere ise tarihî eser denilmektedir.

Bu bilgiye göre aşağıda yer alan eşleştirmelerden hangisi doğrudur?

Doğal Varlık	Tarihî Eser
A) Manyas Kuş Cenneti	- Efes Antik Kenti
B) İshak Paşa Sarayı	- Bolu Yedigöller
C) Munzur Çayı	- Gölcük Gölü
D) Aspendos Tiyatrosu	- Sümela Manastırı

11. Yurdumuzun değişik bölgelerinde çeşitli el sanatları ön plana çıkmıştır. Gaziantep yöresinde bakırcılık, Kayseri-Bünyan'da halıcılık, İznik'te ise çinçilik ön plandadır.

Buna göre el sanatlarıyla ilgili aşağıdaki ifadelerden hangisi doğrudur?

- A) Yalnızca kendi yörelerinde kullanılmıştır.
B) Kültürel unsurlarımızda çeşitlilik görülmüştür.
C) Yöreler arasında rekabet oluşturmuştur.
D) Değişime uğramadan günümüze ulaşmıştır.

12. Aşağıdakilerden hangisi bayramlarımızın kattığı değerler arasında değildir?

- A) Birlik ve beraberlik ruhunun oluşması
B) Duyarsızlaşmanın artması
C) Kin ve nefretin sevgiye dönüşmesi
D) Kardeşlik duygularının güçlenmesi

13. Türkiye fiziki haritasına bakıldığında batıdan doğuya doğru gidildikçe genel olarak haritanın renginin yeşilden kahverengiye doğru değiştiği görülmektedir.

Bu durumun sebebi aşağıdakilerden hangisidir?

- A) Doğuya gidildikçe havanın soğuması
B) Batıda ormanların daha çok olması
C) Batıdan doğuya doğru akarsuların artması
D) Batıdan doğuya doğru yükseltinin artması

14. İstanbul'un en kalabalık ilimiz olmasında aşağıdakilerden hangisinin etkisi diğerlerine göre daha azdır?

- A) Tarım
B) Sanayileşme
C) Ulaşım
D) Ticaret

15. Aşağıda verilen bölgelerin iklim özellikleri düşünüldüğünde hangi bölgede yaşayan insanların daha kalın elbiseler tercih etmesi beklenir?

- A) Akdeniz
B) Marmara
C) Ege
D) Doğu Anadolu

16. Bu iklim türünün etkili olduğu yerlerde bitki örtüsü bozuktur. Kışın yoğun kar yağışı nedeniyle yollar kapanabilmektedir.

Yukarıda özellikleri verilen iklim tipi aşağıdakilerden hangisidir?

- A) Karadeniz iklimi
B) Akdeniz iklimi
C) Karasal iklim
D) Çöl iklimi

17. Ülkemizde tarımın yoğun olarak yapıldığı yerlerin genel özellikleri arasında;

- yer şekillerinin sade olması,
- su kaynaklarının zengin olması,
- toprakların verimli olması gösterilir.

Buna göre aşağıda verilen yerlerin hangisinde tarımsal üretimin daha fazla olması beklenir?

- A) Adana
B) Hakkari
C) Bayburt
D) Ağrı

18.



Yukarıda verilen Türkiye fiziki haritasında yer alan renklendirmeler aşağıdakilerden hangisine göre yapılmıştır?

- A) Bitki örtüsü
B) Sıcaklık
C) Yükselti
D) Nüfus

19.

- I. Baraj
II. Köprü
III. Tünel

Yukarıda verilen beşerî ortamlardan hangileri ulaşım amacıyla oluşturulmuştur?

- A) I ve II.
B) I ve III.
C) II ve III.
D) I, II ve III.

20. Aşağıdakilerden hangisi doğal afetlerin zararlarını artıran nedenlerden biridir?

- A) İnsanların doğal afetler konusunda bilinçlendirilmesi
B) Evlerin dere yataklarından uzaklara yapılması
C) Binaların sağlam zeminler üzerine inşa edilmesi
D) Ev yapımında kalitesiz malzemelerin kullanılması

DİN KÜLTÜRÜ VE AHLAK BİLGİSİ TESTİ

Bu testte, Din Kültürü ve Ahlak Bilgisi alanına ait 20 soru bulunmaktadır. Bu testin çözümü için önerilen süre 40 dakikadır.

1. “Eğer yerde ve gökte Allah’tan başka ilahlar bulunsaydı yer ve göğün düzeni kesinlikle bozulurdu...”

(Enbiya suresi, 22. ayet)

Bu ayetten evrenle ilgili aşağıdaki sonuçların hangisine ulaşamaz?

- A) Yaratıcısı tektir.
B) Düzenli bir işleyişi vardır.
C) İnsana emanet edilmiştir.
D) Kendiliğinden oluşmamıştır.

2. Hiç kimseden karşılık beklemeden, sadece Allah’ın rızasını kazanmak için yapılan ibadetlere, güzel davranışlara ve insanlığa faydalı işlere - - - - denir.

Bu tanımdaki boşluğa aşağıdakilerden hangisi getirilmelidir?

- A) Farz
B) Sevap
C) Sunnet
D) Salih amel

3. I. Gece ve gündüzün oluşması
II. Mevsimlerin art arda sıralanışı
III. Teknolojik ürünlerin artması

Numaralanmış durumlardan hangileri evrendeki düzene örnek gösterilemez?

- A) Yalnız III.
B) I ve II.
C) II ve III.
D) I, II ve III.

4. **Aşağıdaki ayetlerden hangisi evrenin düzeniyle ilgili değildir?**

- A) “Göğü yükseltti ve ölçüyü koydu.”
(Rahmân suresi 7. ayet)
B) “Göklerin ve yerin hükümranlığı Allah’ındır...”
(Âl-i İmrân suresi 189. ayet)
C) “Güneş ve Ay bir hesaba göre hareket etmektedir.”
(Rahmân suresi 5. ayet)
D) “O, geceyi, gündüzü, güneşi ve ayı yaratandır. Her biri bir yörüngede yüzmektedirler.”
(Enbiyâ suresi 33. ayet)

5. **Aşağıdaki ayetlerden hangisinde ibadetlerin faydasından söz edilmektedir?**

- A) “Ey iman edenler! Allah’a ve Resulüne itaat edin...”
(Enfâl suresi, 20. ayet)
B) “Bilesiniz ki kalpler ancak Allah’ı anmakla huzur bulur.”
(Ra’d suresi, 28. ayet)
C) “Ben cinleri ve insanları ancak bana kulluk etsinler diye yarattım.”
(Zâriyât suresi, 56. ayet)
D) “Ey insanlar sizi ve sizden öncekileri yaratan Rabbi-nize kulluk ediniz...”
(Bakara suresi, 21. ayet)

6. **Aşağıdaki davranışlardan hangisi salih amel olarak değerlendirilemez?**

- A) Başkalarına selam vermek
B) Ödevi en güzel şekilde yapmak
C) Sınavda arkadaşına yardım etmek
D) Sofra hazırlanmasına yardım etmek

7. • Herkes için iyilik ve hayır istenmelidir.
• Kabul olması için acele edilmemelidir.
• Allah'ın razı olacağı dileklerde bulunulmalıdır.

Bu ifadeler aşağıdaki sorulardan hangisinin cevabı olabilir?

- A) Kime dua edilir?
B) Nasıl dua edilir?
C) Nerede dua edilir?
D) Ne zaman dua edilir?

8. **Aşağıdakilerden hangisi camilerin işlevlerinden biri değildir?**

- A) Barış ve kardeşliğin pekiştirildiği ortamlardır.
B) Birlik ve beraberliği güçlendirmeye vesile olurlar.
C) İnsanların dini yönden bilgilendirildiği mekânlardır.
D) Kimsesizlerin barınma ihtiyacının karşılandığı yerlerdir.

9. **Caminin aşağıda verilen bölümlerinden hangisi abdestle ilgilidir?**

- A) Minare
B) Mihrap
C) Şadırvan
D) Minber

10. **Aşağıdaki ayetlerden hangisi İhlas süresinde geçen ayetlerden biri değildir?**

- A) "De ki: Allah birdir."
B) "Bizi doğru yola ilet."
C) "O'nun hiçbir dengi yoktur."
D) "O doğurmamış ve doğmamıştır."

11. "Peygamberimizin sözlerine, fiillerine ve sahabenin davranışlarından onayladıklarına sünnet denir."

Buna göre aşağıdakilerden hangisi sünnete örnek gösterilemez?

- A) Sözünde durmak
B) Güler yüzlü olmak
C) Dişleri temizlemek
D) Gölgede dinlenmek

12. Aşağıdaki ayetlerden hangisi Kur'an-ı Kerim'deki dua örneklerinden biridir?

- A) "Rabbim! Beni ve soyumdan gelecek olanları namazı devamlı kılanlardan eyle..."
(İbrahim suresi, 40. ayet)
- B) "Sizden bir ücret istemeyen o kimselere tâbi olun; onlar doğru yoldadırlar."
(Yasin suresi, 21. ayet)
- C) "Ona, 'Cennete gir' denildi. 'Rabbimin beni bağışladığını ve güzel biçimde ağırlananlardan eylediğini keşke kavmim bilseydi!' dedi."
(Yasin suresi, 26 ve 27. ayetler)
- D) "Biz insanın önceden yapıp ettiklerine bakacağı, inkârcının da, "Keşke toprak olsaydım!" diyerek dö-vüneceği gün gerçekleşecek olan yakın bir azaba karşı sizi uyardık."
(Nebe suresi, 40. ayet)

13. "... İş hakkında onlara danış, karar verince de Allah'a güven, doğrusu Allah kendisine güvenenleri sever."
(Âl-i İmran suresi, 159. ayet)

Bu ayette aşağıdakilerden hangisine değinilmemiştir?

- A) Kararlı olmak
- B) İstişare etmek
- C) Çalışkan olmak
- D) Tevekkülde bulunmak

14. Zekât ibadetinin aşağıdaki özelliklerden hangisini desteklediği söylenebilir?

- A) Cesaret
- B) Cömertlik
- C) Güvenilirlik
- D) Bağışlayıcılık

15. "Ey Rabb'imiz! Bize dünyada da ahirette de iyilik ver. Bizi, rahmetinle cehennem azabından korusun."

"Ey Rabb'imiz! Ahirette hesabın görüleceği gün beni, annemi, babamı ve müminleri bağışla."

Bu dualarda aşağıdakilerden hangisi yer almaz?

- A) Ahiret
- B) Affetme
- C) Tevekkül
- D) Merhamet

16. • Zenginlerin ihtiyaç fazlası mallarının belirli bir oranını ihtiyacı olan kimselere vermesidir.
• Şartları taşıyan her Müslümanın, ömründe bir kez bir mekânı belli bir zamanda ziyaret etmesidir.

Tanımları yapılan bu ibadetler aşağıdakilerden hangisinde sırasıyla verilmiştir?

- A) Fitre - Hac
- B) Zekât - Hac
- C) Sadaka - Umre
- D) Zekât - Sadaka

17. Aşağıdakilerden hangisi oruçla ilgili kavramlardan biri değildir?

- A) İftar B) Sahur
C) İhram D) İmsak

18. Aşağıdaki davranışlardan hangisi doğru bir tevekkül anlayışına örnek verilebilir?

- A) Doktora gitmeden iyileşmeyi ummak
B) Rızıkı Allah verir deyip bir işte çalışmamak
C) Ders çalışmadan iyi not almayı ümit etmek
D) Bahçeyi ekip bakımını yaparak ürün beklemek

19. Caminin bölümleriyle ilgili aşağıdaki açıklamalardan hangisinde yanlışlık yapılmıştır?

- A) Mihrap: Camilerde kıbleyi gösteren ve imamın namaz kıldırıldığı yerdir.
B) Minber: Cuma ve bayram namazlarında imamın hutbe okuduğu yerdir.
C) Müezzin mahfili: Müezzinin, namazın vaktini haber vermek için ezan okuduğu yerdir.
D) Vaaz kürsüsü: Camide vaizin cemaati dini konularda bilgilendirdiği yerdir.

20. Allah'ım senin rızan için oruç tuttum, sana inandım ve sana güvendim. Senin verdiğin rızıkla orucumu açtım. Yarınki oruca niyet ettim.

Bu duaya verilen ad aşağıdakilerden hangisidir?

- A) İftar duası
B) Yemek duası
C) Yağmur duası
D) Gülbenk duası

YABANCI DİL TESTİ

Bu testte, İngilizce alanına ait 20 soru bulunmaktadır. Bu testin çözümü için önerilen süre 40 dakikadır.

1-11. sorularda boş bırakılan yere uygun gelen kelime ya da ifadeyi işaretleyiniz.

1. Before breakfast, Bob and his sister - - - - .

- A) have lunch
- B) brush my teeth
- C) come home late
- D) wash their hands and faces

2. **Michael** : - - - - ?

Harry : She is my mother. She prepares breakfast for us.

- A) Do you have breakfast with your family
- B) What does your mother do every morning
- C) Who gets up first in your family
- D) Does she go to bed early

3.



Yes. It's a grey building between the post office and the municipality.



- A) where is the post office
- B) is there a museum near here
- C) how can I go to the municipality
- D) are you in the city centre

4. **William** : You are always in the lab at school. - - - - ?

Carl : Yes, Science is my favourite lesson.

- A) What's your favourite lesson
- B) When is the Science class
- C) Do you like doing experiments
- D) Is it your timetable over there

5. **Brandon** : Look! This is my new violin.

Sheila : How nice. - - - - ?

Brandon : Yes, it's my favourite hobby.

- A) What about a guitar
- B) Who loves music
- C) Can you play it well
- D) Do you like Physical Education

6. **Patrick** : Hi, Mary. - - - - ? He is my new friend.

Andrew : Yes. You're from Egypt, right?

Salah : Yes, I'm Egyptian.

- A) Where are you from
- B) Does Salah speak English
- C) What nationality are you
- D) Do you know Salah

7.



Physical Education is my favourite class and ----.

- A) I don't like playing football
- B) I love doing gymnastics
- C) I hate sports clubs
- D) I do origami

8.



I ----.

- A) like doing puzzles
- B) would like to buy sweaters
- C) hate collecting stamps
- D) can knit beautiful jumpers

9. **Cameron** : Let's play a game. ----?

Jim : No, I hate board games. What about cycling?

Cameron : OK. It's fun.

- A) Can we go fishing
- B) Would you like to ride a bike
- C) Do you like playing chess
- D) What's your hobby

10.

I like going out and playing games with my friends in the playground. I ----.



- A) love blind man's buff
- B) like chess and checkers
- C) hate hopscotch and cycling
- D) would like to do puzzle

11. **Ricky** : What do you do at the weekends?

Mark : ----.

Ricky : I think you love nature very much.

Ricky : You're right.

- A) I get up late and have big breakfast
- B) I go hiking or climb mountains
- C) I do puzzle and origami
- D) I play Chinese whispers

12.

- Get up early
- Have breakfast
- - - - -
- Catch the school bus
- Classes start


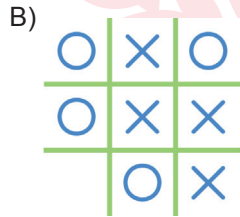

Yukarıda verilen işlerin sırası dikkate alındığında boş bırakılan yere seçeneklerden hangisi getirilmelidir?

- A) Have dinner
- B) Get back home
- C) Get dressed
- D) Go to bed late

13.

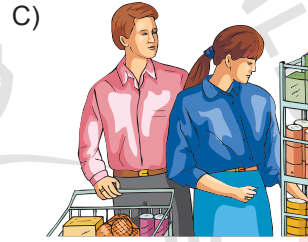
- Pierre likes playing tic-tac-toe.
- Donna loves doing origami.
- Cycling is Jim's hobby.

Verilen cümlelerle seçeneklerdeki görseller eşleştirildiğinde dışarıda kalan seçeneği işaretleyiniz.




14-15. sorularda metinde verilen bilgiye göre doğru görseli işaretleyiniz.

14. Mrs. Watson needs some vegetables for dinner. She also wants to buy some fruit. She is at the green grocer's now.



15. Brad is my new classmate. He is tall and fat. He's got short, brown and straight hair.



16-17. soruları aşağıdaki haritaya göre cevaplayınız.

Supermarket		School	S e s a m e S t r e e t	
	Book Store			Toy shop
Wall Street				
	Hospital			Bus stop
	Pharmacy			Bakery

16. Verilen haritaya göre eşleştirmelerden doğru olanı işaretleyiniz.

1. The hospital is	a. between the supermarket and the school
2. The book store is	b. opposite the museum
3. The bakery is	c. behind the bus stop
4. The school is	d. in front of the pharmacy

A) 1a - 2b - 3c - 4d

B) 1b - 2d - 3c - 4a

C) 1d - 2a - 3c - 4b

D) 1d - 2c - 3b - 4a

17.



Mark

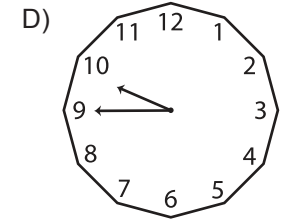
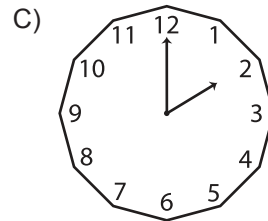
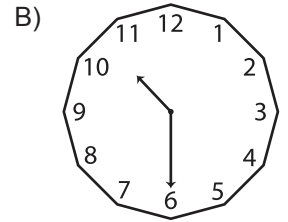
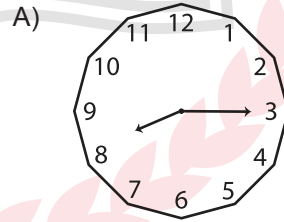
I'm near the bakery. How can I go to the supermarket?

- A) Go straight ahead. Turn left to Wall Street. Pass the school and book store. It's on your right.
- B) Go straight ahead on Sesame Street. Turn right and cross Wall Street. It's next to the hospital.
- C) Cross Wall Street. Go straight on Sesame Street. Turn right and walk over the bridge.
- D) Turn left to the second road. Pass the museum and cross the street. It's on your left.

18-20. soruları aşağıda verilen karşılıklı konuşmaya göre cevaplayınız.

- Sally** : I get up early because my classes start at quarter past eight. After breakfast, I go to school with my brother, David.
- Ted** : Every weekend, I go to sports club at two p.m. I read a newspaper after dinner. Then, I go to bed early.
- Tony** : I'm a teacher. I have a shower every morning and then I get dressed. I have breakfast at half past ten at school canteen. I come back home at three p.m.

18. Verilen metinlerde hangi saatten bahsedilmemiştir?




19. - - - - goes to sports club at the weekend.

- A) Ted
- B) Sally
- C) Tony
- D) David

20. Which one is true?

- A) Sally goes to school alone.
- B) Tony arrives home in the afternoon.
- C) Ted likes getting up early.
- D) Sally's classes finish at 8.15.




TEST BİTTİ.
CEVAPLARINIZI KONTROL EDİNİZ.



SINAV BAŞLAMADAN ÖNCE AŞAĞIDAKİ UYARILARI MUTLAKA OKUYUNUZ.

1. Sınav kimlik bilgilerinizin doğruluğundan emin olunuz.
2. Sınav başladıktan sonra çevrenizdekilerle konuşmayınız.
3. Soruları cevaplamaya istediğiniz sorudan başlayabilirsiniz.
4. Cevaplarınızı cevap anahtarındaki ilgili soru numarasını dikkate alarak uygun bölüme kodlayınız.
5. Değiştirmek istediğiniz cevabı cevap anahtarına kodladığınızdan emin olunuz.
6. Cevabını bilmediğiniz sorular üzerinde fazla zaman kaybetmeden diğer sorulara geçiniz. Zaman kalırsa bu sorulara daha sonra dönebilirsiniz.
7. Sınav puanınızın hesaplanmasında sadece doğru cevaplarınız dikkate alınacaktır.
8. Cevap anahtarınızı sınav süresince başkalarının göremeyeceği şekilde önünüzde bulundurunuz.
9. Sınav sırasında sözlük, hesap makinası, cep telefonu ve bilgisayarınızın bu özelliklerini kullanmayınız.
10. Sınav süresince yerinizden ayrılmayınız.

Bu kitapçığın cevap anahtarına ulaşmak için karekodu okutunuz.



Bu kitapçığın her hakkı saklıdır. Hangi amaçla olursa olsun, kitapçığın tamamının veya bir kısmının Millî Eğitim Bakanlığı Ölçme, Değerlendirme ve Sınav Hizmetleri Genel Müdürlüğünün yazılı izni olmadan kopya edilmesi, fotoğraflarının çekilmesi, bilgisayar ortamına alınması, herhangi bir yolla çoğaltılması, yayımlanması ve başka bir amaçla kullanılması yasaktır. Bu yasağa uymayanlar, doğabilecek hukukî sorumluluğu ve sınavın hazırlanmasındaki malî yükümlülüğü peşinen kabullenmiş sayılır.