



1-Dianne Dengel'e ait "Home Sweet Home" adlı tabloya bakarak bu tablodaki insanlarla ilgili,

- I. Şehrin dışında fakir bir mahallede oturmaktadırlar.
- II. Başka canlılarla bir arada yaşayabilmektedirler.
- III. Onları üzecek hiçbir dertleri yoktur.
- IV. Mutlu oldukları yüzlerine bakınca anlaşılabilir.

yargılarından hangilerine ulaşılabilir?

- A) I ve II. B) I ve III.
C) II ve IV. D) III ve IV.

2-Bu tabloyla ilgili aşağıdaki cümlelerden hangisi kanıtlanabilirlik açısından diğerlerinden farklıdır?

- A) Soldaki soba uzun zaman önce sönmüştür.
B) Yatakta yatanların hepsi derin uyku halindedir.
C) Babasını en çok seven çocuk, babasına sarılarak yatan çocuktur.
D) Pencere bir perde ile kapatılmamıştır.

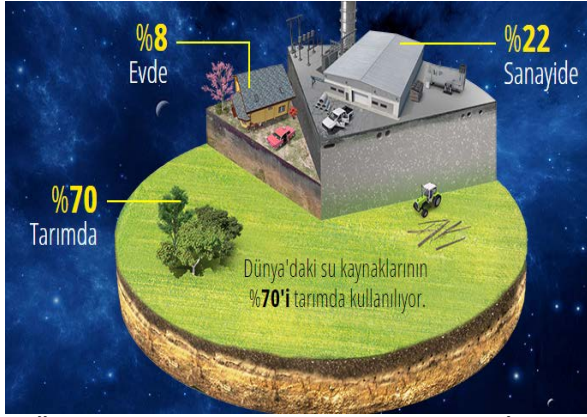
3-Sadece tabloya bakılarak çocuklarla ilgili aşağıdakilerden hangisine ulaşılabilir ?

- A) Çocukların kaçının erkek kaçının kız olduğuna
B) Yatmakta olan kaç çocuk olduğuna
C) En büyüklerinin hangisi olduğuna
D) Hangisinin en sağlıklı ve güçlü olduğuna

4-Aşağıdaki cümlelerden hangisi tabloda anlatılmak isteneni en iyi özetler?

- A) Aile bireyleri bir aradayken karşılaştıkları bütün sorunların üstesinden gelebilir yeter ki birbirlerine sıkı sıkı bağlansınlar.
B) Hayvanlar, insanların en sevimli dostlarıdır bu yüzden onları da ailemizin bir bireyi olarak kabul etmeliyiz.
C) Mutlu olmak için paraya, maddi şeylere ihtiyacımız yoktur; sahip olduklarımız, sevdiğimizimiz, ailemiz bunun için bize yeter.
D) Anne babalar çocuklarını yetiştirirken onlara karşı daima sevgi dolu olmalıdır çünkü birbirini seven mutlu aileler tarafından yetiştirilen çocuklar başarılı olur.

Dünya'daki Su Nerede, Ne kadar Kullanılıyor?




DÜNYA

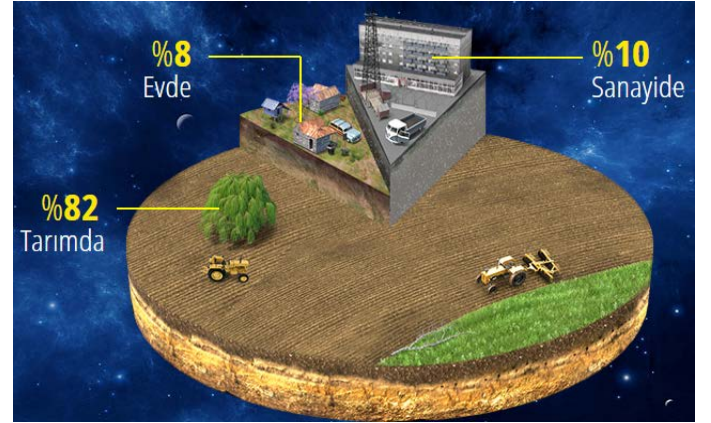
GENELİNDE



YÜKSEK GELİRLİ ÜLKELERDE



TÜRKİYE'DE



DÜŞÜK VE ORTA GELİRLİ ÜLKELERDE

5-Verilen grafiklere göre aşağıdakilerden hangisi söylenemez?

- A) Suyu en çok sanayi amaçlı kullananlar yüksek gelirli ülkelerdir.
- B) Dünya genelinde su daha çok tarımda kullanılmaktadır.
- C) Evde en çok su tüketenler düşük ve orta gelirli ülkelerde yaşayanlardır.
- D) Türkiye'de tarımda kullanılan su miktarı evde ve sanayide kullanılan toplam su miktarından fazladır.

6- Sadece verilen grafiklere bakılarak aşağıdaki yargılardan hangisine ulaşılabilir?

- A)Yüksek gelirli ülkeler tarıma gereken önemi vermemektedir.
- B) Düşük ve orta gelirli ülkelerde evlerde kullanılan su miktarı yeterli düzeyde değildir.
- C) Dünya genelinde evlerde kullanılan sağlıklı su sıkıntısı önemli bir sorundur.
- D) Türkiye'de yaşayan insanlar diğer ülkelerde yaşayan insanlara kıyasla evde daha çok suya ihtiyaç duymaktadır.

7-Grafiklere bakılarak Dünya'da kullanılabilir su rezervinin ciddi anlamda azalması en çok hangi problemi tetikler?

- A) Teknolojik ilerlemenin yavaşlaması
- B) Sanayideki gerileme ve buna bağlı olarak ortaya çıkan işsizlik
- C) Temizlik amacıyla kullanılacak su bulamama
- D) Yiyecek sıkıntısı

8- Grafikleri inceleyen bir kişi aşağıdaki bilgilerden hangisine ulaşılabilir?

- A) Ülkemizdeki kullanılabilir su miktarına
- B) Düşük ve orta gelirli ülkelerde en çok hangi tür tarımsal faaliyetler yapıldığına
- C) Suyu daha çok sanayi amaçlı kullanan ülkelerin sayısına
- D)Dünya'da tarımsal amaçlı kullanılan suyun tüm su miktarına göre oranına

SPOR TOTO 3. LİG 1. GRUP			
TÜRKİYE- SPOR TOTO 3. LİG 1. GRUP			
12 Bingöl Dardanelspor	75'	0	0
Bayrampaşa Bergama Bld.	70'	1	1
Catalca Kozan	70'	0	1
Düzcespor Altındağ Bld.	75'	0	0
Erzin Dfspor	74'	1	3
Kemerspor 2003 Halide E.	75'	0	1
Manisa Batman Petrolspor	75'	2	0
Orhangazispor Erbaaspor	75'	4	0
Yomraspor Bayburt	74'	0	0

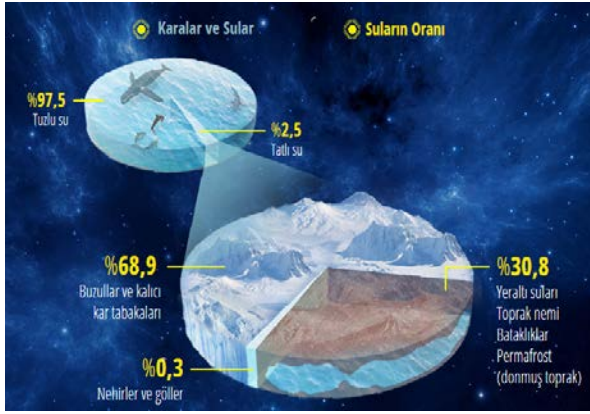
SPOR TOTO 3. LİG 1. GRUP			
TÜRKİYE- SPOR TOTO 3. LİG 1. GRUP			
6. Düzcespor -1	0:0	32	39:33 51
7. Halide E.	1:0	32	44:29 50
8. Erbaaspor	0:4	32	44:40 45
9. Batman Petrolspor	0:2	32	39:34 44
10. Altındağ Bld.	0:0	32	39:42 39
11. Kozan +1	1:0	32	40:48 38
12. Catalca -1	0:1	32	26:35 36
13. Yomraspor	0:0	32	22:40 36
14. Erzin	1:3	32	32:50 33
15. 12 Bingöl	0:0	32	27:41 31
16. Orhangazis... +1	4:0	32	30:47 30
17. Bergama Bld. -1	1:1	32	33:53 30
18. Dardanelspor	0:0	32	34:49 25

2017-2018 sezonunda Türkiye 3. Ligi 1. Grup'ta takımlar arasında kıyasıya bir mücadele vardır. Ama bu mücadele bir üst lige çıkmak için değil bir alt lige düşmemek içindir. Otuz dört hafta sürecek olan sezonun bitiminde son üç sırada yer alan takımlar alt lige düşecektir. Yukarıdaki tablolarda 32. hafta maçlarının son on beş dakikaya girilirken durumu ve bu durumun maç sonucu olması halinde oluşacak puan tablosu verilmiştir. Lig kuralları gereği maçlarda yenen takıma 3 puan beraberliklere birer puan verilecektir. Yenilen takım puan alamayacaktır. Puan eşitliği durumunda en fazla gol atan takım ligde kalacaktır. Atılan goller de eşitse daha fazla gol yiyen takım bir alt lige düşecektir. Takımların sıralandığı tabloda takım adlarının

karşısında sırasıyla takımın oynadığı maç sayısı, takımın attığı gol sayısı, takımın yediği gol sayısı ve en son sırada da kazandığı puan verilmiştir.

9-Yukarıdaki maçlarda son on beş dakikada sadece bir gol atılmış ve bir takımın son iki maçını oynamadan bir alt lige düşmesi kesinleşmiştir. Bu bilgiye göre gol atan takım hangisidir ?

- A) Bayrampaşa
- B) 12 Bingöl
- C) Bergama
- D) Orhangazi



10- Yukarıda yer alan grafik için yapılan yorumlardan hangisi doğrudur?

A) Dünya'nın %97,5'i sularla kaplıdır. Bu suların %2,5'i tatlı sudur. Bu tatlı suyun %68,9'u buzullar ve kalıcı kar tabakalarından, %30,8'i yer altı suları ve bataklıklardan geri kalan %0,3'ü ise nehir ve göllerden oluşmaktadır.

B) Dünya'nın %97,5'i sularla kaplıdır. Bu suların %2,5'i tatlı sudur. %68,9'u buzullar ve kalıcı kar tabakalarından, %30,8'i yer altı suları ve bataklıklardan geri kalan %0,3'ü ise nehir ve göllerden oluşmaktadır.

C) Dünya'nın %97,5'i tuzlu sularla kaplıdır. Geri kalan %2,5'i ise tatlı sudur. Bu tatlı suyun %68,9'u buzullar ve kalıcı kar tabakalarından, %30,8'i yer altı suları ve bataklıklardan geri kalan %0,3'ü ise nehir ve göllerden oluşmaktadır.

D) Dünya'nın %97,5'i tuzlu sularla kaplıdır. Geri kalan %2,5'i ise tatlı sudur. Bu tatlı suyun %68,9'u buzullardan %30'u kalıcı kar tabakalarından, %30,8'i yer altı suları ve bataklıklardan geri kalan %0,3'ü ise nehir ve göllerden oluşmaktadır.

11-

Fiillerin dilek şart kipinin 2. Tekil veya çoğul şahıslarından sonra gelerek anlamı kuvvetlendiren -e/-a eki "işin yapılmasının istendiğini" veya "acele yapılmasının gerektiğini" bildirir. Örneğin, "Bu gece bizde kalsana." cümlesinde bir isteği, "Hadi artık okusana!" cümlesinde ise işin acele yapılması gerektiğini anlarız.

Bu açıklamaya göre aşağıdaki cümlelerin hangisinde e/-a diğerlerinden farklı bir anlamda kullanılmıştır?

- A) Onunla bir de sen konuşana!
- B) Anne, bu akşam köfte pişirsene!
- C) Yeter artık, bana olan borcunu ödesene!
- D) Ayla Hanım, o güzel sesinizle bize bir şarkı söyleyene!

Pasifik Okyanusu ile Atlantik Okyanusu Nikaragua'dan Birleşecek

Yıllardır Kuzey Amerika ve Güney Amerika'nın birleştiği yerde bulunan Panama, kanaldan yılda milyonlarca dolar para kazanıyor. Nikaragua ise 40 milyar dolarlık "çılgın proje" siyle bu pastaya ortak olmaya hazırlanıyor. Kanalın inşaatıyla ilgili gerekli izin dün parlamentodan çıktı.



Kanal Pasifik Okyanusu ile Atlantik Okyanusu'nu birleştirecek.

Kanalın 172 deniz mili uzunluğunda olması bekleniyor. Projeyi, Hong Kong merkezli HKND grup üstlenecek. Kanalın uzunluğunun Panama Kanalı'nın üç katı fazla olması bekleniyor. Fakat Nikaragua'nın kanal projesine çevrecilerden ciddi tepkiler var. Kanalın ülkenin en önemli tatlı kaynaklarından Nikaragua Gölü'nün ekolojik dengesini bozmasından endişe ediliyor. Kanalın 2019 yılında inşaatının bitirilmesi 2020 yılında da faaliyete geçmesi bekleniyor. Panama Kanalı 1914 yılında inşa edilmiş ve 375 milyon dolara mal olmuştu. Kanalın inşası sırasında binlerce işçi yaşamını yitirmişti.

(Hürriyet Gazetesi)

12- Bu parçaya göre yapılması planlanan kanalın Panama Kanalı'ndan farkı aşağıdakilerden hangisinde doğru işaretlenmiştir?

	Panama Kanalı'na Göre Uzun	Panama Kanalı'na Göre Kısa	Panama Kanalı'na Göre Ucuz	Panama Kanalı'na Göre Pahalı
A)	✓			✓
B)		✓	✓	
C)	✓		✓	
D)		✓		✓

Osman Nuri Ersezgin Ortaokulunda 20/04/2018 tarihinde çok önemli bir gün yaşandı. Okul müdürünün “Niye ulusal bir çalıştay düzenlemiyoruz?” teklifi üzerine Türkçe öğretmenleri Numan Gençer ve Davut Gezer’in ara buluculuğuyla yurt çapında eserleriyle öne çıkmış Türkçe öğretmenleri Mesut Hayat, Bilal Kış, Bekir Ünver ve Rıdvan Yılmaz başta olmak üzere her ilden bir temsilcinin katıldığı “2020’ye Kadar Çözülmesi Gereken Dil ve Yazım Kuralları çalıştayı” düzenlendi. TDK’den de bir temsilcinin katıldığı çalıştay sonucunda üzerinde anlaşma sağlanan 15 madde basın açıklamasıyla kamuoyuna duyuruldu. İki gün süren yorucu çalıştaya katılan uzmanlara basın açıklamasından sonra Bergama’nın tarihi ve turistik yerleri gezdirildi. Özellikle Akropol, Asklepion ve Bazalika’ya hayran kalan misafirlerden Bekir Ünver’in “Madem başladınız, bundan sonra her yıl bir çalıştay düzenlemelisiniz.” sözü katılımcıların memnuniyetini özetleyen bir söz oldu.

13-Yukarıdaki paragraftan hareketle aşağıdaki yargıların hangisi kesin olarak çıkar?

- A) Sözü edilen çalıştay Türkiye’de bir okulun düzenlediği ilk çalıştaydır.
- B) Katılımcıların hepsi il merkezlerinde görev yapmaktadır..
- C) Okul müdürü çalıştay teklifini 2018 yılının 20 Nisan gününde yapmıştır.
- D) Çalıştaya 80’in üzerinde uzman katılmıştır.

14- Metinde yapılan yazım yanlışları aşağıdakilerden hangisi yapılarak düzeltilmelidir?

- A) “ara buluculuğuyla” ifadesi “arabuluculuğuyla” yapılarak
- B) “2020’ye Kadar Çözülmesi Gereken Dil ve Yazım Kuralları çalıştayı” ifadesi “2020’ye Kadar Çözülmesi Gereken Dil ve Yazım Kuralları Çalıştayını” yapılarak
- C) “kamuoyuna” ifadesi “kamu oyuna” yapılarak
- D) “TDK’den de” ifadesi “TDK’dan da” yapılarak

15- Bekir Ünver’in paragrafta yer alan cümlesine anlamca en yakın cümle aşağıdakilerden hangisidir?

- A) Çalıştay toplama işini sadece siz yapabilirsiniz.
- B) Bu çalıştayı geleneksel hale getirmelisiniz.
- C) Bu çalıştaya seneye ev sahipliği yaptıktan memnun oluruz.
- D) Bu çalıştayı uluslararası bir şekilde düzenleyip her yıl yapmalısınız.

16- Yukarıdaki paragraf aşağıdaki metin türlerinden hangisinin örneğidir?

- A) Gezi yazısı
- B) Söyleşi
- C) Haber yazısı
- D) Makale

Altın Nokta Yayınevinde her akşamüstü yaşanan tatlı telaş tekrar başlamıştı. Gün boyu bayilerden gelen siparişler hazırlanıyor ve kargoya verilmek üzere kolileniyordu. Bugünkü siparişlerin tamamı Nartest Yayınlarından çıkan LGS Türkçe, matematik ve fen bilimleri denemelerindendi. Sipariş veren bayiler ise Aydın, Konya, Gaziantep, Muğla, Denizli, Rize ve Fethiye'dir. Yedi bayiden toplam 11 sipariş gelmişti. Son anda gelen siparişler bazen karışıklık yaşanmasına neden oluyordu. Gün içinde aynı bayiden birden fazla sipariş olabiliyor her sipariş ayrı ayrı paketleniyordu. Bugün bir bayi üç kez, iki bayi ikişer kez, diğerleri ise bir kez sipariş vermişti.

Siparişler ve bayiler hakkında bilinenler şunlardır:

- A) Aydın ve Rize bayileri eşit sayıda sipariş vermiştir.
- B) Fethiye bayisinin verdiği sipariş sayısını hiçbir bayi vermemiştir.
- C) Denizli bayisinin verdiği sipariş sayısı
- D) Muğla'yla aynı Gaziantep bayisinden farklıdır.

17-Verilen bilgiler doğrultusunda aşağıdakilerden hangisi kesinlikle doğrudur?

- A) Gaziantep ve Konya bayileri bir kez sipariş vermiştir.
- B) Denizli ve Muğla bayileri bir kez sipariş vermiştir.
- C) Aydın ve Rize bayileri bir kez sipariş vermiştir.
- D) Fethiye bayisi dışında hiçbir bayinin kaç kez sipariş verdiğini bilemeyiz.

18-Altın Nokta Yayınevine yapılan her siparişin aynı sayıda olduğunu varsayarsak aşağıdaki yargıların hangisi kesinlikle doğrudur?

- A) Fethiye'ye giden kitap sayısı Aydın ve Rize'ye giden toplam kitap sayısından fazladır.

- B) Fethiye'ye giden kitap sayısı Gaziantep ve Konya'ya giden toplam kitap sayısından fazladır.
- C) Fethiye'ye giden kitap sayısı Denizli ve Muğla'ya giden toplam kitap sayısından fazladır.
- D) Fethiye'ye giden kitap sayısı Konya ve Denizli'ye giden kitap sayısından fazladır.

Emine Hoca sınav yapacaktı. Sınav günü kar yağdığı için sınıfın çoğunluğu okula gelemedi. 7/D sınıfında öğrencilerden sadece Ayça, Ceren, Ece, Musa ve Efe vardı. Buna rağmen Emine Hoca sınav yapmakta kararlıydı. Zaten sorular da kolaydı. Öğrenciler soruların kolay olduğunu görünce çok sevindiler. Sınavı hemen bitirip bahçede oyun oynamak istediler. **7/D sınıfının önünde sınav boyunca sınıfı gözlemleyen biri şunları söylemiştir:**

Efe sınav kağıdını verip bahçeye çıktığında sınıfta kalan kişi sayısı birdir. Hangisinin önce çıktığı bilinmemekle birlikte Ece ile Ceren art arda dışarı çıkmıştır. Musa bahçeye çıktığında sınıftan daha önce kimse dışarıya çıkmamıştı.

19-Yukarıdaki bilgilere göre aşağıdakilerden hangisi kesin olarak söylenir?

- A) Efe, Ceren'den önce çıkmıştır.
- B) Ayça, Efe'den önce çıkmıştır.
- C) Ceren, Ayça'dan önce çıkmıştır.
- D) Ece, Musa'dan önce çıkmıştır.

20- 7/D sınıfını sınav boyu gözlemleyen kişi bazı öğrencilerin adlarını karıştırmıştır. Adları karıştırılan öğrenciler Ece ile Ayça ve Musa ile Efe'dir. Bu durumda aşağıdakilerin hangisi kesinlikle söylenir?

- A) Sınıftan ilk çıkan Musa'dır.
- B) Ayça sınıftan çıkan 3.kişidir.
- C) Ceren sınıftan çıkan 2.kişidir.
- D) Musa sınıftan çıktığında sınıfta öğrenci kalmamıştır.